

Adı:
Soyadı:



Matematik
2/F Çalışma Kağıdı



Tarih
...../...../2017

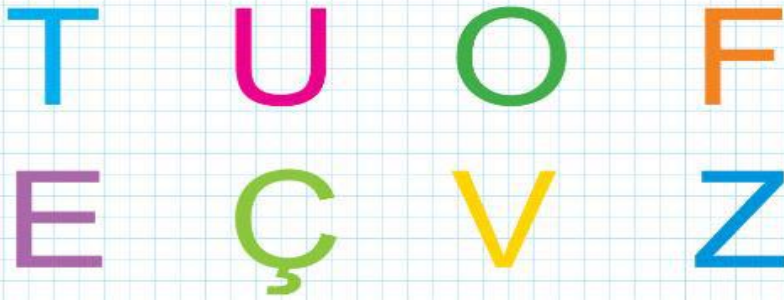
----Onluğa yuvarla----

• Verilen sayıların en yakın onluklarını yazalım.

52 → 47 → 73 →	84 → 31 → 65 →
26 → 81 → 77 →	93 → 62 → 86 →

----- Simetrik Nesnelere -----

Aşağıdaki harflerden simetrik olanları, simetri çizgisi ile iki eş parçaya ayıralım.



----- Toplama İşlemi -----

47 → onluk birlik	37 → onluk birlik
28 → onluk birlik	27 → onluk birlik
+ 19 → onluk birlik	+ 16 → onluk birlik
-----	-----
onluk birlik	onluk birlik

23 → Toplanan	48 →	27 →
+ 15 → Toplanan	+ 17 →	+ 55 →
-----	-----	-----
38 → Toplam	→	→

----- Verilmeyen Toplananı Bulalım -----

12 + 46	65 + 87	34 + 45	70 + 93
42 + 74	83 + 95	55 + 78	61 + 92

---Mini Test---

Tuğçe, iki deste şekerin bir düzinesini arkadaşlarına dağıttı. Tuğçe'nin geriye kaç şekeri kalmıştır?

A. 6 B. 7 C. 8

84 sayısındaki 8 rakamının basamak değeri kaçtır?

A. 84 B. 80 C. 40

Aşağıdakilerden hangisi yanlıştır?

A. 25, 37'den küçüktür.
B. 48, 56'dan büyüktür.
C. 55, 55'e eşittir.

★ 5 iki basamaklı bir sayıdır. Bu sayının 35'ten büyük olması için ★ yerine hangi sayıyı yazabilirim?

A. 1 B. 2 C. 4

“Seksen sekizinci” sayısının yazılışı aşağıdakilerden hangisidir?

A. 88. B. 88 C. 88.

67 sayısının onlar basamağı 2, birler basamağı 7 artırılırsa yeni sayı kaç olur?

A. 84 B. 94 C. 97

15 + 35 = ise, hangi sayıya eşittir?

A. 50 B. 60 C. 70

$$34 + \blacksquare < 45$$

Yukarıdaki ifadeye göre yerine aşağıdaki sayılardan hangisi yazılabilir?

A. 12 B. 11 C. 10

Adı:
Soyadı:

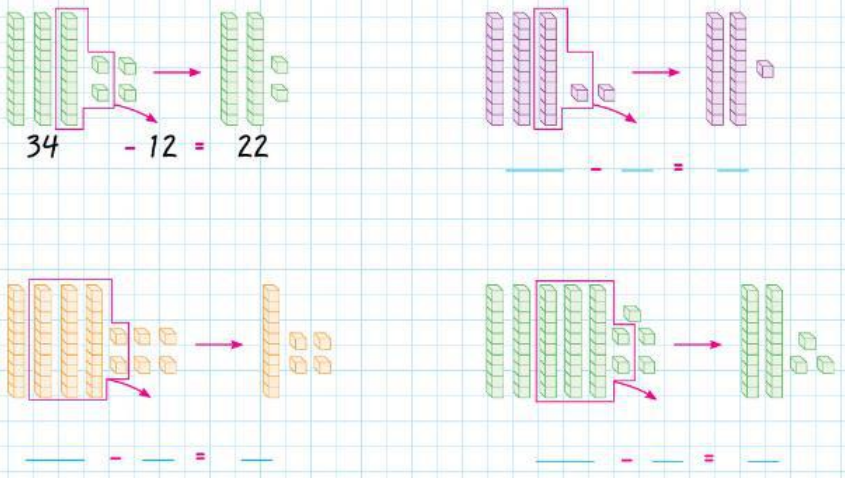


Matematik
2/F Çalışma kağıdı



Atasözünün Anlamını öğren
Huylu huyundan vazgeçmez.

----Çıkarma İşlemi----



----Çıkarma İşlemini Zihinden Yapalım----

-	60	50	40
90	30		
80			
70			

$$\begin{aligned} 90 - 30 &= \\ 70 - 20 &= \\ 80 - 10 &= \end{aligned}$$

-	30	20	10
60	30		
50			
40			

$$\begin{aligned} 80 - 20 &= \\ 70 - 30 &= \\ 90 - 80 &= \end{aligned}$$

----Eksileni Bulalım----

$$\begin{array}{r} \square \\ - 44 \\ \hline 18 \end{array} \quad \begin{array}{r} \square \\ + \square \\ \hline \square \end{array}$$
$$\begin{array}{r} \square \\ - 52 \\ \hline 27 \end{array} \quad \begin{array}{r} \square \\ + \square \\ \hline \square \end{array}$$
$$\begin{array}{r} \square \\ - 88 \\ \hline 11 \end{array} \quad \begin{array}{r} \square \\ + \square \\ \hline \square \end{array}$$

----Çıkanı Bulalım----

$$\begin{array}{r} 66 \\ - \square \\ \hline 47 \end{array} \quad \begin{array}{r} 81 \\ - \square \\ \hline 44 \end{array} \quad \begin{array}{r} 57 \\ - \square \\ \hline 39 \end{array}$$

---- Tablo Oluştur ----

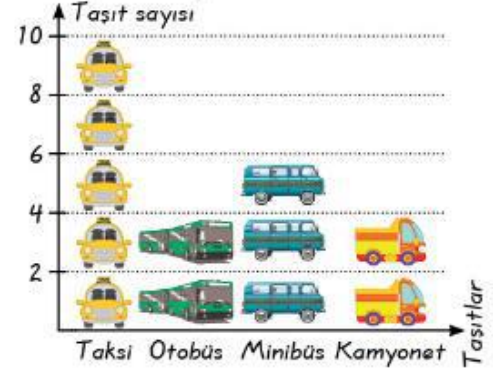
- Bir çiçekçide 37 lale, 42 papatya, 85 gül, 28 menekşe ve 19 orkide vardır.

Tablo: Çiçekçideki çiçekler

Çiçek İsmi	Sayısı

---Mini Test---

Grafik: Otoparktaki taşıtlar



Soruları grafiğe göre cevaplayınız.

Otoparktaki minibüslerin ve otobüslerin toplam sayısı kaçtır?

- A) 10 B) 12 C) 8

Otoparktaki taksilerin 6 tanesi ayrılırsa otoparkta kaç taksi kalır?

- A) 5 B) 3 C) 4

Otoparkta toplam kaç taşıt vardır?

- A) 15 B) 20 C) 24

Ada ile Duru ikiz kardeşlerdir. İkisinin de yaşı 10'dur. 4 yıl sonra yaşları toplamı kaç olur?

- A. 14 B. 20 C. 28

$$\begin{array}{r} 85 \\ - 67 \\ \hline ? \end{array}$$

Soru işareti (?) yerine hangi sayı yazılmalıdır?

- A. 18 B. 17 C. 16

2/F Sınıfı Çalışmaları
ENES SERT