

Adı:
Soyadı:



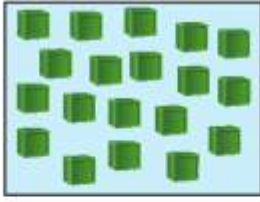
Matematik
2/F Çalışma Kağıdı



Tarih
...../...../2017

Mini Testim

1-----



Yukarıdaki oyun küplerinin sayısının 2 düzineye eşit olabilmesi için, bu oyun küplerine kaç tane daha oyun küpü eklenmelidir?

- A) 5 B) 3 C) 2

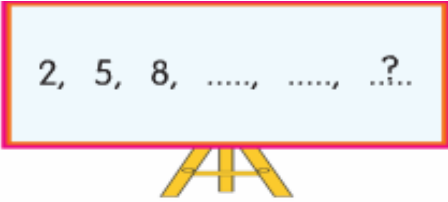
2-----



Yukarıdaki numaralı eşleştirmelerden hangisi yanlıştır?

- A) 1 B) 2 C) 3

3-----



Tahtada verilen örüntünün kuralına göre "?" ile belirtilen sayı kaçtır?

- A) 17 B) 16 C) 15

4-----

Aşağıdaki toplama işlemlerinden hangisi doğru yapılmıştır?

- A) $34 + 26 = 60$
B) $47 + 25 = 73$
C) $56 + 19 = 65$

5-----

$72 + 0 =$ toplamı kaçtır?

- A) 72 B) 0 C) 73

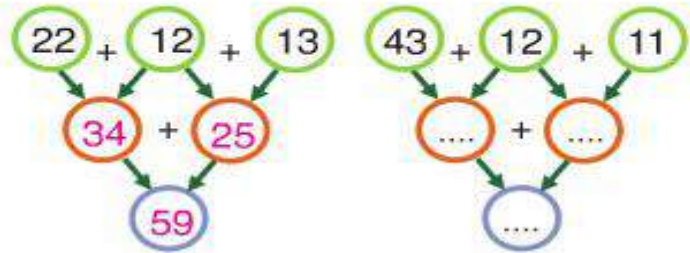
Boşlukları Dolduralım

Aşağıdaki boşlukları uygun bir şekilde doldurunuz.

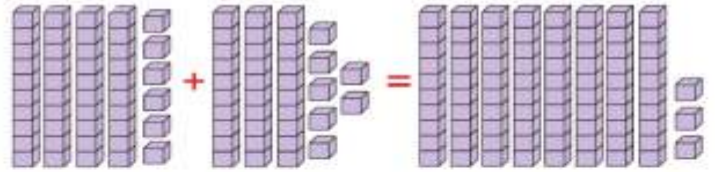
- a) 1 deste kalem tane kalemdir.
b) 1 düzine kalem tane kalemdir.
c) 2 deste top tane toptur.
d) 2 düzine top tane toptur.

Eldesiz Toplama Yap

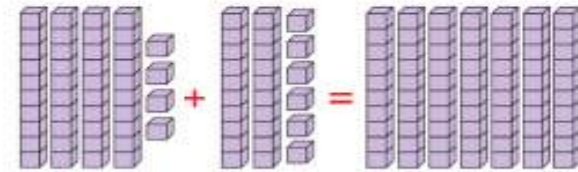
Aşağıdaki toplama işlemlerini örnekteki gibi yapalım.



Bloklarla Toplama Yapalım



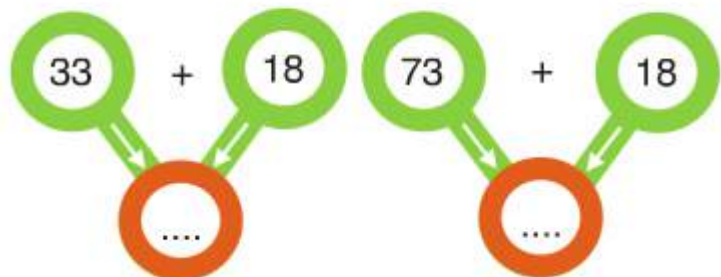
..... + =



..... + =

Eldeli Toplama İşlemi

Aşağıdaki toplama işlemlerini yapalım.



Adı:
Soyadı:



Matematik
2/F Çalışma kağıdı



Atasözünün Anlamını öğren
Akıllı akıldan üstündür.

Verilmeyen Toplananı Bul

$52 + \text{E} = 78$

$34 + \text{A} = 55$

$\text{N} + 45 = 87$

$\text{F} + 13 = 59$

$13 + \text{i} = 47$

$\text{R} + 41 = 79$

Şifre

| | | | | | |
|------|------|------|------|------|------|
| | | | | | |
| 21 | 46 | 26 | 38 | 34 | 42 |

Çıkarma İşlemi

$55 - 26 = 29$

$45 - 39 = \dots$

$86 - 17 = \dots$

$66 - 38 = \dots$

$41 - 32 = \dots$

$73 - 29 = \dots$

Yan Yanaya Çıkar

$92 - 55 = \square$

37

38

39

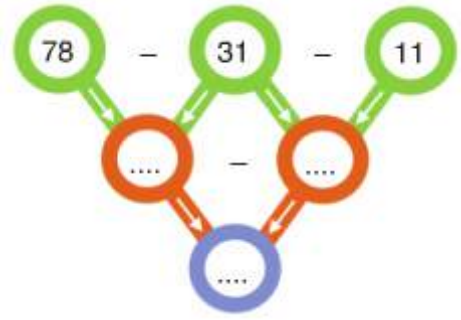
$75 - 19 = \square$

56

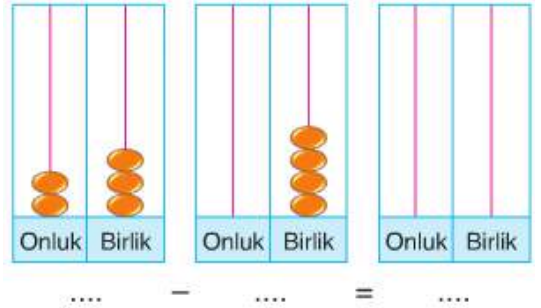
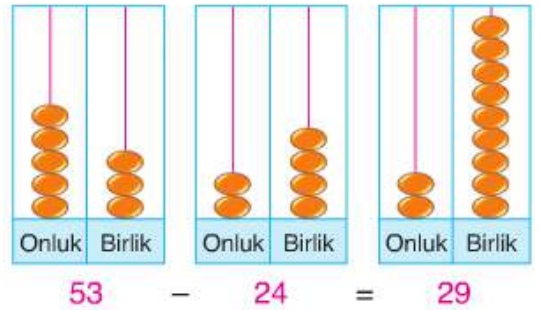
57

58

Çıkarma İşlemi



-Abaküs ile Çıkarma İşlemi -
Aşağıda abaküs üzerinde yapılan çıkarma işlemini örnekteki gibi yapalım.



Zihinden Çıkar

$80 - 40 = \dots$

$70 - 40 = \dots$

$90 - 80 = \dots$

$60 - 10 = \dots$

$70 - 30 = \dots$

$90 - 40 = \dots$

Enes SERT
2/F Sınıfı Çalışmaları