

Adı:
Soyadı:

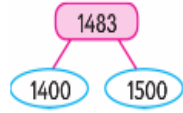
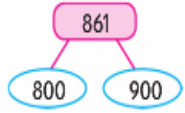
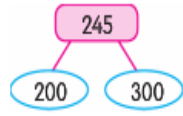


Matematik
4 / ... Çalışma Kağıdı



Tarih
...../...../2018

Aşağıdaki sayıların en yakın olduğu yüzlüğün bulunduğu kutucuğu örnekteki gibi boyayınız.



Aşağıdaki sayı örüntülerini 2 adım daha ilerleterek noktalı yerlere gelmesi gereken sayıları yazınız.

a) 2 5 8 11

b) 12 17 22 27

c) 36 44 52 60

ç) 70 61 52 43

Aşağıdaki toplama işlemlerinde verilmeyen sayı ve rakamları bulunuz.

$$\begin{array}{r} 1690 \\ 723 \\ + \quad \dots \dots \\ \hline 2498 \end{array}$$

$$\begin{array}{r} 1569 \\ \dots \dots \dots \\ + 126 \\ \hline 2530 \end{array}$$

$$\begin{array}{r} \dots \dots \dots \\ 909 \\ + 863 \\ \hline 3871 \end{array}$$

$$\begin{array}{r} 3678 \\ 839 \\ + \quad \dots \dots \dots \\ \hline 4640 \end{array}$$

$$\begin{array}{r} 2 \blacktriangle 78 \\ \bullet 12 \blacksquare \\ + 205 \\ \hline 3412 \end{array}$$

$$\begin{array}{r} \blacktriangle 683 \\ 153 \blacksquare \\ + \bullet 98 \\ \hline 5519 \end{array}$$

$$\begin{array}{r} 4 \blacktriangle 69 \\ \blacksquare 18 \bullet \\ + 309 \\ \hline 7264 \end{array}$$

$$\begin{array}{r} 504 \bullet \\ \blacktriangle 925 \\ + 20 \blacksquare 6 \\ \hline 9029 \end{array}$$

Aşağıdaki toplama işlemlerini yapalım.

$$\begin{array}{r} \text{Elde} \\ 9084 \\ + 1747 \\ \hline \end{array}$$

$$\begin{array}{r} \text{Elde} \\ 5637 \\ + 1883 \\ \hline \end{array}$$

$$\begin{array}{r} \text{Elde} \\ 3538 \\ + 9482 \\ \hline \end{array}$$

$$\begin{array}{r} \text{Elde} \\ 5917 \\ + 2795 \\ \hline \end{array}$$

$$\begin{array}{r} \text{Elde} \\ 4779 \\ + 3834 \\ \hline \end{array}$$

$$\begin{array}{r} \text{Elde} \\ 1278 \\ + 8534 \\ \hline \end{array}$$

$$\begin{array}{r} \text{Elde} \\ 5567 \\ + 4674 \\ \hline \end{array}$$

$$\begin{array}{r} \text{Elde} \\ 2493 \\ + 7443 \\ \hline \end{array}$$

$$\begin{array}{r} \text{Elde} \\ 5734 \\ + 3487 \\ \hline \end{array}$$

$$\begin{array}{r} \text{Elde} \\ 6273 \\ + 2839 \\ \hline \end{array}$$

$$\begin{array}{r} \text{Elde} \\ 6436 \\ + 4764 \\ \hline \end{array}$$

$$\begin{array}{r} \text{Elde} \\ 1256 \\ + 7594 \\ \hline \end{array}$$

Adı:
Soyadı:

Türkçe
4/... Çalışma kağıdı

Yazın gölge hoş , kışın çuval boş...

YAPRAKLARI DÖKÜLMİYEN AĞAÇLAR

Kışın hava soğuduğunda bazı ağaçların yaprakları topraktan yeterince su alamaz. Ayrıca yapraklar kışın yeterince güneş ışığı da alamaz. Bu nedenle bazı ağaçların yaprakları sonbaharda dökülmeye başlar ve kışın yaprakları kalmaz.

Bazı ağaçlar soğuğa ve susuzluğa karşı daha dayanıklıdır. Bunların yapraklarının hepsi aynı anda dökülmez. Yıl boyunca bazı yapraklar dökülürken bir yandan da yeni yapraklar gelişir. Böylece bu ağaçlar hep yeşil görünür. Örneğin "çam, ladin, göknar gibi iğne yapraklı olan kozalaklı ağaçlar."

(Meraklı Minik Dergisi - Gülnihal MERT)

(İlk üç soruyu metinde verilen bilgilere göre cevaplayalım.)

- Aşağıdakilerden hangisi havaların soğumasının yaprakları dökülen ağaçlar üzerindeki etkilerinden **değildir**?
A) Yapraklarını sonbaharda dökmeye başlarlar.
B) Toprakta yeterince su alamazlar.
C) Kışın yeni yaprakları çıkar.
D) Yeterince güneş ışığı alamazlar.
- Aşağıdakilerden hangisi kışın yapraklarını dökmeyen ağaçlar arasında **yer almaz**?
A) Gökknar B) Kayısı C) Çam D) Ladin
- Kışın yaprakları dökülmeyen ağaçlarla ilgili aşağıda verilen bilgilerden hangisi **yanlıştır**?
A) Kökleri torağa yakındır.
B) Yapraklarının hepsi aynı anda dökülmez.
C) Soğuğa ve susuzluğa karşı dayanıklıdır.
D) Dökülen yaprakların yerine yenileri çıkar.
- Aşağıdaki cümlelerin hangisinde "yüz" sözcüğü "sayı" manasında kullanılmıştır?
A) Çocuğun yüzündeki ifade çok sevimliydi.
B) Tatilde yüzerken ayağımı incittim.
C) Binanın dışı bakan yüzü boyandı.
D) Çiftliğimizde yüz tane koyun var.

Aşağıdaki cümlelerde renkli yazılan sözcüklerin eş anlamlılarını yan taraftaki kutulara yazalım. (5 x 4 = 20 puan)

Evimizdeki **onanın** işlemleri üç gündür devam ediyor. →

Üzüntülerimizi dostlarımızla paylaşarak azaltabiliriz. →

Şair bu şiirde anne sevgisini anlatmış. →

Okul ve sınıf **kuralları**na uymalıyız. →

Hayallerimizin gerçek olması için çalışmalıyız. →

Aşağıdaki atasözlerinde yer alan zıt anlamlı sözcükleri noktalı yerlere yazalım.

Akşamın işini sabaha bırakma.

Gelen gideni arar.

Çoğu zarar, azı yarar.

Sabır acıdır, meyvesi tatlıdır.

Büyük balık, küçük balığı yutar.

Eğri otur, doğru söyle.

Aç ne yemez, tok ne demez.