

Adı:  
Soyadı:



Matematik Çalışma Kağıdı  
Problemler



Tarih  
...../...../2018

1) Birler basamağı 6 , onlar basamağı 2 ,  
yüzler basamağı 4 olan sayı kaçtır?

2) **Altışar** ritmik sayarken 8.söylediğimiz  
sayının 192 fazlası kaçtır ?



3) Üç basamaklı 400'den küçük en büyük çift  
sayının 246 fazlası kaçtır ?



4) Herhangi bir sayının onlar basamağı 2  
azaltılır ve yüzler basamağı 3 arttırılırsa sayı  
ne kadar değişir?

5) Hangi sayının 45 fazlasının 129 eksiği 600  
olur?



6) Bir doğal sayıdan 249 çıkardığımızda  
fark 478 oluyor.Bu sayı kaçtır?



7) Bir trende 245 erkek , 195 bayan ve 39  
çocuk yolcu vardır.Trende toplam kaç  
çocuk yolcu vardır?

8) **573** sayısından bir önce ve bir sonra  
gelen sayının toplamı kaç olur



9) Eksilen , çıkan ve farkın toplamı  
70'tir.Çıkan 22 ise fark kaç olur ?


10) Aşağıdaki romen rakamlarını  
karşalarına yazınız.

X	=	<input type="text"/>	V	=	<input type="text"/>
IX	=	<input type="text"/>	XIII	=	<input type="text"/>
IV	=	<input type="text"/>	VIII	=	<input type="text"/>
VII	=	<input type="text"/>	VI	=	<input type="text"/>

Adı:  
Soyadı:

## Matematik Çalışma Kağıdı Problemler

**11)** En yakın yüzlüğe yuvarlandığında 200 olan en büyük ve en küçük sayının toplamı kaçtır?



**12)** Onlar basamağı 3 olan rakamları farklı üç basamaklı en büyük tek sayının fazlası kaçtır?



**13)** Mehmet 548 sayfalık kitabın 1.gün 124 sayfasını okumuş, ikinci gün birinci günden 28 sayfa fazla okumuş üçüncü gün kitabını bitirmiştir. Üçüncü gün kaç sayfa kitap okumuştur?



**14)** Cemal'in parasının 45 TL eksiği 100 lira ise 75 TL fazlası kaç TL'dir?



**15)** Bir çiçekçi Anneler Gününde 84 gül, güllerden 19 az orkide, orkide ve güllerin toplamı kadar karanfil çiçeği satmıştır. Bu çiçekçi toplam kaç adet çiçek satmıştır?

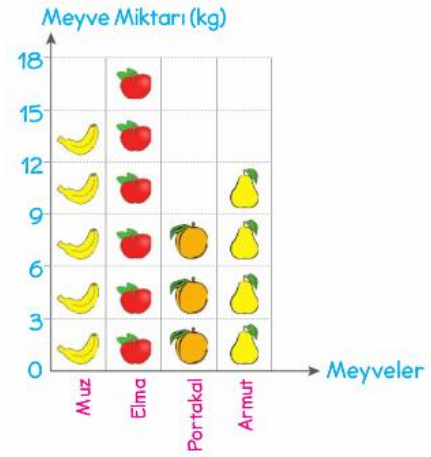
$$23A + 1B8 = C63$$

**16)** Yukarıdaki işleme göre  $A + B + C$  kaç olur?

Adlar	Koştuğu Mesafe (m)
Dilek	785
Nergiz	806
Ceylan	813


**17)** Yukarıdaki tabloda en az koşan kişi ile en fazla koşan kişiarasındaki mesafe ne kadardır?

Grafik: Manavda Satılan Meyve Miktarı



Not: Her şekil 3 kg meyveyi göstermektedir.

**18)** Toplam kaç kg meyve satılmıştır?



**19)** Bir günde 12 litre süt veren inek bir haftada kaç litre süt verir

**20)**  $47 + 29$  işlemini zihinden yapılışını aşağıda gösteriniz.

Sorular **beser** puandır. Dikkatli oku.  
Sınavda başarılar dilerim. Sınav süresi **60** dakikadır.