

Adı:  
Soyadı:



Matematik Çalışma Kağıdı  
Problemler



Tarih  
...../...../2018

1) '743' sayısındaki en büyük ve en küçük rakamın basamak değeri kaçtır?

2) 4 onluk , 2 birlik , 5 yüzlük olan sayının 195 eksiği kaçtır?

3) Okunuşu altı yüz altı olan sayının 94 fazlası kaçtır?



4)  $A + 29 < 198$  ise A yerine gelecek en büyük sayı kaçtır?

5)  $6C9 > 679$  C yerine gelecek rakamların toplamı kaçtır ?




6) '6, 1, 3' rakamlarını kullanarak oluşturabileceğimiz 300' den büyük en küçük sayı kaçtır

7)



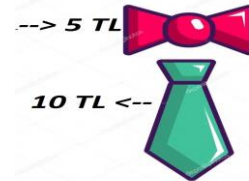
Yukarıdaki örüntüde "A" ve "B" yerine gelmesi gereken Romen rakamlarının toplamı kaçtır?

Çözüm:



8) Yukarıdaki romen rakamlarının işlemini ve sonucunu yazınız?

9) Cemal'in 85 kayısı ağacı , 73 elma ağacı vardır.Kayısı Ağaçlarından 15 fazla ceviz ağacı vardır.Toplam kaç ağacı vardır?



10)

Yukarıdaki kravattan 3 tane , papyondan 9 tane alırsam kaç TL ödemem gerekir?

Adı:  
Soyadı:

Matematik Çalışma Kağıdı  
Problemler

**11)** Bir çiftlikte 75 koyun , 44 horoz , 97 at vardır. Bu çiftlikte toplam kaç hayvan vardır ?



**12)**  $145 > \dots > 149$  ifadesinde boşluğa gelecek sayıların toplamı kaçtır?


**13)** Özgü 'nün parasının 25 TL eksiği 90 TL ise parasının 45 TL fazlası kaç TL'dir?

**14)**  $6 - 10 - 20 - 24 - 48 - ?$

Sayı örüntüsünde sıradaki sayı kaçtır?

**15)** Onluğa yuvarlandığında 200 olan en küçük sayı ile yüzlüğe yuvarlandığında 200 olan en büyük sayının toplamı kaçtır ?

**16)** Hangi sayının 302 fazlası 500'dür?



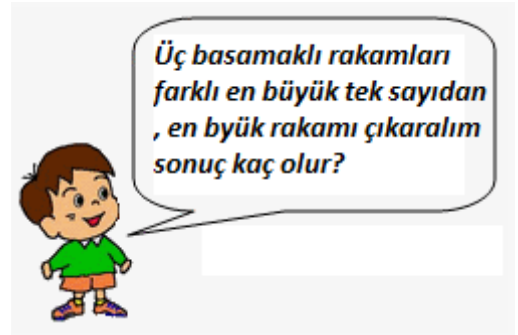
$$500 - ? = 263$$

**17)**

Viki çıkarma işlemi yapamıyor.Yardımcı olur musun?

**18)** Emel 41 yaşındadır. Kardeşi Emel'den 5 yaş küçüktür. İkisinin yaşları toplamı kaçtır?

**19)** Üç yıl ara ile doğan üç kardeşiz. Ben en küçüğüyüm ve yaşım 14'tür. Üçümüzün yaşları toplamı kaçtır?



**20)**

Sorular **beşer** puandır.Dikkatli oku.  
Sınavda başarılar dilerim.Sınav süresi **60**  
dakikadır.