

Adı:
Soyadı:



MATEMATİK
3/F Çalışma Kağıdı



Tarih
...../...../2018

SAYILARI KARŞILAŞTIRALIM

Etkinlik Aşağıda verilen sayı ikililerinin arasına $>$, $<$ ve $=$ sembollerinden uygun olanı yazalım.

24 28	63 54	86 68
762 754	518 602	916 920
398 401	804 804	574 574
319 318	267 268	436 430

Etkinlik Aşağıdaki karşılaştırmalarda verilmeyen sayı yerine gelebilecek iki veya üç basamaklı sayılardan birini yazalım.

586 < > 426	268 =
..... > 618	369 < > 902
462 < > 915	812 <
..... > 276	297 < < 325

Etkinlik Aşağıda verilen rakamları kullanarak istenen üç basamaklı sayıları yazalım.

5	8	2
En büyük sayı:		
En küçük sayı:		
En büyük tek sayı:		
En büyük çift sayı:		
500'den küçük en büyük sayı:		

9	0	7
En küçük sayı:		
En büyük sayı:		
En büyük çift sayı:		
En büyük tek sayı:		
700'den büyük en küçük sayı:		

MINİ TEST

1. dokuz yüz seksen dört

Yukarıda okunuşu verilen doğal sayı aşağıdakilerden hangisidir?

A) 916 B) 984 C) 904

2. Aşağıdaki doğal sayılardan hangisinin okunuşu yanlış verilmiştir?


A) 315 → üç yüz on beş


B) 448 → dört yüz kırk sekiz


C) 614 → altı yüz dört

3. Yandaki yazı tahtasında yer alan sayı nasıl okunur?

518

A)  Beş yüz seksen bir

B)  Beş yüz sekiz

C)  Beş yüz on sekiz

4. 3 basamaklı en küçük tek doğal sayının okunuşu hangisidir?

A) Yüz on bir

B) Yüz bir

C) Bin yüz on bir

5. Birler basamağında 4, onlar basamağında 8, yüzler basamağında 7 rakamı olan sayının okunuşu aşağıdakilerden hangisidir?

A) Yedi yüz seksen dört

B) Dört yüz seksen yedi

C) Yedi yüz kırk sekiz

6. Aşağıdakilerden hangisi üç basamaklı ve rakamları birbirinden farklı en büyük çift doğal sayıdır?

A) 998 B) 988 C) 986

7. 718 doğal sayısının yüzler basamağındaki rakamın sayı değeri kaçtır?

A) 7

B) 70

C) 700

8. $481 + 390$

$400 + 300 = 700$ 1. adım

$80 + 90 = 170$ 2. adım

$1 + 0 = 1$ 3. adım

$700 + 170 + 1 = 771$ 4. adım

Yukarıdaki toplama işleminin hangi adımında hata yapılmıştır?

A) 2

B) 3

C) 4

Adı:
Soyadı:

Matematik
3/F Çalışma kağıdı

DOĞRU MU YANLIŞ MI?

Aşağıda verilen sayıların okunuşları ve yazılışları doğru ise kutucuklara "D", yanlış ise "Y" yazalım.

- a) 709: Dokuz yüz yedi →
- b) 864: Sekiz yüz altmış dört →
- c) Dokuz yüz üç: 930 →
- ç) Altı yüz yetmiş iki: 672 →

BASAMAK DEĞERİ

Aşağıda verilen sayılardaki rakamların basamak değerlerini yazalım.

- a) 4 9 6
- b) 8 0 5
- c) 5 6 2
- ç) 3 1 0

ONLUĞA YUVARLAMA

Aşağıda verilen sayıları en yakın onluğa yuvarlayalım.

- 803 → 708 → 595 →
- 705 → 192 → 47 →
- 496 → 18 → 103 →
- 994 → 306 → 201 →

BÜYÜK – KÜÇÜK

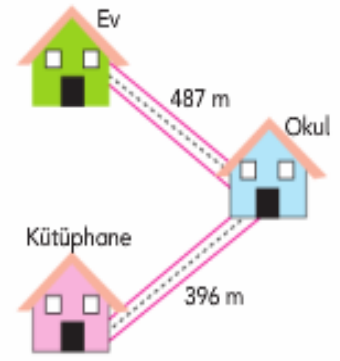
Aşağıdaki karşılaştırmalarda, yerine gelebilecek doğal sayıların en büyüğünü yazalım.

- a) < 76 c) < 203 f) < 518
- b) < 787 d) < 912 g) < 769
- c) < 309 e) < 487 h) < 674

Bir Bilmece

En akıllı kurt hangi kurttur.

9.



Yukarıdaki kroki modelinde ev ile kütüphane arasındaki uzaklık kaç metredir?

- A) 883 B) 796 C) 775

10. 3 basamaklı en küçük çift doğal sayı ile 2 basamaklı en küçük tek doğal sayının toplamı kaçtır?

- A) 110
- B) 111
- C) 113

11. Özge, arkadaşı Gizem'den aklından bir sayı tutmasını istemiştir.

Gizem, tuttuğu sayının 128 eksiğinin 816 olduğunu söylediğine göre, Gizem'in tuttuğu sayı kaçtır?

- A) 960 B) 944 C) 972

12. Mehmet Bey, düğün hazırlıkları yaparken damatlık için 516, ayakkabı için 214, gömlek ve kravat için 108 TL harcamıştır.

Buna göre, Mehmet Bey toplam kaç TL harcamıştır?

- A) 836 B) 838 C) 840

13. Yandaki tablo: Boy Uzunlukları

İsim	Boy (cm)
Emel	165
Furkan	148
Celil	134

Buna göre, üç arkadaşın boy uzunlukları toplamı kaç cm'dir?

- A) 447 B) 450 C) 463