

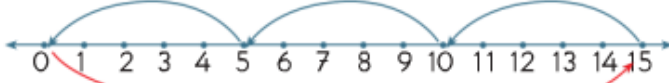
Sayı doğrularında gösterilen bölme işlemlerini yazalım.



$$12 : 3 = 4$$



$$\dots : \dots = \dots$$




$$\dots : \dots = \dots$$


$$8 : 2 = 4$$



$$12 : 3$$



$$16 : 4$$



Zihinden Yapalım

- 1 18 elmanın yarısının 5 fazlası kaç elma eder? (.....)
- 2 16 kalemin yarısı kaç kalem eder? (.....)
- 3 14 yumurtanın yarısı kırıldı. Geriye kaç yumurta kaldı? (.....)
- 4 Bir düzinenin yarısının bir deste fazlası kaç eder? (.....)
- 5 Bir destenin yarısının bir düzine fazlası kaç eder? (.....)

MINİ TEST

1. Ablam, 9 şeftaliyi 3 tabağa eşit olarak paylaştırdı. Her tabakta kaç şeftali vardır?

A) 6 B) 4 C) 3

2. Bir peynirci 20 kilogram peyniri ikişer kilogramlık paketler hâlinde hazırlıyor. Peynirci kaç paket peynir hazırlamıştır?

A) 10 B) 8 C) 6



Yukarıdaki muzlar üçerli gruplandırıldığında kaç grup elde edilir?

A) 5 B) 6 C) 7

4.



Nehir



Nehir'in yaptığı bölme işleminin sonucu kaçtır?

A) 8 B) 9 C) 10

5. Veysel Bey, 16 TL'yi dört çocuğuna eşit miktarda paylaşmak istiyor. Her bir çocuğuna kaç TL vermelidir?

A) 5 B) 4 C) 3

6. Halil, Fadime, Cevat ve Emine 12 kalem eşit olarak paylaşacaklardır. Her birine kaç kalem düşer?

A) 3 B) 4 C) 5