

Adı:  
Soyadı:

MATEMATİK  
ÇALIŞMA KAĞIDI



Tarih  
...../...../2018

Aşağıdaki eşleştirmeleri yapınız.




- a) Yüzeyi yuvaraktır.  
b) Bütün yüzeylerine kare adı verilir.  
c) Üçgen ve dikdörtgen şeklinde yüzleri vardır.  
d) Üzerinde hem kare hem de dikdörtgen vardır.

Aşağıdaki meyveleri ve sayılarını tabloya yazınız.

Tablo: Meyveler

Meyve	Sayısı



Doğal sayılardaki rakamların basamak adlarını ve basamak değerlerini örnekteki gibi yazınız.

73	7 onluk	3 birlik
	70	3

68	.....	.....

99	.....	.....

53	.....	.....

Mini Testim

Hangisi standart olmayan uzunluk ölçüsü birimidir?

- A) Metre B) Kulaç  
C) Santimetre

Hangi eşleştirme yanlış yapılmıştır?

- A) → ayak  
B) → mezura  
C) → karış

Benim 1 karışım 18 santimetreye eşitse iki karışım kaç santimetre olur?

- A) 20 santimetre  
B) 30 santimetre  
C) 36 santimetre

Bir kumaşın boyunu ne ile ölçebiliriz?

- A) Mezura B) Kilogram  
C) Litre

Bir dolabın boyu 10 karıştır. 1 karışta 15 santimetre ise dolabın boyu kaç santimetredir?

- A) 15 santimetre  
B) 100 santimetre  
C) 150 santimetre



Yukarıdaki 10 santimetrelik cetvelde 0 ile 1 arasındaki kadar uzunluğa ne ad verilir?

- A) Metre B) Santimetre  
C) Milimetre

Aşağıdaki sayıların basamak değerlerini örnekteki gibi yazınız.

**4 5** Basamak Değeri

$$\begin{array}{r} 5 \\ + 40 \\ \hline 45 \end{array}$$

**2 9** Basamak Değeri

$$\begin{array}{r} \dots \\ + \dots \\ \hline \dots \end{array}$$

**7 7** Basamak Değeri

$$\begin{array}{r} \dots \\ + \dots \\ \hline \dots \end{array}$$

**7 0** Basamak Değeri

$$\begin{array}{r} \dots \\ + \dots \\ \hline \dots \end{array}$$

**5 9** Basamak Değeri

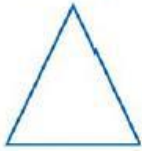
$$\begin{array}{r} \dots \\ + \dots \\ \hline \dots \end{array}$$

**3 3** Basamak Değeri

$$\begin{array}{r} \dots \\ + \dots \\ \hline \dots \end{array}$$

### Etkinlik

Aşağıdaki şekillerin köşe ve kenar sayılarını yazınız. (Kutu içine 1, 2, 3 şeklinde yazalım.)




..... köşe  
..... kenar



..... köşe  
..... kenar



..... köşe  
..... kenar



..... köşe  
..... kenar

### Etkinlik

Şekillerin karşısına boyalı bölümlerin adlarını yazın.

Örnek:



Bütün



.....



.....



.....



.....



.....

Ahmet'in boyu 8 karıştır. Babasının boyu, Ahmet'in boyundan 4 karış fazladır. İkisinin toplam kaç karış olur?

- A) 12 B) 18 C) 20

Aşağıdakilerden hangisi standart olmayan ölçme aracı değildir?

- A) kulaç B) Adım  
C) Metre

20 santimetrelük cetvelimin boyu 1 karıştır. 60 santimetrelük cetvelin uzunluğu kaç karış olur?

- A) 2 B) 3 C) 4

Dikdörtgen şeklindeki sıranın boyu eninden 3 kat daha uzundur. Sıranın eni 25 parmak ise boyu kaç parmak uzunluğundadır?

- A) 50 B) 75 C) 25

Berna'nın ayak uzunluğu 15 santimetredir. Bir fayansın kenar uzunluğu Berna'nın 2 ayak uzunluğundadır.

Fayansın uzunluğu kaç santimetredir?

- A) 30 B) 20 C) 15

Aşağıdaki çocuklar sınıflarının boyunu ölçmüşler. Hangisinin ölçümü daha doğru ve güvenilirdir?

A)  18 adım

B)  5 kulaç

C)  5 m

Enes SERT  
2/F Sınıfı Çalışmaları



Adı:  
Soyadı:

## TÜRKÇE ÇALIŞMA KAĞIDI



Tarih  
...../...../2018

### ADIL PAYLAŞTIRMA

Aslan, kurt ve tilki arkadaş olmuşlar. Birlikte avlanmaya çıkmışlar. Günün sonunda bir öküz , bir keçi, bir de tavşan avlayarak mağaraya dönmüşler.

Aslan kurda dönerek:

- Hadi bakalım , şu hayvanları paylaş-  
tır da karnımızı doyuralım.

Kurt, ezile büzüle:

- Şu öküzü siz buyrun. Keçi benim,  
tavşan da tilkinin olsun.

Aslan birden çok kızmış:

- Bre densiz! Sen kim oluyorsun da  
benim yanımda pay ediyorsun. Sonra  
da bir pençe darbesiyle kurdu yere  
sermiş. Ardından tilkiye dönmüş:

- Öyle şaşkın şaşkın bakma da pay-  
laştır şu avları bakalım, demiş.

Tilki:

- Ey ormanlar kralı, pay etmek had-  
dime değil ama madem buyurdunuz  
söyleyeyim. Tavşan sabah kahvaltınız,  
öküz öğle yemeğiniz , keçi de akşam  
yemeğiniz olsun.

Aslan bu paylaşımdan çok hoş-  
lanmış ve tilkiye :

- Bu kadar adil paylaşımı nereden  
öğrendin?

Tilki:

- Sayın kralım, şu haddini bilmez kur-  
dun halinden öğrendim.

Aşağıdaki 4 soruyu metne göre ce-  
vaplandırınız.

1. Hangisi avlanan hayvanlardan biri  
değildir?

A. keçi B. tavşan C. koyun

2. Aslan, kurda niçin sınırlanmış?

A. Keçiyi kendisine vermediği için  
B. Tilkiye tavşanı verdiği için  
C. Kendine ve tavşana pay ayırdığı için

3. Tilkinin yaptığı paylaşımaya göre  
eşleştirelim.



keçi

öğle yemeği



tavşan

akşam yemeği



öküz

kahvaltı

4. Tilkinin paylaşması aslanın hoşu-  
na niçin gitmiş?

A. Bütün avları kendine verdiği için  
B. Kendisini ödüllüğü için  
C. Adil paylaşımı yaptığı için

### Mini Testim



Yukarıdaki canlıların isimlerinden  
hangisini satır sonuna sığmadığın-  
dan bölemeyiz?

A) Kuş B) Köpek C) Kedi

İnsanlar en yakınlarını kırmamaya  
çalışmalıdır. .... anne  
ve babasını kırmamalıdır.

Yukarıdaki cümlede boş bırakılan  
yere getirilmesi gereken sözcük  
hangisidir?

A) özellikle B) gibi C) için

Hayvanları sevmeliyiz ve iyi dav-  
ranmalıyız. .... onları korumalıyız.  
Yukarıdaki cümlede boş bira-  
kılan yere getirilmesi gereken  
sözcük hangisidir?

A) Örneğin B) Özellikle C) Gibi

Aşağıdakilerden hangisi karşı-  
laştırma bildirmemektedir?

A) Kimse senin kadar iyi kalpli de-  
ğil.  
B) Bu oyuncak seninkinden daha  
pahalı.  
C) İzmir'e uçakla gittim.



Aşağıdaki kelimelerin çağrıştırdığı üç kelimeyi yazalım.



tavuk

--	--	--



bebek

--	--	--



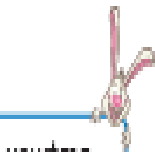
lunapark

--	--	--



kış

--	--	--



uçurtma

--	--	--

1.

uçak - pilot

Yukarıdaki kelimeler arasındaki anlam ilişkisi hangi kelimeler arasında vardır?

- A. otobüs - yolcu  
B. gemi - kaptan  
C. tren - metro

2.

çay - şeker

Yukarıdaki kelimeler arasındaki anlam ilişkisi hangi kelimeler arasında vardır?

- A. fındık - fıstık B. ayran - yoğurt  
C. yemek - tuz

3.

alta - balık

Yukarıdaki kelimeler arasındaki anlam ilişkisi hangi kelimeler arasında vardır?

- A. kovan - arı B. ağ - kuş  
C. kulübe - köpek

4.

kulak - küpe

Yukarıdaki kelimeler arasındaki anlam ilişkisi hangi kelimeler arasında vardır?

- A. gözlük - cam  
B. iğne - terzi  
C. bilek - bilezik

Aşağıdaki cümlelerin hangisinde karşılaştırma anlamı vardır?

- A) Bütün gece kitap okudum.  
B) Günümüzde çocuklar abur cuburla beslendiği için bizler gibi sağlıklı değil.  
C) Çevremizi doğal afetlerden korumak için ağaç dikmeliyiz.



Yukarıda yer alan iki kişinin arasındaki zıtlıkları belirtmek için aşağıda verilen hangi sözcük çiftini kullanamayız?

- A) Şişman - zayıf  
B) Uzun - kısa  
C) Ağlamak - gülmek

O sabah ..... kahvaltısını yaptı ..... çantasını alıp servisi beklemeye başladı.

Yukarıdaki cümlede cümlede noktalı yerlere aşağıdaki sözcüklerden hangisi getirilmelidir?

- A) şimdi - önce  
B) ilk önce - sonra da  
C) şimdi - ilk önce

Aşağıdaki cümlelerin hangisinde varlıkların özelliğini belirten sözcük yoktur?

- A) Yeni telefonumu çok beğendi.  
B) Çocuklara bayram için kıyafet aldı.  
C) Kış gelince kalın giysiler giyeriz.

