

Adı:
Soyadı:



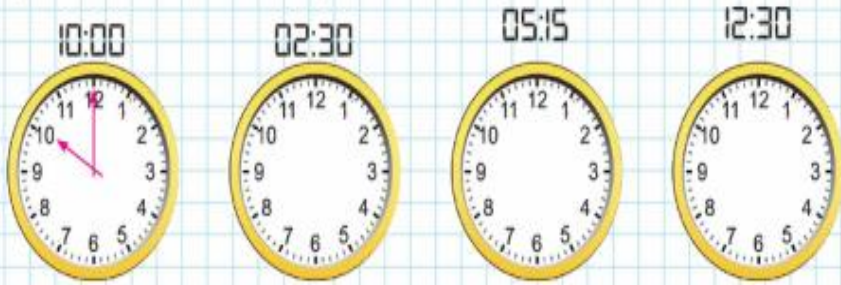
Matematik
3/F Çalışma Kağıdı



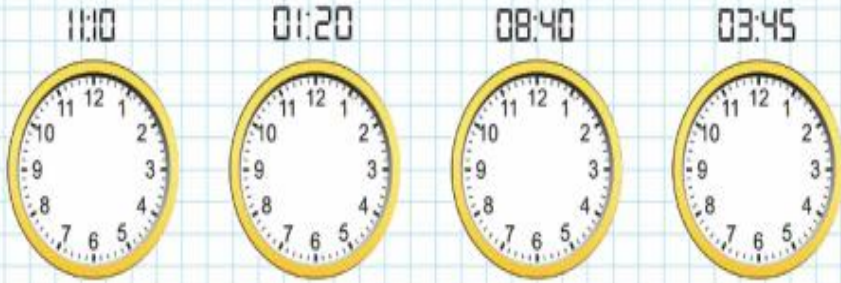
Tarih
...../...../2019

Etkinlik

Aşağıdaki saatlerin gösterdiği zamanı akrep ve yelkovan çizerek gösteriniz. Altına örnekteki gibi okunuşlarını yazınız.




Saat on.



Etkinlik

Aşağıdaki sayı doğrularını verilen kesirlere uygun eş parçalarla ayırınız. Verilen kesirlerin yerlerini sayı doğrularında gösteriniz.



Mini Tekrar

Aşağıdaki çarpma işlemlerini yapalım.

$$\begin{array}{r} 142 \\ \times 6 \\ \hline \end{array}$$

$$\begin{array}{r} 247 \\ \times 2 \\ \hline \end{array}$$

$$\begin{array}{r} 185 \\ \times 5 \\ \hline \end{array}$$

$$\begin{array}{r} 90 \\ \times 10 \\ \hline \end{array}$$

$$\begin{array}{r} 78 \\ \times 10 \\ \hline \end{array}$$

$$\begin{array}{r} 43 \\ \times 20 \\ \hline \end{array}$$

Aşağıdaki bölme işlemlerini yapalım. Bölüm yerlerine yazılacak sayıları bulup alttaki şifreyi çözelim.

$$\begin{array}{r} 69 \overline{) 3} \\ \hline \end{array}$$

$$\begin{array}{r} 78 \overline{) 4} \\ \hline \end{array}$$

$$\begin{array}{r} 72 \overline{) 6} \\ \hline \end{array}$$

Ğİ

TE

SE

$$\begin{array}{r} 98 \overline{) 7} \\ \hline \end{array}$$

$$\begin{array}{r} 49 \overline{) 5} \\ \hline \end{array}$$

$$\begin{array}{r} 64 \overline{) 8} \\ \hline \end{array}$$

RUM

YO

MA

$$\begin{array}{r} 63 \overline{) 9} \\ \hline \end{array}$$

$$\begin{array}{r} 47 \overline{) 8} \\ \hline \end{array}$$

$$\begin{array}{r} 13 \overline{) 2} \\ \hline \end{array}$$

MA

VI

Tİ

8	19	7	6	23	12	5	9	14

Aşağıdaki işlemleri yapalım. Tırtılları sonuçlara göre uygun renklere boyayalım.

$18 \div 6 =$

$36 \div 6 =$

$25 \div 5 =$

$35 \div 5 =$

$45 \div 5 =$

$32 \div 4 =$

9	8	7	6	5	3
---	---	---	---	---	---

Adı:
Soyadı:

Matematik
3/F Çalışma Kağıdı

Atasözümüz

Sitemizdeki atasözünün anlamını öğrenelim.

Etkinlik Aşağıda verilen tabloladaki varlıkların özelliklerini işaretleyip sonuç bölümüne "canlı" veya "cansız" yazınız. **Not: Bir varlığın canlı olabilmesi için bütün özellikleri sağlaması gerekir.**

VARLIKLAR	Beslenir	Büyür	Hareket Eder	Boşaltım yapar	Solunum Yapar	Çoğalır	Tepki verir	SONUÇ
İNSAN	✓	✓	✓	✓	✓	✓	✓	CANLI
AĞAÇ								
KÖPEK								
TOPRAK								
ÇİÇEK								
SU								
BALIK								
ARABA								

Aşağıdaki işlemlerde sonuçları aynı olanları eşleştirelim.

$72 \div 8$

$10 - 5$

$54 \div 9$

10×1

$40 \div 8$

3×3

$35 \div 5$

$6 + 1$

$70 \div 7$

$5 - 1$

$24 \div 3$

$14 - 8$

$24 \div 6$

$10 - 2$

Aşağıdaki bölme işlemlerini yapalım. Sonuçlarına göre şifreyi bulalım.

$$\begin{array}{r} 96 \overline{) 4} \\ \underline{} \\ \end{array}$$

Ş

$$\begin{array}{r} 36 \overline{) 2} \\ \underline{} \\ \end{array}$$

A

$$\begin{array}{r} 72 \overline{) 6} \\ \underline{} \\ \end{array}$$

M

$$\begin{array}{r} 75 \overline{) 3} \\ \underline{} \\ \end{array}$$

Y

$$\begin{array}{r} 56 \overline{) 4} \\ \underline{} \\ \end{array}$$

A

$$\begin{array}{r} 30 \overline{) 5} \\ \underline{} \\ \end{array}$$

L

$$\begin{array}{r} 48 \overline{) 3} \\ \underline{} \\ \end{array}$$

A

$$\begin{array}{r} 91 \overline{) 7} \\ \underline{} \\ \end{array}$$

P

$$\begin{array}{r} 99 \overline{) 9} \\ \underline{} \\ \end{array}$$

K

13	18	25	6	16	24	12	14	11

Aşağıdaki bölme işlemlerini yapalım.

$$\begin{array}{r} 76 \overline{) 8} \\ \underline{} \\ \end{array}$$

$$\begin{array}{r} 48 \overline{) 5} \\ \underline{} \\ \end{array}$$

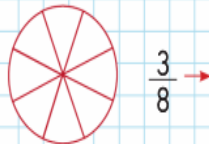
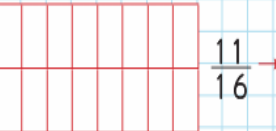
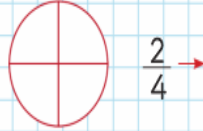
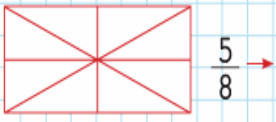
$$\begin{array}{r} 72 \overline{) 3} \\ \underline{} \\ \end{array}$$

$$\begin{array}{r} 81 \overline{) 7} \\ \underline{} \\ \end{array}$$

$$\begin{array}{r} 65 \overline{) 4} \\ \underline{} \\ \end{array}$$

$$\begin{array}{r} 96 \overline{) 6} \\ \underline{} \\ \end{array}$$

Etkinlik Aşağıdaki şekillerin belirtilen kesir kadarını boyayıp kesirleri okunuşlarını yazınız.



Etkinlik Aşağıda verilen durumlarda ne yapmanız ve kimden yardım almanız gerektiğini ilgili ifadenin yanına yazınız.

Yolda sizi birisi takip ediyor. →

Okul bahçesinde bir çocuk sizden topunuzu istiyor ve vermezseniz sizi döveceğini söylüyor. →

Okul binasında yangın çıktı. Sınıfınız 3. katta bulunuyor. →