

Adı:
Soyadı:

UZAKTAN EĞİTİM
DENEME-4

Tarih
...../...../2020

TARTMA

TARTMA İLE İLGİLİ PROBLEMLER



TEST - 63

1.

Bakliyat Miktarları ve Fiyatları



Pirinç



Nohut



Fasulye



Mercimek

Miktarı

500 g

500 g

250 g

750 g

Fiyatı

3 TL

8 TL

3 TL

6 TL

Yukarıdaki tabloda satın alınan bakliyat miktarları ve fiyatları verilmiştir.

Buna göre aşağıdaki bilgilerden hangisi yanlıştır?

- A) Pirincin bir kilogramı 6 TL'dir. B) 2 kg nohut 32 TL'dir.
C) Mercimeğin bir kilogramı 8 TL'dir. D) Fasulyenin bir kilogramı 15 TL'dir.

2. Yanda iki tane ilaç şişesi görülmektedir. Eczacı bir koliye A ilacından 5 şişe, B ilacından ise 12 şişe koyuyor.

Buna göre kolideki ilaç miktarı ne kadar olur?

- A) 9 g 150 mg B) 9050 mg
C) 9 g 50 mg D) 9500 mg



A



B

3.

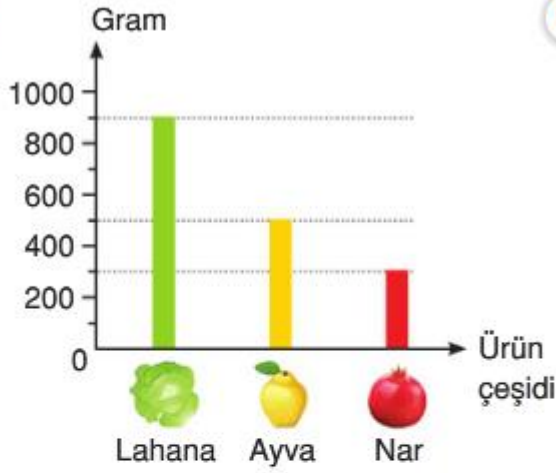


Dört arkadaşın kütleleri toplamı 216 kg'dır. Çocukların kütleleri arasında 4'er kilogram fark vardır.

Buna göre kütlesi en az olan kaç kilogramdır?

- A) 42 B) 46 C) 48 D) 52

4.



Yukarıdaki sütun grafiğinde, üç ürünün bir adedinin tartım sonuçları verilmiştir.

Buna göre aşağıdakilerden hangisini söylemek yanlış olur?

- A) 3 ayva ve 2 nar toplam 2 kg 100 g eder.
B) 3 tane nar 1 kg'dan 200 g azdır.
C) 10 tane ayva, 2 tane lahanadan 3 kg 200 g daha fazladır.
D) 2 lahana, 2 nar ve 1 ayva 3 kilogramdan 100 gram eksiktir.

6.



Kemal amcanın bahçesinde çok sayıda elma ağacı vardır. Kemal amca, elma ağaçlarından toplam 2 ton 250 kg elma topladı.

Kemal amca, toplanan elmanın önce yarısını daha sonra kalanının $\frac{1}{3}$ 'ini sattı.

Kemal amca toplam ne kadar elma satmıştır?

- A) 1 ton 125 kg B) 1 ton 275 kg
C) 1 ton 375 kg D) 1 ton 500 kg

5.



1 koli, 20 paket bisküvi almaktadır. Koli boş iken 1000 gram gelmektedir. 1 paket bisküvi ise 500 gramdır.

Buna göre koli, bisküvi paketleriyle doluyken kaç kilogram gelir?

- A) 9 B) 10 C) 11 D) 12

7.

Babam, kuru yemişçiden

- 200 g badem,
- 350 g fıstık,
- 400 g fındık,
- 850 g ceviz,
- $\frac{1}{4}$ kg ay çekirdeği ve bir miktarda kabak çekirdeği aldı. Babamın aldığı yemiş miktarı 2500 gramdır.

Buna göre babam kaç gram kabak çekirdeği almıştır?

- A) 250 B) 300 C) 450 D) 500

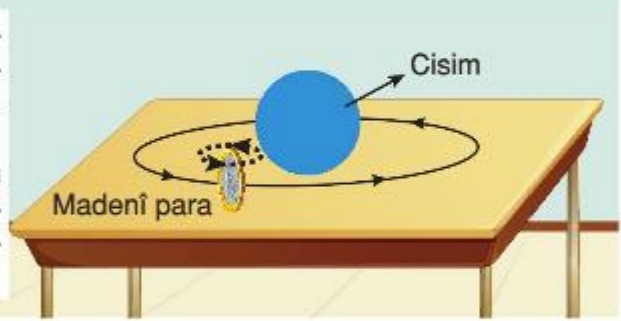


TEST - 4



1.

Yanda; bir öğretmenin, dönme ve dolanma hareketlerini kavratılmak adına sınıfında uyguladığı etkinlik verilmiştir. Etkinlikte, ortaya bir cisim konulur. Bir parmak darbesi ile hareket ettirilen madenî para, cisim etrafındaki yolu tamamlayarak başlangıç konumuna tekrar ulaşır.



Verilen görsel ve etkinliğin yapılışına göre;

- I. Dönme ve dolanma hareketlerinin her ikisi de bu etkinlikte gözlenebilir.
- II. Bozuk paranın kendi eksenini etrafında yaptığı harekete "dönme hareketi" denir.
- III. Bozuk paranın mavi cisim etrafındaki hareketine "dolanma hareketi" denir.

İfadelerinden hangileri doğrudur?

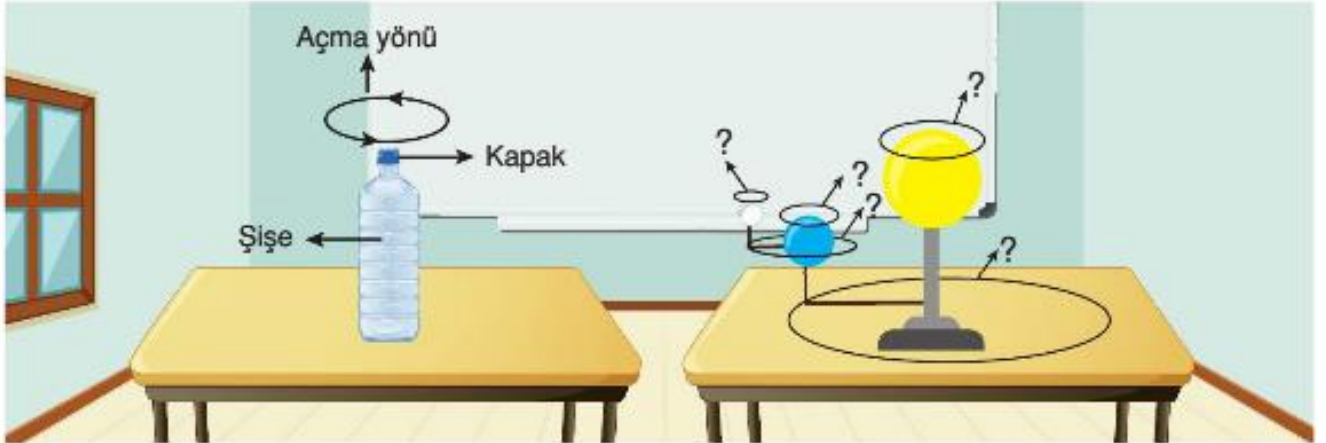
A) I ve II

B) I ve III

C) II ve III

D) I, II ve III

2. Aşağıda, kapalı bir su şişesi verilmiştir. Bu şişenin kapağı, görselde verilen yönde çevrilerek açılmaktadır.



Şişenin kapağının açılması süreci ile ilgili;

- I. Kapağın açılış yönü, Dünya'nın kendi etrafında dönüş yönüyle aynıdır.
- II. Kapağın kapanış yönü, Dünya'nın Güneş'in etrafında dolanma yönüyle aynıdır.
- III. Dünya'nın hem kendi etrafında dönüş hem de Güneş'in etrafında dolanma yönü, kapağın açılış yönüyle aynıdır.

İfadelerinden hangileri doğrudur?

A) I ve II

B) I ve III

C) II ve III

D) I, II ve III

3. Aşağıda, bir basket topunun parmak ucundaki hareketi verilmiştir.



Görselle ilgili aşağıdakilerden hangisi söylenebilir?

- A) Top, parmak etrafında dönmektedir.
B) Top, hem dönmekte hem dolanmaktadır.
C) Top, kendi eksenini etrafında dönmektedir.
D) Top, parmak etrafında dolanmaktadır.


5. Okulun bahçesine çıkan öğrenciler, tenefüs boyunca kendi diktikleri fidan etrafında el ele hareket ederek oynamaktadırlar.



Öğrencilerin yaptığı hareket ile ilgili aşağıdakilerden hangisi söylenebilir?

- A) Öğrenciler, saat yönünde dönmektedir.
B) Öğrenciler, fidanın etrafında dolanmaktadır.
C) Çocukların yaptığı hareket, Dünya'nın günlük hareketine benzemektedir.
D) Öğrencilerin hareketi, gece-gündüz oluşumuna neden olan Dünya hareketi ile aynıdır.

4. Körebe oyununda oyuncunun gözü bağlandıktan sonra ebe kendi eksenini etrafında ...I... ve oyuncular ebe etrafında ...II... Böylece ebe, oyuncuların yerini unutmaması sağlanır.



Buna göre, aşağıdaki önermelerden hangisi doğrudur?

- A) I numaralı boşluğa "dolanır", II numaralı boşluğa "döner" yazılabilir.
B) Onur, Uğur'un etrafında dönerek onu şaşırtmaya çalışabilir.
C) Uğur, kendi ekseninde dolandığı için oyuncuların yerini karıştırmaktadır.
D) Uğur, I numaralı hareketi yaparken Onur ve Sinem II numaralı hareketi yapmalıdır.

6. Aşağıda, buz pateni gösterisine ait görsel verilmiştir.



Patencilerin hareketi ile ilgili aşağıdakilerden hangisi yanlıştır?

- A) Kadın patenci, dolanma hareketi yapmaktadır.
B) Erkek patenci, dolanma hareketi yapmaktadır.
C) Kadın patenci, saat yönünde dönmektedir.
D) Erkek patenci, saat yönünde dolanmaktadır.

4. SINIF

TÜRKÇE

• Eş Sesli Sözcükler



AFC14C2E



Adım:

Soyadım:

Sınıfım:

Numaram:

HATIRLAYALIM

- Yazılışları ve okunuşları aynı olan ancak farklı anlamlara gelen sözcüklere **eş sesli (ses-teş)** sözcükler denir.

Örnek: Yaz: Mevsim adı → Bu yaz Antalya'ya gideceğiz.

Yaz: Yazmak eylemi → Ali bana bir problem yaz.

TEST - 3



Planlı olmayı seviyorum. Planlı hareket ettiğimde günümün daha verimli geçtiğini gördüm. Okul çantamı bir gün öncesinden hazırlarım. Ders çalışmam gereken saatim bellidir. Her gün saat bir ile üç arası ders çalışırım.

Günde yirmi sayfa kitap okurum. Ailemle vakit geçirir, arkadaşlarımla oyun oynarım. Özellikle misket oynamayı çok severim. Geç saatlere kadar oturmam. Birazcık televizyon izler sonra da uyurum.

(1, 2, 3 ve 4. soruyu metne göre cevaplayalım.)

1. Metnin başlığı, aşağıdakilerden hangisi olabilir?

- A) Uyku Saatleri
- B) Ders Çalışmanın Önemi
- C) Planlı Yaşamak
- D) Satranç Saati

2. Çocuk, planlı hareket ettiğinde ne oluyormuş?

- A) Günü verimli geçiyormuş.
- B) Gün içinde çok yoruluyormuş.
- C) Ailesiyle daha az vakit geçiriyormuş.
- D) Bol bol uyuyormuş.

3. Hangisinde çocuğun en sevdiği oyuna ait görsel verilmiştir?

- A)
- B)
- C)
- D)

4. Metne göre, çocuk kaç saat ders çalışıyor?

- A) 1
- B) 2
- C) 3
- D) 4

5. Aşağıdaki sözcüklerden hangisi eş seslidir?

A)



Sen

B)



Ben

C)



O

D)



Siz

6. • Ocaktaki yemeği unutmayalım.
• Annem ocak ayında doğduğumu söyledi.
• Ocak bozulduğu için fırında yemek pişireceğiz.
• Bu yıl ocak ayı oldukça soğuk geçti.

Yukarıda verilen cümlelerde "ocak" sözcüğü kaç farklı anlamda kullanılmıştır?

A)



4

B)



3

C)



2

D)



1

7. Aşağıdaki çiçeklerden hangisinin ismi eş sesli (sesteş) dir?

A)



Papatya

B)



Kaktüs

C)



Gül

D)



Lale

8. Aşağıdaki cümlelerden hangisinde "kale" sözcüğü farklı anlamda kullanılmıştır?

- A) Atlılar kalenin önüne geldiğinde muhafızlarla karşılaştılar.
B) Sınıfça ilimizin tarihi kalelerini ziyaret ettik.
C) Kalenin kapısı çok güçlü olduğu için kuşatma başarısız oldu.
D) Bizim kaleye top gelmediği için gol atamadılar.

9. Aşağıdakilerden hangisi eş sesli bir sözcük değildir?

- A) Kara B) Sağ
C) Ben D) Kitap

10. Hangisi eş sesli bir sözcük değildir?

- A) Tahta B) Yüz
C) Kır D) Sıra

Ad Soyad: _____

Text: 1112

	A	B	C	D		A	B	C	D		A	B	C	D		
1	○	○	○	○		5	○	○	○	○		9	○	○	○	○
2	○	○	○	○		6	○	○	○	○		10	○	○	○	○
3	○	○	○	○		7	○	○	○	○		11	○	○	○	○
4	○	○	○	○		8	○	○	○	○		12	○	○	○	○

4. SINIF

SOSYAL BİLGİLER

- Aile Tarihimizi Öğreniyoruz
- Kültürümüz



SEDEB19A



Adım:

Soyadım:

Sınıfım:

Numaram:

HATIRLAYALIM

► Aile tarihimizi oluşturmak için sözlü tarih yöntemi kullanabiliriz. Görsel, yazılı kaynaklar ve nesnel aracılığıyla da ailemizin geçmişi hakkında bilgi edinebiliriz.

Örnek:

Görsel kaynaklar: Resim, fotoğraf vb.

Yazılı kaynaklar: Diplomalr, nüfus cüz-

danları, yıllıklar, mektuplar vb.

Nesneler: Kıyafetler, ev eşyaları, takılar vb.

► **Millî Kültür Öğelerimiz:** Halk oyunları-mız, edebiyat ürünlerimiz, el sanatları-mız, mimarimiz, giyim ve yemek özellik-lerimiz vb.

TEST - 3

1.



I



II



III



IV

Yukarıdakilerden hangisi sözlü tarih çalışması yapılırken kullanılan araç - gereçler arasında yer almaz?

- A) I B) II C) III D) IV

2.



Merhaba arkadaşlar, ben Korkut Bağcı. Dedem ile yaptığım görüşme sonucunda soyadımızın neden Bağcı olduğunu öğrendim.

Buna göre, Korkut'un yaptığı çalışma aşağıdakilerden hangisine örnektir?

- A) Sözlü tarih çalışması
B) Kütüphane araştırması
C) Dergi araştırması
D) İnternet araştırması

3.

- Resim
- Fotoğraf
- Mektup
- Tablo

Yukarıdakilerden kaç tanesi aile tarihimizi öğrenmek için yararlanacağımız görsel kaynaklardandır?

- A) 1 B) 2 C) 3 D) 4

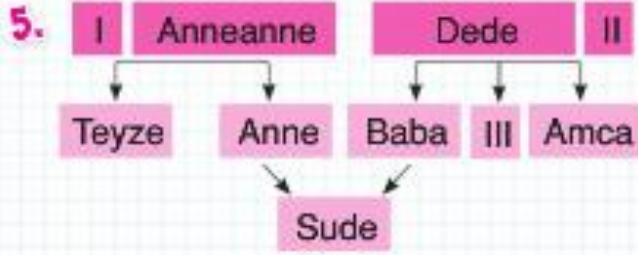
4.

Aşağıda, sözlü tarih çalışması sırasında izlenecek basamaklar verilmiştir:

- I. Görüşme yapılacak kişi belirlenir.
- II. Sorular hazırlanır.
- III. Gerekli araç-gereçler hazırlanır.
- IV. Görüşme yapılır.
- V. Görüşmeler düzenlenir.

Verilen basamaklardan hangilerinin yerleri değiştirilirse sıralama doğru olur?

- A) I ve II B) II ve III
C) III ve IV D) IV ve V



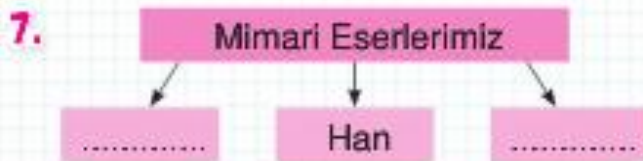
Sude'nin ailesine ait bu soy ağacında numaralandırılmış kutucuklara aşağıdakilerden hangisi yazılmalıdır?

- | | | | |
|----|----------|----------|-------|
| | I | II | III |
| A) | Amca | Hala | Teyze |
| B) | Teyze | Dayı | Dede |
| C) | Dede | Babaanne | Hala |
| D) | Anneanne | Amca | Dede |

6. I. Çini sanatı
II. Kum sanatı
III. Ebru sanatı
IV. Kilim dokumacılığı

Yukarıdakilerden hangisi geleneksel el sanatlarımız arasında yer almaz?

- A) I B) II C) III D) IV



Bu şemaya aşağıdakilerden hangisi yazılamaz?

- A) Alışveriş merkezi B) Türbe
C) Kale D) Cami

8.



Yukarıdakilerden hangileri milli kültürümüze ait yiyeceklerdir?

- A) I ve II B) I ve III
C) II ve III D) III ve IV

9.



Bu fotoğrafta ifade edilen kültür unsurumuz aşağıdakilerden hangisidir?

- A) El sanatlarımız B) Masallar
C) Bayramlar D) Yiyecekler

Ad Soyad: _____

Test: 1215

A	B	C	D	A	B	C	D	A	B	C	D
1	○	○	○	5	○	○	○	9	○	○	○
2	○	○	○	6	○	○	○	10	○	○	○
3	○	○	○	7	○	○	○	11	○	○	○
4	○	○	○	8	○	○	○	12	○	○	○