

Adı:
Soyadı:



SOSYAL Tema Değerlendirme



Tarih
...../...../2019


1-----
Bizimle ilgili bilgilerin yer aldığı aşağıdaki belgelerden hangisi kimlik belgesi özelliği taşımaz?

- A)  Mavi Kart
B)  Sürücü Belgesi
C)  Garanti Belgesi
D)  Pasaport

2-----


Berke'nin verdiği kaç numaralı bilgi "kronolojik" bir bilgi değildir?

- A) 1 B) 2 C) 3 D) 4


3-----

Eda Basketbolu iyi oynadığım için takıma seçildim.

Eda'nın verdiği bilgiler aşağıdakilerden hangisiyle ilgilidir?

- A) İlgi ve yetenekler
B) Beslenme alışkanlığı
C) Heyecanlarımız
D) Fiziksel özellikler

4-----
• Karadeniz yöresine aittir.
• Kemençe eşliğinde oynanır.
Yukarıda özellikleri verilen oyun hangisidir?

- A) Halay B) Zeybek
C) Horon D) Misket

5-----

Mevlâna hayatı boyunca başkalarının fikirlerine saygı duymuştur.

Yukarıdaki ifade, Mevlâna'nın hangi özelliği ile daha çok ilgilidir?

- A) Akıllı oluşu
B) Sabırlı oluşu
C) Ahlaklı oluşu
D) Hoşgörülü oluşu

6-----
Aşağıdakilerden hangisi empati kurabilen bir bireyin davranışına örnek gösterilemez?





- A) Zor durumda olan arkadaşına yardım etmek
B) İnsanlar arasında ayırım yapmak
C) Üzgün olan arkadaşımızı teselli etmek
D) İhtiyaç sahiplerine yardım etmek


7-----
Toplumumuzun kültürünü oluşturan en önemli öğelerden biri de milli ve dini bayramlarımızdır.

Aşağıdakilerden hangisi dinî bayramlarımızdan biridir?

- A) 29 Ekim Cumhuriyet Bayramı
B) 30 Ağustos Zafer Bayramı
C) 19 Mayıs Atatürk'ü Anma, Gençlik ve Spor Bayramı
D) Ramazan Bayramı


8-----
Aşağıdakilerden hangisi ata sporumuzdur?

- A)  Hentbol
B)  Güreş
C)  Basketbol
D)  Futbol

9-----

Ya istiklal, ya ölüm!

Atatürk, bu sözünüle aşağıdakilerden hangisine öncelikle önem verdiğini göstermiştir?

- A) Bağımsızlığa B) Millî kültüre
C) Sanayileşmeye D) Çalışmaya

10-----

Eda Hayatımda önemli yer tutan gelişmelerin kronolojisini oluşturmak istiyorum.

Eda, kendisiyle ilgili kronoloji oluştururken hangisinden yararlanamaz?

- A) Aile büyükleri
B) Fotoğraf albümleri
C) Videolar
D) Arkadaşları



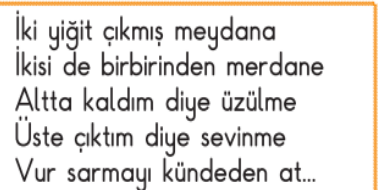
Yukarıdaki şemada soru işaretiyle gösterilen yerlere aşağıdakilerden hangisi yazılamaz?

- A) Mimari yapılar
B) Din ve inanışlar
C) Fabrikalar
D) Giyecek ve yiyecekler

12-----
I. Birdirbir
II. Saklambaç
III. Çelik çomak

Yukarıda verilen oyunlardan hangileri çocukların topluluk hâlinde oynadıkları oyunlardandır?

- A) I ve II B) I ve III
C) II ve III D) I, II ve III

13-----

İki yiğit çıkmış meydana
İkisi de birbirinden merdane
Altta kaldım diye üzülme
Üste çıktım diye sevinme
Vur sarmayı küdeden at...

Yukarıdaki tekerleme, hangi ata sporumuzun başlangıcında söylenmektedir?

- A) Cirit B) Okçuluk
C) Güreş D) Binicilik

14



Kurtuluş Savaşı'mızı anlatan yukarıdaki tabloya bakılarak aşağıdakilerden hangisi **söylenemez**?

- A) Ordumuz, gelişmiş silahlara sahiptir.
 B) Zor şartlar altında yapılmıştır.
 C) Savaşta, kadınlar da görev almıştır.
 D) Taşımada hayvan gücünden yararlanılmıştır.

15

Kurtuluş Savaşı'nın en önemli savaşlarının yaşandığı cephe "Batı Cephesi'dir. Batı Cephesi 15 Mayıs 1919'da Yunanlıların İzmir'i işgaliyle açılmış, 18 Eylül 1922'de Batı Anadolu'dan düşmanın kovulmasıyla sona ermiştir.

Aşağıdakilerden hangisi Batı Cephesi'nde yapılan bir savaş **değildir**?

- A) Sakarya Meydan Savaşı
 B) Çanakkale Savaşı
 C) I ve II. İnönü Savaşları
 D) Başkumandan Meydan Savaşı

16

Mustafa Kemal Atatürk, Kurtuluş Savaşı'na başlamadan önce;

- ♣ Genelgeler yayımlanmıştır.
- ♣ Kongreler yapmıştır.

Atatürk, bu çalışmalarla aşağıdakilerden hangisini amaçlamış **olamaz**?

- A) Birlik ve beraberliği güçlendirmek
 B) Yardımlaşma ve dayanışmayı arttırmak
 C) Halkta millî bilinç oluşturmak
 D) İşgallere karşı direnmeyenleri cezalandırmak

17

- ◆ I. İnönü Savaşı
- ★ II. İnönü Savaşı
- ▲ Sakarya Meydan Savaşı
- Başkumandan Meydan Savaşı

Yukarıdaki savaşların hangisinden sonra Mustafa Kemal'e "gazi" unvanı ve "mareşal" rütbesi verilmiştir?

- A) ◆ B) ★ C) ▲ D) ■

18

Kurtuluş Savaşı, Mustafa Kemal Atatürk'ün önderliğinde kadını, erkeği, çocuğu, genci ve yaşlısıyla kazanılmış bir savaştır. Bu mücadelede kadınlarımız önemli işler başarmışlardır.

Aşağıdakilerden hangisi bu kadınlarımızdan biri **değildir**?

- A) Kara Fatma B) Asker Saima
 C) Şerife Bacı D) Tansu Çiller

19

Antep'in Fransızlar tarafından işgaline karşı direnen Millî Mücadele kahramanımız hangisidir?

- A)  Şahin Bey
 B)  Sütçü İmam
 C)  Kazım Karabekir
 D)  Fevzi Çakmak

20

Mustafa Kemal Paşa, yurdumuzu düşman işgalinden kurtarmak için birçok çalışma yapmıştır.

Aşağıdakilerden hangisi bu çalışmalardan biri **değildir**?

- A) Düzenli ordunun kurulması
 B) Mondros Ateşkes Anlaşmasının imzalanması
 C) Sivas Kongresinin toplanması
 D) TBMM'nin açılması

21

Öğretmen: Kurtuluş Savaşı'nda Doğu Cephesi'nde kimlerle mücadele edilmiştir?

Mehmet: Fransızlarla

Zeynep: İngilizlerle

Ali: Yunanlılarla

Ayşe: Ermenilerle

Öğretmenin sorusuna hangi öğrencinin verdiği yanıt doğrudur?

- A) Ayşe B) Ali
 C) Mehmet D) Zeynep

22

Kürşat, yüzünü Güneş'in doğduğu tarafa dönüp kollarını açmıştır.



Buna göre Kürşat'ın sağ kolu hangi yönü gösterir?

- A) Doğu B) Kuzey
 C) Güney D) Batı

23

Aşağıdaki bilgilerden hangisi **yanlıştır**?

- A) Kutup Yıldızı daima kuzeyi gösterir.
 B) Karınca yuvalarının ağız kuzeye bakar.
 C) Ağaç ve taşların yosunlu tarafı kuzeyi gösterir.
 D) Pusula en güvenilir yön bulma aracıdır.

24

Aşağıdakilerden hangisi tabiat unsurlarına bağlı olarak yön bulma yöntemlerinden biri **değildir**?

- A) Kutup yıldızı
 B) Karınca yuvası
 C) Ağaçlardaki yosunlar
 D) Pusula