

Adı:
Soyadı:



1/G Çalışma Kağıdı



Tarih
...../...../2019

Problemleri çözelim. Doğru yanıtı ait kutuyu boyayalım.

2 bütün limonun her biri ortasından bölünürse kaç yarım limon oluşur?

1

2

4

2 yarım elma kaç bütün elma eder?

1

2

3

1 tane mandalina soyarak her bir çocuğuna yarım mandalina veren bir annenin kaç çocuğu vardır?

1

2

3

Etkinlik Aşağıdaki olayların sırasını düşünelim. İlk olan olay hangisidir? İşaretleyelim.

- Yarın sinemaya gideceğim.
- Dün Selim'le parkta buluştuk.
- Bugün okul servisini kaçırdım.

Etkinlik Aşağıdaki olaylardan hangisi en son yaşanmıştır? İşaretleyelim.

- Akşam yemeği yemek
- Öğle okuldan dönmek
- Sabah okula gitmek

Aşağıdaki ifadeleri okuyup, noktalı yerleri kutularda bulunan sözcüklerle tamamlayalım.

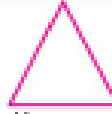





- Dört kenarı birbirine eşit olan geometrik şekle denir.
- Karşılıklı kenarları birbirine eşit olan, iki uzun ve iki kısa kenarı bulunan geometrik şekle denir.
- Üç kenarı olan geometrik şekle denir.
- Kenarı olmayan geometrik şekle denir.

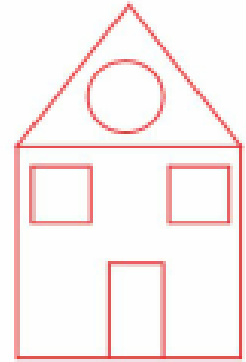
Aşağıdaki trafik levhalarının köşe ve kenarlarını renkli kalemle çizelim.



Geometrik şekillerin kenar ve köşe sayılarını yazalım.

Geometrik şekil	Kenar sayısı	Köşe sayısı
 Üçgen
 Dikdörtgen
 Kare
 Çember

Yandaki resme göre cümleleri tamamlayalım



- tane üçgen vardır.
..... tane kare vardır.
..... tane dikdörtgen vardır.
..... tane çember vardır.