

Adı:  
Soyadı:



Matematik  
3/F Çalışma Kağıdı



Tarih  
...../...../2019

## FUBUKİ

Toplamlara göre 1'den 9'a kadar sayıları birerkez kullanarak uygun yerlere yerleştirelim.

	1		13				22
	2		14		3		8
			18	2			15
24	9	12		15	14	16	

Sayı dizileri inceleyelim. Eksik sayıları bulalım.

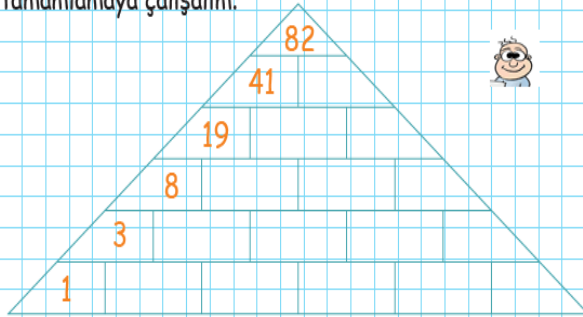
A)

14	18
32	

20	17
37	

24	16
.....	

3 dakika da piramidi tamamlamaya çalışalım.



1'den 9'a kadar sayıları öyle yerleştirelimki yatay, dikey ve çapraz olarak toplamları 15 olsun.

			15
	5		15
			15
15	15	15	15

2			15
			15
			15
15	15	15	15

Eksik sayıları tamamlayalım.

	12	
35		27
23	38	15

	...	
...		36
25	...	12

### Üst Beceri Gerektiren Sorular

Bir matematik sorusunu doğru yanıtlayanların sayısı yanlış yanıtlayanların 8 katıdır. Sınava 45 öğrenci katıldığına göre, soruyu doğru yanıtlayan öğrenci sayısı kaçtır?

- A) 5      B) 30      C) 40

Bir küme eşit sayıda tavşan ve tavuk vardır. Kümesteki hayvanların toplam ayak sayısı 120 ise bu küme kaç tane tavşan vardır?

Selin yeni aldığı kitabını 14:45 de okumaya başlıyor. Hiç ara vermeden 85 dakikada kitabı okuyor. Kitabı saat kaçta bitirmiştir?

- A) 15:50      B) 16:10      C) 17:30

Kuaför Ayşe Hanım yılda 5 L'lik şampuanlardan 70 şişe kullanıyor. Şampuanın 1 L'si 130 Kr olduğuna göre Ayşe Hanım'ın yıllık şampuan gideri kaç ₺'dir?

Adı:  
Soyadı:

Matematik  
3/F Çalışma Kağıdı

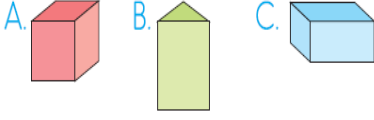
Problemini Kur

75 elma - 3 sepet - 1 sepet 45 TL

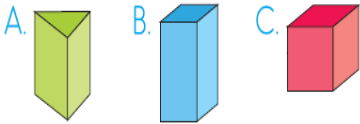
Konu Değerlendirme



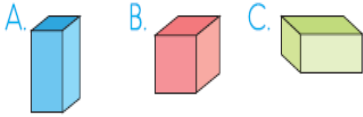
1 Aşağıdaki geometrik cisimlerden hangisinin hem üçgene hem dikdörtgene benzeyen yüzü vardır?



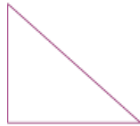
2 Aşağıdaki geometrik cisimlerden hangisinin kareye benzeyen yüzü yoktur?



3 Aşağıdaki geometrik cisimlerden hangisinin herhangi bir yüzeyi kullanarak kare çizilemez?

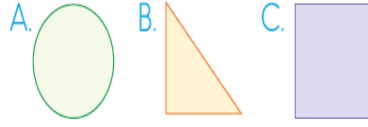


4 Yandaki üçgen için hangisi söylenemez?



- A. Üç kenarı vardır.  
B. Üç köşesi vardır.  
C. Üç köşegeni vardır.

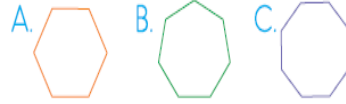
5 Aşağıdaki geometrik şekillerden hangisinin köşesi yoktur?



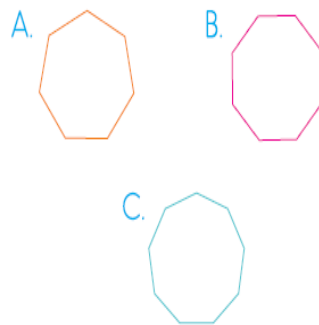
6 Aşağıda verilen bilgilerden hangisi yanlıştır?

- A. Karenin 4 eş kenarı vardır.  
B. Her üçgenin 3 eş kenarı vardır.  
C. Beşgenin 5 kenarı ve 5 köşesi vardır.

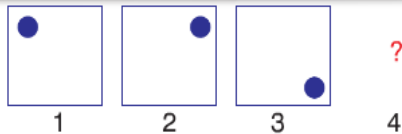
7 Aşağıdaki geometrik şekillerden hangisi sekizgendir?



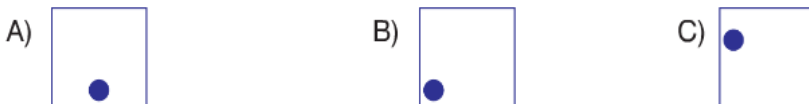
8 Aşağıdaki geometrik şekillerden hangisinin kenar sayısı diğerlerinden fazladır?



Genel Yetenek

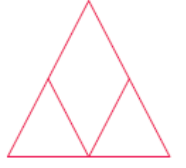


Şekiller arasındaki örüntüye göre 4. şekil hangisidir?


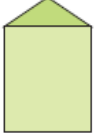


9 Yandaki şekilde kaç tane üçgen vardır?

- A. 3  
B. 4  
C. 5



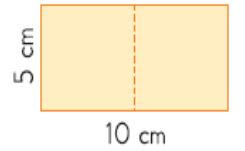
10 Yandaki şeklin yüzleri kullanılarak hangi seçenekteki geometrik şekil çizilemez?



Kare ve dikdörtgen arasındaki fark hangisinde doğru verilmiştir?

- A. Köşegen sayıları  
B. Kenar ve köşe sayıları  
C. Kenar uzunlukları

12 Yandaki dikdörtgen ortasından 2 eş parçaya ayrılıyor.



Oluşan şekillerle ilgili hangisi söylenir?

- A. İki eş kare oluşur.  
B. İki eş dikdörtgen oluşur.  
C. İki eş beşgen oluşur.

13) Aşağıda verilen bilgilerden hangisi yanlıştır?

- A. Silindirin yan yüzü üçgen bölgedir.  
B. Üçgen prizmanın yan yüzü ile dikdörtgen çizilebilir.  
C. Küpün herhangi bir yüzü kullanılarak kare çizilebilir.