

Adı:
Soyadı:



1/G Çalışma Kağıdı



Tarih
...../...../2019

HAYAT BİLGİSİ

4. ÜNİTE DEĞERLENDİRME TESTİ

1.



Yukarıdaki davranışlardan kaç tanesi doğrudur?

A) 1

B) 2

C) 3

2. Okulda merdivenleri kullanırken hangisi yapılmamalıdır?


A) Merdivenlerden inerken korkuluklara tutunmak

B) Merdivenlerden inerken sağ tarafı kullanmak


C) Merdivenleri çıkarken sol tarafı kullanmak

3. Hangi resimde trafik kurallarına uymayan bir davranış vardır?


A)



B)



C)



4. Acil telefon numarası eşleştirmelerinden hangisi yanlıştır?

A) 1 - 1 - 0 → İtfaiye

B) 1 - 5 - 5 → Polis imdat

C) 1 - 7 - 6 → Jandarma

5. Ülkemizin başkenti aşağıdakilerden hangisidir?

A) İstanbul

B) Ankara

C) Konya

6. Aşağıdakilerden hangisi ülkemizde yaşayan farklı kültürlerden insanlar arasındaki benzer yönlerdendir?

A) Temel ihtiyaçlar

B) Geleneksel kıyafetler

C) Konuşulan dil

7. Aşağıdaki haritalardan hangisi yurdumuz Türkiye'ye aittir?

A)



B)



C)



8. Aşağıdakilerden hangisi millî marşımızdır?

A) Onuncu Yıl Marşı

B) Gençlik Marşı

C) İstiklâl Marşı

9. Aşağıdakilerden hangisi yurdumuzun turistik yerlerinden biri değildir?

A)



B)



C)



10. Aşağıdakilerden hangisi tarihî bir yapıdır?

A)



B)



C)

