

Adı:
Soyadı:



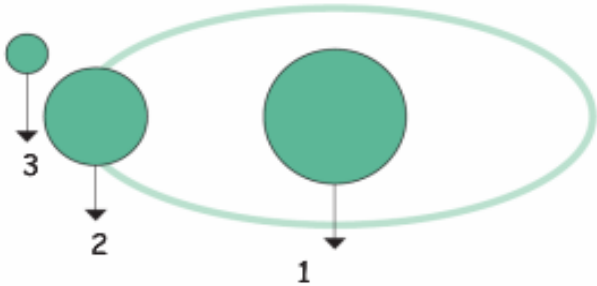
FEN BİLİMLERİ
4/F Çalışma Kâğıdı



Tarih
...../...../2019

Aşağıdaki ifadeler, Dünya'mızın kendi ekseninde dönmesi ile ilgili ise kutucuklara A, Dünya'mızın Güneş etrafında dolanımı ile ilgili ise B yazınız.

- Gün içinde gölgemizin boyu değişir.
- Bu dolanım 365 gün 6 saat sürer.
- Mevsimler meydana gelir.
- Dünya'nın bu dönüşü (dolanımı) elips şeklindedir.
- Bu dönüşle geçen süreye bir gün denir.
- Gece ve gündüz meydana gelir.
- Kış mevsiminde havalar soğuk, yaz mevsiminde havalar sıcak olur.
- Gün boyu sıcaklık farkları oluşur.
- Yıl içinde bazen geceler bazen de gündüzler daha uzun olur.




Yukarıdaki görselde numaralandırılmış gök cisimleri aşağıdakilerden hangisinde sırası ile verilmiştir?

- A) Dünya-Ay-Güneş
B) Güneş-Dünya-Ay
C) Ay-Dünya-Güneş
D) Dünya-Güneş-Ay

Aşağıdaki soruların cevaplarını bulmaya yerleştiriniz.

- a- Bir günlük zaman dilimi
b- Dünya Güneş etrafında bir kez dolanınca meydana gelir.
c- Dünya'nın Güneş ışıklarını aldığı bölümünde yaşarır.
d- Güneş'in battığı ana yönümüz.
e- Dünya'nın Güneş etrafında dolanırken oluşturduğu şeklin adı.
f- Güneş'in doğduğu anki zaman
g- Sonbahar aylarından Eylül ve Ekim olmayanı
h- Dünya'nın Güneş etrafında dolanırken izlediği yol
i- Dünya'nın Güneş'e en uzak olduğu mevsim.
j- Dünya'mızın şekli.
k- Dünya'mızın üzerinde yaşadığımız tabakası.
l- En büyük su kütlesi.
m- Yer kabuğunu oluşturan mineraller.



Adı:
Soyadı:







SOSYAL
4/F Çalışma Kâğıdı



ÖDEV KONTROL VELİ İMZA

.....

- 1- Cumhuriyet İlkokulunda halk oyunları kursu açılmıştır. Halk oyunları eğitmeni aşağıdaki öğrencilerden hangilerini bu kursa dahil etmek ister?
- A) Yazısı ve boyaması güzel olan.
B) Sesi güzel olan
C) Müzik kulağı iyi ve ritim duygusu iyi olan.
D) Matematiksel zekası iyi olan.
- 2- Büyüdüğünde futbolcu olmak isteyen Gökdeniz'in aşağıdaki özelliklerden hangisinin olmasına gerek yoktur?
- A) Sportif olmak
B) Düzenli spor yapmak.
C) Paylaşıcı olmak, oyun kurallarına uymak.
D) Bencil olmak, çok koşmak.
- 3- Sesi güzel olan ve güzel şarkı söyleyen Burcu'nun müziğe karşı ilgisi vardır. Açılan müzik kursunda enstrüman çalmayı öğrenmek istemektedir. Buna göre Burcu için aşağıdakilerden hangisi ihtiyaç olur?
- A)  B) 
- C)  D) 
- 4- Okulda ya da dışarıda düzenlenen sosyal etkinliğe katılmak isteyen bir öğrenci için aşağıdakilerden hangisi doğru olmaz?
- A) Katıldığı etkinlik okuldaki derslerini ve ödevlerini engellememeli.
B) İlgi ve yeteneklerine uygun olmalı.
C) Sevdiği bir etkinlik olmalı.
D) Bu etkinliğe ailesinin zoru ile katılmalı.

5. İnsanlar, fiziksel ve duygusal özellikleri bakımından birbirinden farklıdır. Buna göre aşağıdakilerden hangisi fiziksel farklılıklardan biri değildir?
- A) boyları B) ağırlıkları
C) alışkanlıkları D) saç renkleri
6. "Herkes bizim gibi düşünmek ve davranmak zorunda değildir, diyen biri için aşağıdakilerden hangisi söylenebilir?
- A) cesaretli B) hoşgörülü
C) konuksever D) yardımsever
7. "Ödevlerimi zamanında yaptım." diyen Furkan'ın yüz ifadesi hangisi olur?
- A)  B) 
- C)  D) 
8. Yandaki balonlardan insanlar için ortak olmayan ifadeyi içeren balon patlatılacaktır. Buna göre patlayan balon hangisi olur?
- A) turuncu B) mavi
C) mor D) sarı
- 