

Adı:  
Soyadı:


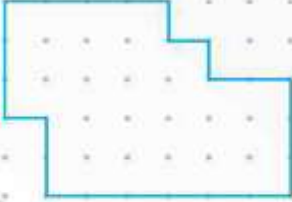

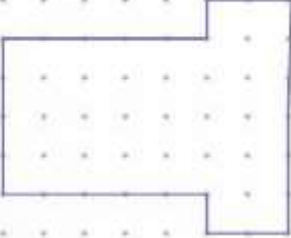
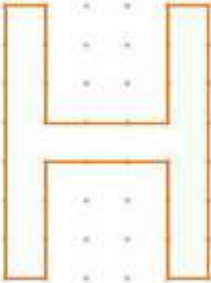

3/G SINIFI  
Ev Çalışması

Tarih  
...../...../2021

## Düzlemsel Şekillerin Çevre Uzunluğu

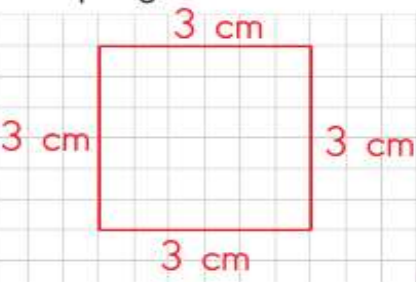
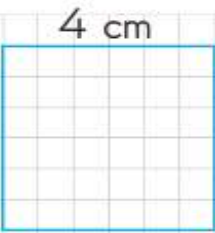
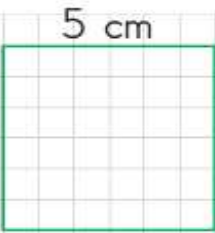
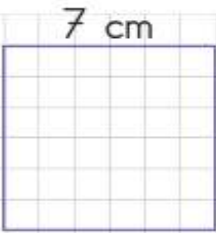
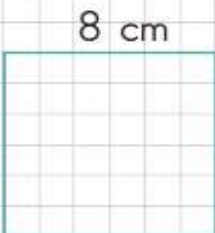


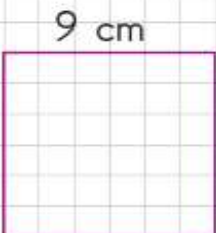
Aşağıdaki düzlemsel şekillerin çevre uzunluklarını bulunuz.  
(İki nokta arası 1 birimdir.)

Çevre uzunluğu ölçülürken aynı kenarları tekrar tekrar ölçmemeliyiz ve ölçülmeyen kenar kalmamasına dikkat etmeliyiz.

		
? ___ birim	? ___ birim	? ___ birim
		
? ___ birim	? ___ birim	? ___ birim


## Karenin Çevre Uzunluğu

Bir kenar uzunluğu verilen kare modellerinin çevre uzunluğunu örnekteki gibi hesaplayınız.







			
$C = 4 \times 3 = 12 \text{ cm}$	? ?	? ?	? ?
			
? ?	? ?	? ?	? ?

## Dikdörtgenin Çevre Uzunluğu







Aşağıdaki örneği inceleyiniz. Kenar uzunlukları verilen dikdörtgen modellerinin çevre uzunluğunu hesaplayınız.

	1. Yöntem	2. Yöntem	3. Yöntem
	$15 + 5 = 20$ $20 \times 2 = 40 \text{ cm}$	$15 \times 2 = 30$ $5 \times 2 = 10$ $30 + 10 = 40 \text{ cm}$	$15$ $15$ $5$ $5$ $+ 5$ <hr/> $40 \text{ cm}$

1 Aşağıda modellenen dikdörtgenlerin çevre uzunluklarını 1. yöntem ile bulunuz.

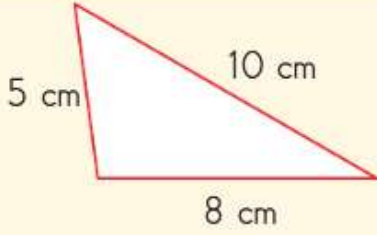
2 Aşağıda modellenen dikdörtgenlerin çevre uzunluklarını 2. yöntem ile bulunuz.

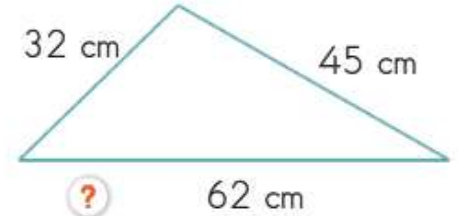
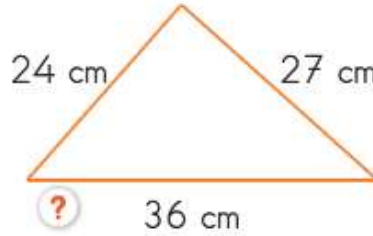
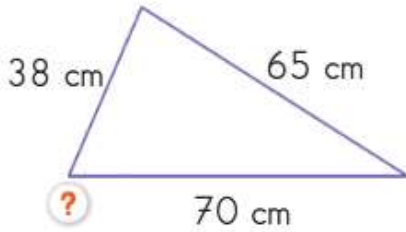
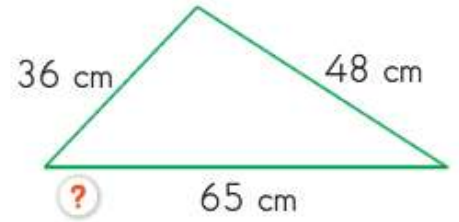
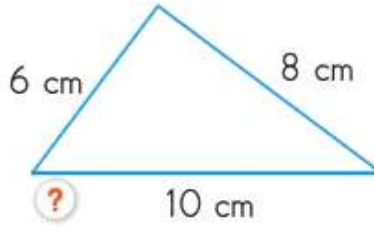
## Üçgenlerin Çevre Uzunluğu

- 1 Aşağıdaki çeşitkenar üçgen modellerinin çevre uzunluğunu örnekteki gibi hesaplayınız.

Çeşitkenar üçgenin üç kenarının uzunlukları birbirinden farklıdır.



$$Ç = 5 + 8 + 10 = 23 \text{ cm}$$



Kokar burcu burcu güller,  
Öter dallarda bülbüller,  
Açar menekşe sümbüller  
Ne güzeldir Türkiye'miz.

Köyü kenti çiçeklidir,  
Birbirine eklidir,  
Çelik erlerle beklidir.  
Ne güzeldir Türkiye'miz.

Sürüler yayılır kıra,  
Dağlar uzanır sıra sıra,  
Sular can verir çayıra  
Ne güzeldir Türkiye'miz.

Kucağında yoktur açlar  
Yeşil boz sarı yamaçlar  
Meyve yüklüdür ağaçlar  
Ne güzeldir Türkiye'miz.

M. Necati ÖNGAY

Yukarıdaki şiirle ilgili olarak;

1. Şiirin başlığı "TÜRKİYE'MİZ" olabilir.
2. Şiirin dize sayısı on ikidir.
3. Şiir dört kıtadan oluşmuştur.
4. Şiirin ana duygusu ülkemizdeki güzelliklerdir.

Yukarıda verilenlerden hangileri doğrudur?

A. 1. 2 ve 3

B. 2, 3 ve 4

C. 1, 3 ve 4

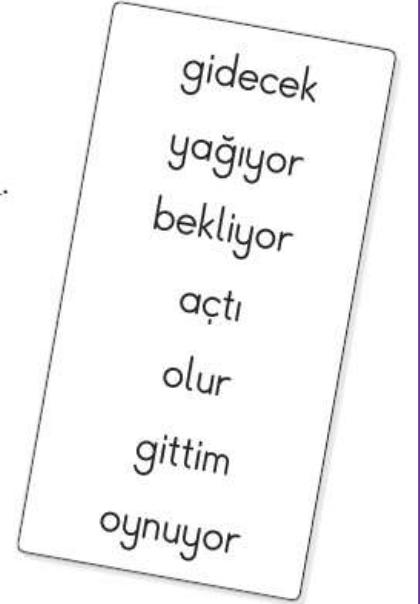
Aşağıdaki cümlelerde adın yerine kullanılan sözcükleri bulup altını çiziniz.

- Topu cama o attı.
- Sen etrafı toparla, ben erken dönerim.
- Güneş enerjisiyle çalışan bu aracı biz tasarladık.
- Kampa onlar da gelecekti.
- O, yalnız başına bahçede top oynuyordu.
- Çok çalıştığımız için maçı biz kazandık.
- Bu akşam ben de sizinle geleceğim.
- Pikniğe sadece o katılmadı.
- Ben anneme bir demet çiçek aldım.
- Zor durumda kalınca onlar yardım etti.



Aşağıdaki cümlelerde boş bırakılan yerleri verilen sözcüklerden uygun olanları ile tamamlayınız.

- Bütün öğrenciler bahçede \_\_\_\_\_.
- Cihan, gelecek yıl dördüncü sınıfa \_\_\_\_\_.
- Evden okula yürüyerek \_\_\_\_\_.
- Deniz, bahçede Kayra ile \_\_\_\_\_.
- Bahçede rengarenk çiçekler \_\_\_\_\_.
- Dışarıda çok şiddetli yağmur \_\_\_\_\_.
- Ezgi, kesinlikle bu yarışmanın birincisi \_\_\_\_\_.



Aşağıdaki cümlelerde iş veya hareket bildiren sözcüklerin altını çiziniz.

- Kral kızlarını çok severmiş.
- Ortanca kızına "Beni ne kadar seviyorsun?" diye sormuş.
- Aşçı kız kralın yanına gitmiş.