

Adı:  
Soyadı:



Matematik  
3/F Çalışma Kağıdı



Tarih  
...../...../2019

Sayı dizisindeki eksik sayıları bulalım.

A) 12 13 15 16 18 19 21 ....

B) 3 6 12 24 .... 96 192 384

C) 1 6 16 21 31 36 46 .....

### FUBUKİ

Sayıları 1'den 9'a kadar birer kez kullanalım. Toplamlarına göre yerleştirelim.

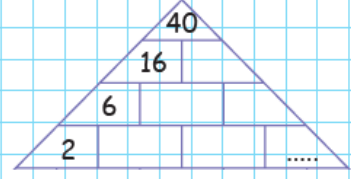
			11		1		14
	2		14		4		17
			20				14
17	14	14		24	8	13	

Sayı dizilerindeki eksik sayıları tamamlayalım.

A) 8 25 20 12 17 10  
12 40 7 18 44 22 8 ..... 19  
20 8 6 10 13 9

5 → 6 → 8 → 7 → 8 → 8  
2 → 2 → 3 → 8 → 5 → 9  
1 → 4 → 2 → 0 → 7 → 7  
2 → 1 → 5 → 9 → 6 → 10  
5 → 7 → 7 → 6 → 9 → ?

### Üst Beceri Gerektiren Testler



Sayı piramidi tamamlandığında noktalı yere hangi sayı gelmelidir?

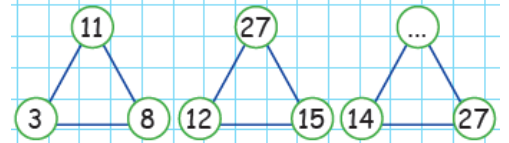
A) 3 B) 8 C) 10

24 → 25 → 27 → 30

... ← 45 ← 39 ← 34

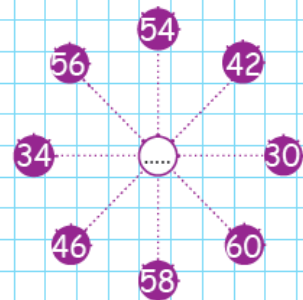
Sayı dizisinde sıradaki sayı kaçtır?

A) 50 B) 51 C) 52



Sayı dizisinde eksik sayı kaçtır?

A) 27 B) 38 C) 41



Sayı çarkındaki eksik sayı hangisidir?

A) 4 B) 8 C) 12

3	9	11	23	19	.....
2	7	16	15	30	.....

Noktalı yere gelmesi gereken sayıların farkı kaçtır?

A) 7 B) 14 C) 21

Adı:  
Soyadı:

Matematik  
3/F Çalışma Kağıdı

Problem Kur

4 cm - 30 cm - çevre

⚠️ Aşağıdaki bilmecelerin cevaplarını bulalım. Resimlerle eşleştirelim.

Şekere benzer,  
Tadı yok.  
Gökte uçar,  
Kanadı yok.



Bulutlar süzülür,  
İnci gibi dizilir.  
Çamur olur ezilir,  
Bu nedir?

Karşıdan baktım,  
Pek çok,  
Yanıma vardım,  
Hiç yok.



Kara kara  
kümeler,  
Dedem durmaz,  
Un eler.

Yağar gökte,  
Tıp tıp.  
Yürürken yolda,  
Şıp şıp.




Bazen gökte,  
Bazen yerde.

Practice



Aşağıdaki görseli istenilen renklere boyayınız.



The bed is green.

⚠️ The carpet is orange.

⚠️ The lamp is pink.

⚠️ The wardrobe is blue.

⚠️ The desk and the chair are brown.

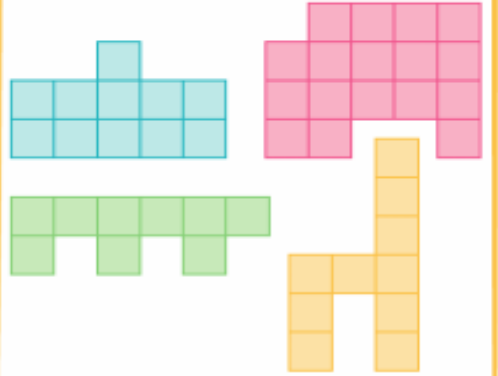

⚠️ The armchair is purple.

⚠️ The ball is red.

⚠️ The kite is yellow and orange.

Şekilleri Aynen Çiz ve Boya

Şekilleri birimkarelere göre  
noktalı alana çizelim.



Bir Sorum Var

Elif kare şeklindeki parkın etrafını  
2 kez koşmuştur.

Toplamda 96 metre koştuğuna  
göre, parkın bir kenarı kaç metredir?

