

Adı:  
Soyadı:





Matematik  
3/F Çalışma Kağıdı

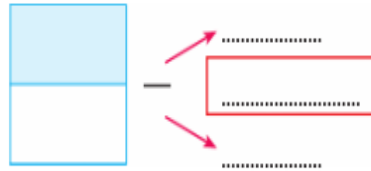
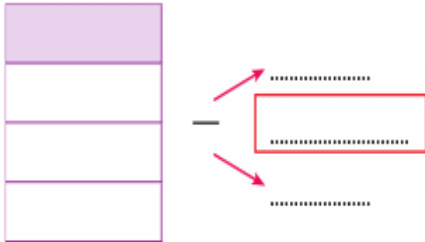
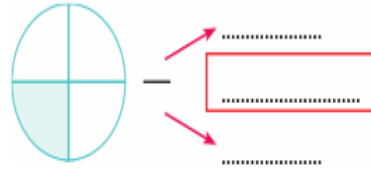
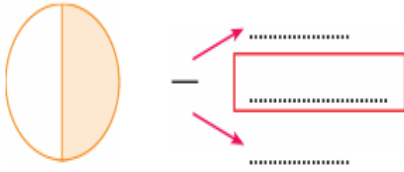
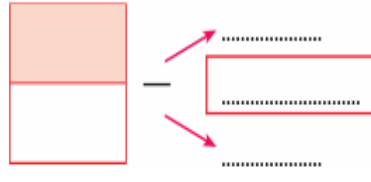
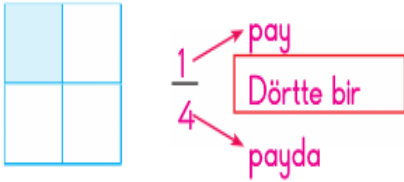


Tarih  
...../...../2019

✿ Aşağıdaki eş parçalara ayrılmış bütünlerin bir parçasını boyayınız. Boyalı kısmı gösteren birim kesirleri yazınız.



✿ Aşağıdaki çalışmaları örnekten yararlanarak yapınız.



✿ Aşağıdaki kesir ifadelerinden yararlanarak bütünleri payda kadar eş parçalara bölüp belirtilen pay kadarını boyayınız.



$$\frac{1}{2}$$



$$\frac{1}{4}$$




$$\frac{1}{2}$$



$$\frac{1}{4}$$



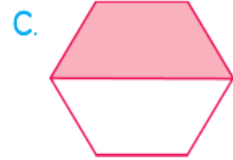
$$\frac{1}{2}$$



$$\frac{1}{4}$$

MINİ TEST

1 Aşağıdaki renkli bölgelerden hangisi kesir sayısı ile gösterilemez?



2 Payı 3, paydası 5 olan kesrin modeli aşağıdakilerden hangisidir?



3 Okunuşu "altıda iki" olan kesir aşağıdakilerden hangisidir?

A.  $\frac{6}{2}$

B.  $\frac{2}{6}$

C.  $\frac{6}{6}$

4 Aşağıdaki kesirlerden hangisinin okunuşu doğrudur?

A.  $\frac{1}{3}$  → birde üç

B.  $\frac{2}{5}$  → beşte iki

C.  $\frac{3}{7}$  → üçte yedi

5 Aşağıdakilerden hangisi birim kesirdir?

A.  $\frac{1}{5}$













B.  $\frac{5}{1}$

C.  $\frac{5}{5}$

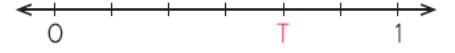
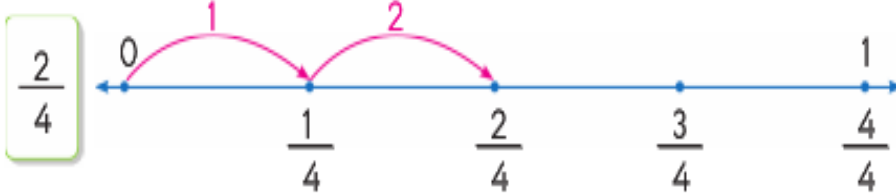
Adı:  
Soyadı:

**KESİR KAVRAMI**  
**3/F Çalışma Kağıdı**

❁ Aşağıdaki grupların belirtilen birim kesir kadarını boyayınız.

		
		
		
		
$\frac{1}{4}$	$\frac{1}{3}$	$\frac{1}{2}$
Toplam elma sayısı: 12	Toplam elma sayısı: .....	Toplam elma sayısı: .....
Boyanan elma sayısı: 3	Boyanan elma sayısı: .....	Boyanan elma sayısı: .....

❁ Aşağıdaki örneği inceleyiniz. Verilen kesir sayılarını sayı doğrusunda gösteriniz.



Yukarıdaki sayı doğrusunda T harfine karşılık gelen kesir hangisidir?


- A.  $\frac{1}{6}$       B.  $\frac{4}{6}$       C.  $\frac{5}{6}$

❁  $\frac{3}{10}$  kesri ile ilgili verilen bilgilerden hangisi yanlıştır?

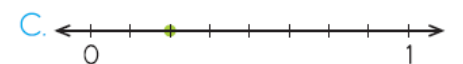
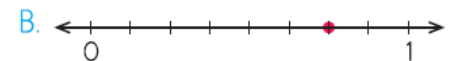
- A. Bütün, 10 eş parçaya ayrılmıştır.  
B. Kesrin birimi  $\frac{1}{10}$  dir.  
C. Payında 10 sayısı vardır.

$\frac{4}{7}$  kesrinde kaç tane birim kesir vardır?

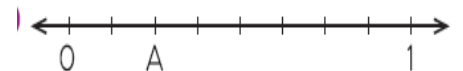
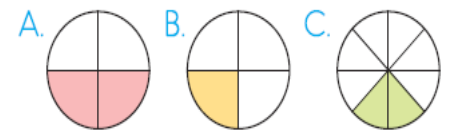
- A. 4      B. 7      C. 11



Yukarıda modellenen kesir hangi sayı doğrusunda gösterilmiştir?



Aşağıdaki bütünlerden hangisinin boyalı kısmı yarımı gösterir?



Yukarıdaki sayı doğrusunda A harfine karşılık gelen kesir hangisidir?

- A.  $\frac{4}{8}$       B.  $\frac{2}{8}$       C.  $\frac{1}{8}$