

Adı:
Soyadı:

MATEMATİK
ÇALIŞMA KAĞIDI



Tarih
...../...../2018

TEST 1

Geometrik Cisimler

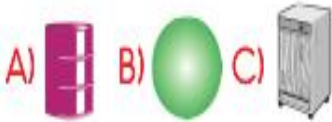
1. Aşağıdakilerden hangisi küreye benzer?



2. Aşağıdakilerden hangisinin köşesi yoktur?



3. Aşağıdakilerden hangisi dikdörtgenler prizmasına benzer?



4. Aşağıdakilerden hangisi üçgen prizmaya benzer?



5. Aşağıdakilerden hangisinin ayrıtları (kenarları) çoktur?



6. Aşağıdaki cisimlerden hangisi küreye benzer?



7. Aşağıdaki cisimlerden hangisi silindire benzer?



8. Aşağıdaki cisimlerden hangisi diğerlerinden farklıdır?



İngilizce Mini Testimiz



Resme göre doğru olan seçeneği işaretleyiniz.

- A) cafe
B) stop
C) camp

Aşağıdakilerden hangisi bir meslek adıdır?

- A) E-mail
B) Doctor
C) Wagon

Aşağıdaki diyalogu tamamlayan seçeneği işaretleyiniz.

What's your name? _____



- A) I'm John.
B) Good night!
C) Fine, thanks.

Aşağıdaki öğrenciye öğretmeni ne söylemiştir?

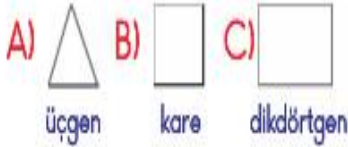


- A) Raise your finger.
B) Open the door.
C) Say hello.

9. Aşağıdaki cisimlerden hangisi küpe benzer?



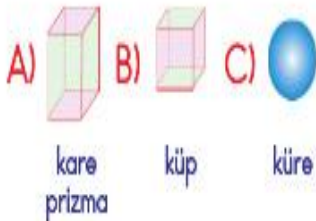
10. Üçgen prizmanın alt ve üst tabanları hangi geometrik şekle benzer?



11. Aşağıdaki cisimlerden hangisinin köşesi yoktur?



12. Aşağıdaki cisimlerden hangisinin tüm yüzeyleri karedir?



13. Aşağıdaki cisimlerden hangisinin tüm yüzeyleri dikdörtgendir?



14. Aşağıdaki cisimlerden hangisinin adı doğru yazılmıştır?



15. Aşağıdaki cisimlerden hangisi dikdörtgenler prizmasına benzer?




16. Küpün kaç yüzeyi vardır?



Aşağıdaki cümle hangi seçenekteki kişiye söylenmiştir?

Clean the board.



Aşağıdaki resmi ifade eden seçeneği işaretleyiniz.



A) Scissors B) Sharpener
C) Book

Aşağıdaki boşluğu tamamlayan seçeneği işaretleyiniz.

How _____ tables are there?

A) many B) old C) is

Boşluğa uygun olan seçeneği işaretleyiniz.



A) One B) Seven C) Five

Aşağıdaki boşluğa seçeneklerden hangisi getirilemez?

There is one _____ .

A) books
B) table
C) board