

Adı: _____
Soyadı: _____



Matematik
3/F Çalışma Kağıdı



Tarih
...../...../2019

1. Aşağıda verilen kesirlerin okunuşlarını yazınız. Modellerin belirtilen kesir kadarını boyayınız.

Kesir : $\frac{1}{2}$

Okunuş :

Modelleme

Kesir : $\frac{1}{4}$

Okunuş :

Modelleme

Kesir : $\frac{3}{3}$

Okunuş :

Modelleme

Kesir : $\frac{1}{2}$

Okunuş :

Modelleme

2. Aşağıda verilen kesirleri model üzerinde boyayarak gösteriniz.

$\frac{2}{4}$ Dörtte iki

$\frac{3}{5}$ Beşte üç

$\frac{4}{8}$ Sekizde dört

$\frac{6}{7}$ Yedide altı

$\frac{3}{10}$ Onda üç

$\frac{5}{9}$ Dokuzda beş

$\frac{9}{11}$ On birde dokuz

$\frac{7}{10}$ Onda yedi

MINİ TEST

1. Yanda modellenmiş kesir aşağıdakilerden hangisidir?



A) $\frac{1}{3}$ B) $\frac{1}{6}$ C) $\frac{1}{4}$

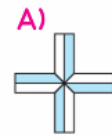
2. $\frac{3}{14}$ kesrinin okunuşu aşağıdakilerden hangisidir?

A) Üç bölü dört
B) On dörtte üç
C) Üçte on dört

3. Okunuşu "on sekizde üç" olan kesir aşağıdakilerden hangisidir?

A) $\frac{3}{18}$ B) $\frac{18}{3}$ C) $\frac{3}{8}$

4. Yandaki kesrin model gösterilişi aşağıdakilerden hangisidir?



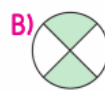
5. $\frac{6}{20}$ kesri için aşağıdakilerden hangisi söylenemez?

A) Bir bütün 20 eş parçaya ayrılmıştır.
B) Pay, 6 tane birim kesirden oluşmuştur.
C) Pay, paydadın büyüktür.

6. Aşağıdaki kesirlerden hangisi bir bütünü ifade etmez?

A) $\frac{5}{5}$ B) $\frac{8}{10}$ C) $\frac{16}{16}$

7. Aşağıdaki modellenmiş kesirlerden hangisi yarımı ifade etmez?



8. Yandaki kesrin okunuşu aşağıdakilerden hangisidir?



A) 12'de 7
B) 13'te 7
C) 13'te 6

Adı:
Soyadı:

KESİR KAVRAMI
3/F Çalışma Kağıdı

**El elden üstündür...
Anlamını öğrenelim**

Aşağıdaki kesir sayısı, okunuşu ve modeli aynı olanları eşleştiriniz.

$$\frac{1}{4}$$

Sekizde beş



$$\frac{7}{8}$$

Beşte üç



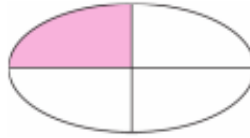
$$\frac{5}{8}$$

Sekizde yedi



$$\frac{4}{9}$$

Dokuzda altı



$$\frac{3}{5}$$

Dörtte bir

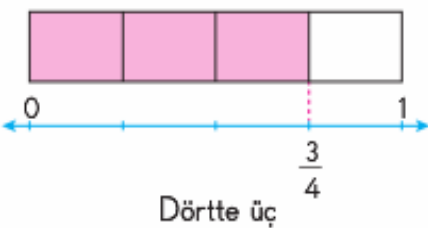


$$\frac{6}{9}$$

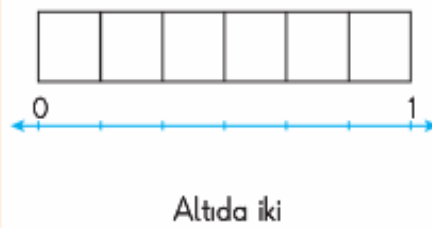
Dokuzda dört



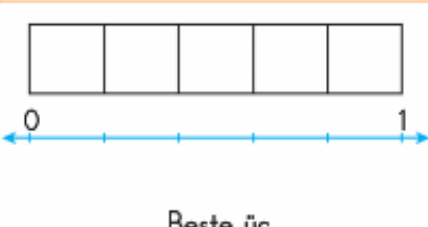
2. Aşağıda okunuşları verilen kesirleri örnekteki gibi model ve sayı doğrusu üzerinde gösteriniz.



Dörtte üç



Altıda iki



Beşte üç

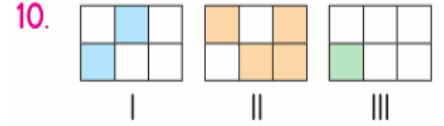


Yedide beş



Yukarıdaki sayı doğrusunda A harfinin gösterdiği kesir hangisidir?

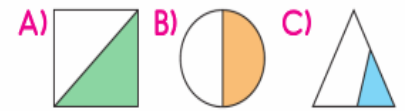
- A) $\frac{4}{7}$ B) $\frac{5}{6}$ C) $\frac{7}{8}$



Numaralanmış kesir modellerinden hangisi birim kesri ifade etmektedir?

- A) III B) II C) I

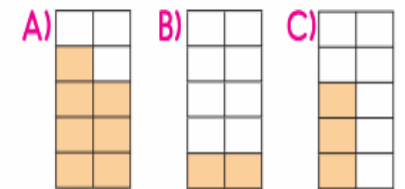
11. Aşağıdaki şekillerden hangisinin boyalı kısmı kesirle gösterilemez?



Yukarıdaki sayı doğrusunda hangi harf $\frac{4}{7}$ kesrine karşılık gelir?

- A) B B) D C) F

13. Nalan, 10 parça çikolatanın 7 parçasını yedi. Kalan çikolatanın modelle gösterilişi hangisidir?



14. Manav Remzi, 56 kilogram muzun $\frac{1}{7}$ 'ini sattı.

Manav Remzi, kaç kilogram muz satmıştır?

- A) 8 B) 9 C) 10