

Adı:
Soyadı:



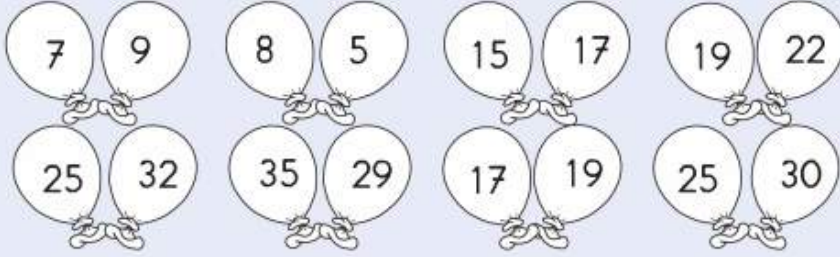
Matematik
2/F Çalışma Kağıdı



Tarih
...../...../2017

---SAYILARI KARŞILAŞTIRMA---

İkili balonları karşılaştıralım. Sayısı küçük olan balonu boyayalım.



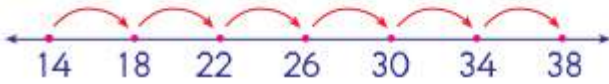
---RİTMİK SAYALIM---



Serkan

Arkadaşlar, 18 sayısından başlayıp ileriye doğru üçer ritmik saydığımızda dördüncü saymada hangi sayıyı söyleriz?

Aşağıdaki sayı doğrusu üzerinde kaçar ritmik sayma yapılmıştır?



---TOPLAMA YAPALIM---

36	20	25	36	48
10	32	35	15	26
+ 6	+ 40	+ 5	+ 10	+ 2

Problem: Masadaki 3 tabaktan birincisinde 10 çilek, ikincisinde 9 çilek, üçüncüsünde 7 çilek var. Üç tabaktaki çileklerin sayıları toplamı kaç eder?

Problem : Güneş 12 yaşında, annesi 39 yaşında, babası ise annesinden 3 yaş büyüktür. Buna göre üçünün yaşları toplamı kaçtır?

Problem : Okulumuzun 2 A sınıfında 18, 2 B sınıfında 40 öğrenci var. 2 C sınıfındaki öğrenci sayısı ise 2 B sınıfından 3 eksiktir. Üç sınıftaki öğrencilerin sayıları toplamı kaçtır?

Enes SERT
2/F Sınıfı Çalışmaları

---Mini Test---

Eksileni 40, çıkanı 35 olan bir çıkarma işleminde farkın 3 fazlası kaç olur?

A) 5 B) 8 C) 2

4 düzine kalem, 3 deste kalem çıkartırsak sonuç kaç olur?

A) 18 B) 4 C) 12

27 cevizin kaç tanesini yersen geriye 19 ceviz kalır?

A) 12 B) 14 C) 8

Ekrem 9, Melike 7, Berkay ise Ekrem'den 3 yaş küçüktür. Üçünün yaşları toplamı kaçtır?

A) 22 B) 19 C) 18

$$44 + 35 = ?$$

işleminin zihinden yaparsak aşağıdaki sayılardan hangisini bulunuz?

A) 69 B) 96 C) 79

Kilogram fiyatı 6 TL olan muzdan 2 kilogram aldım. Satıcıya 20 TL verirsem, geriye kaç TL para üzeri alırım?

A) 6 B) 8 C) 4

Adı:
Soyadı:



Matematik
2/F Çalışma kağıdı



Atasözünün Anlamını öğren
Sakınan göze çöp batar.

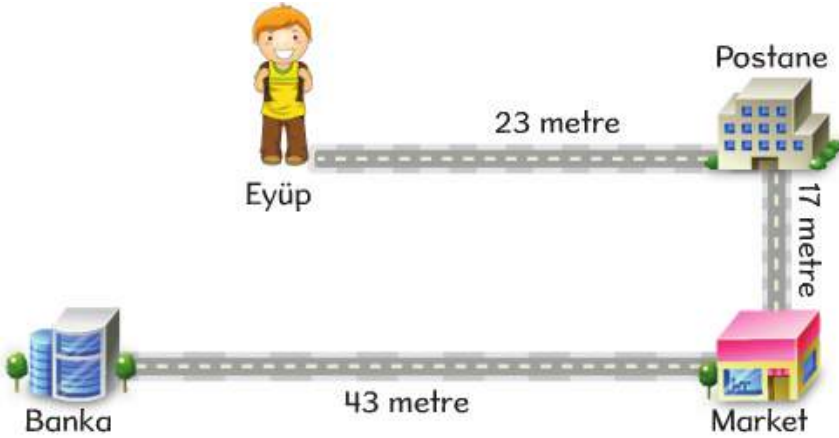
---- Problem Çözelim----

Mustafa 18 yaşındadır. Mustafa'nın abisi 6 yaş, ablası 4 yaş Mustafa'dan büyüktür. Buna göre Mustafa'nın abisi ve ablasının yaşları toplamı kaçtır?

Bir firma reyonaya koyduğu bir elbiseden ocak ayında 18, şubat ayında 14 ve mart ayında 8 tane satmıştır. Bu firma bu elbiseden ocak, şubat ve mart aylarında toplam kaç tane satmıştır?

Bir fırında cumartesi 51 simit ve 33 kepekli ekmek satılmıştır. Buna göre fırında toplam kaç simit ve kepekli ekmek satılmıştır?

Dilara'nın kütlesi 42 kilogram ve Davut'un kütlesi 57 kilogramdır. İkisinin kütlesi toplamı tahminen kaç kilogramdır?



Eyüp bulunduğu noktadan önce postaneye, oradan markete ve oradan da bankaya gidiyor. Eyüp kaç metre yol yürümüştür?

Bir top sepetinde 85 top vardır. Bu toplardan 18'i mavi, 37'si yeşil ve geri kalanlar kırmızıdır. Sepette kaç kırmızı top vardır?

----Mini Test----

Bir sepetteki 60 yumurtanın 23 tanesi kırıldı. Kalan yumurtaların 30 tanesi satılınca sepette kaç yumurta kalır?

Nermin 7 yıl sonra 15 yaşında olacaktır. Nermin 3 yıl önce kaç yaşındaydı?

98 santimetre uzunluğundaki bir ipin her iki ucundan 18 santimetre kesiliyor. Geri kalan ipin uzunluğu kaç santimetredir?

Cebinde 40 ₺ olan Sena, tanesi 4 ₺ olan kitaplardan 8 tane aldığında kaç lirası kalır?

Bir çiçekçide 92 tane çiçek vardır. 7 deste çiçek satıldığında geriye kaç çiçek kalır?

Bir hastanede hemşirelerin sayısı, doktorların sayısından 21 fazladır. Bu hastanede 16 doktor olduğuna göre hemşire ve doktorların toplam sayısı kaçtır?

İki doğal sayının toplamı 82'dir. Bu sayılardan biri 53 olduğuna göre bu iki sayının farkı kaçtır?

Enes SERT
2/F Sınıfı Çalışmaları