

Adı:

MATEMATİK

Tarih







Soyadı:

ÇALIŞMA KAĞIDI

...../...../2018

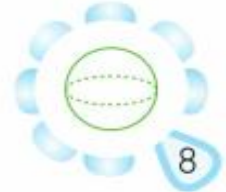
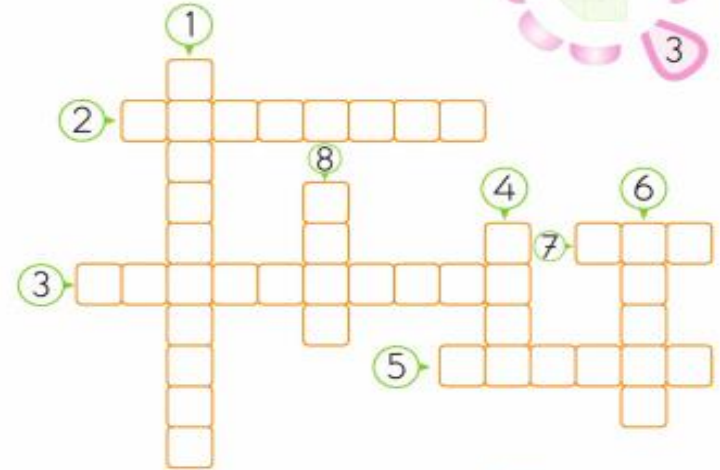
Geometrik Cisimleri Tanıyorum

Aşağıdaki tabloda boş bırakılan kutuları dolduralım.

Geometrik Cismin Adı	Ayırıt Sayısı	Köşe Sayısı	Yüzey Sayısı	Yüzeylerin Şekli







Geometrik Cisimler ve Şekiller

Geometrik cisimlerin ve şekillerin adını numaralarına dikkat ederek bulmacadaki yerlerine yazalım.



A. Aşağıdaki milli bayramları, tarihleriyle eşleştirelim.

Zafer Bayramı	19 Mayıs	Atatürk'ü Anma ve Gençlik ve Spor Bayramı
Ulusal Egemenlik ve Çocuk Bayramı	29 Ekim	Cumhuriyet Bayramı
	30 Ağustos	
	23 Nisan	

B. Aşağıdaki milli bayramlarda hangi olayların gerçekleştiğini yazalım.

1. Cumhuriyet Bayramı:
2. Zafer Bayramı:
3. Ulusal Egemenlik ve Çocuk Bayramı:
4. Atatürk'ü Anma ve Gençlik ve Spor Bayramı:

A. Aşağıdaki şiiri okuyalım. Verilen soruları cevaplayalım.

Bayrağım

Atalarım, gökten yere
İndirmişler ay yıldızı,
Bir buluta sarmışlar ki
Rengi şafaktan kırmızı.

Onun ateş kırmızısı
Ne gelincik, ne gülden,
Türk oğlunun öz kanıdır
Ona bu al rengi veren.

Ay yıldızı, gökyüzünün
Ayla yıldızından yüksek
Türk'ün alın yazısıdır;
Türk'tür onu yüceltecek.

Vasiyetimdir bayrağımı
Üstün tutmak her bayraktan.
Can veririm, kan dökerim
Vazgeçmem ben bu haktan.

Hasan Ali Yücel

1. Şiirin konusu nedir?

2. Birinci dördlükte bayrağın hangi özelliğinden bahsediliyor?

3. Şiire göre bayrağımız rengini nereden almıştır?

4. Şiire göre vazifemiz (görevimiz) nedir?