

Adı:
Soyadı:



Matematik
2/F Çalışma Kağıdı



Tarih
...../...../2017

---Problemler Çözelim---

42 sayısının 5 fazlası ile kendisinin toplamı kaç eder?



Yeşim

Biz, yaşları 11, 13 ve 17 olan üç kardeşiz. Babamızın yaşı bizim yaşlarımızın toplamı kadardır.

Yeşim'in babası kaç yaşındadır?

Kümeşte 15 tavuk, 4 horoz vardır. Tavuk ve horozların toplamı kadar da civciv vardır. Kümeşte toplam kaç hayvan vardır?

-----Zihinden İşlem Yapalım-----

- 1 90 sayısının 60 eksiği kaçtır?
- 2 100 sayısının 70 eksiği kaçtır?
- 3 90 sayısının 80 eksiği kaçtır?
- 4 70 sayısının 30 eksiği kaçtır?
- 5 80 sayısının 40 eksiği kaçtır?
- 6 60 ile 50 sayılarının farkı kaç onluktur?
- 7 80 ile 30 sayılarının farkı kaç onluktur?
- 8 70 ile 40 sayılarının farkı kaç onluktur?
- 9 100 ile 70 sayılarının farkı kaç onluktur?
- 10 90 ile 60 sayılarının farkı kaç onluktur?
- 11 40 ile 20 sayılarının farkı kaç onluktur?

-----Çıkarma İşlemi-----

Bir çıkarma işleminde çıkan 36, fark 25'tir. Eksilenin 21 eksiği kaçtır?

---Mini Test---

Kurban Bayramı için 1. gün 16, 2. gün 18, 3. gün 21 tane koyun satan Hilmi dede, 3 günde toplam kaç koyun satmıştır?



Asiye 26, Tuğçe 14 yaşındadır. Tümer ise Tuğçe'den 3 yaş büyüktür. Üçünün yaşları toplamı kaçtır?



Bir çıkarma işleminde eksilen 47, çıkan 25 ise fark kaçtır?

Mont



69 TL

Şapka



12 TL

Montun fiyatı şapkanın fiyatından kaç TL fazladır?

Kadir 43 eriğin 14 tanesini yedi. 21 tanesini de kardeşine verdi. Kadir'in kaç eriği kaldı?

Adı:
Soyadı:



Türkçe
2/F Çalışma kağıdı



Atasözünün Anlamını öğren
Terzi kendi söküğünü dikemez.

---- Oku ve Anla ----

KARNE

Çocuğun elindeki karneyi gören babası:
- Şu karneyi verde bir bakalım.

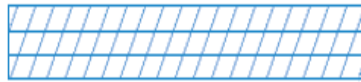
1. Babanın rengi niçin kırmızı olmuş?



Çocuğun elindeki karneyi alan babanın
rengi kıpkırmızı olur.

- Böyle bir karneyi getirmeye utanmıyor
musun, diye gürler.

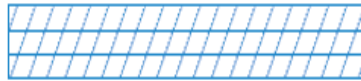
2. Çocuk niçin gülümsemiş?



Çocuk kendinden emin ve gülümseyerek
cevap verir.

- Babacığım bu karne senin yıllar önceki
karnen. Annem sandıktan çıkarmış.

3. Karne nerede saklanıyormuş?



----Mini Test----

- ✿ Oh, çok yoruldu!
- ✿ Kazandı mı kazanamadı mı bilmiyorum.
- ★ Kiminle konuşuyorsun.

Hangi cümlede noktalama işareti yanlış kullanılmıştır?

- A) ✿ B) ✿ C) ★

"Nerelisiniz?" sorusunun cevabı aşağıdakilerden hangisi olamaz?

- A. Bursalı
B. İstanbullu
C. İzmir'de

"Gece Karabaş çok mu havladı?" cümlesine soru anlamı kazandıran aşağıdakilerden hangisidir?
A. mu B. çok C. havladı

Hangisi hayal belirten bir cümledir?

- A. Bütün kuşlar göç etti.
B. Kedi harika dans ediyor.
C. Evin çatısını onarıyor.


-----Noktalama İşaretleri-----

Cuma günü konsere gidelim ()

Şiir okumayı sever misin ()

Oh, mis gibi kokuyor ()

Zavallı köpek üşümüş ()



Tek başına anlamı olanı sarıya olmayanı kırmızıya boyayalım.




masa



rüya




ancak



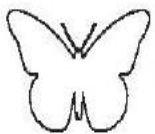
fakat



kadar



tabak



çerçeve



veya



de



gibi



gözlük



bahçe

-----Oluş Sırası-----

- Yemek için sofraya oturdu.
- Önlüğünü çıkardı.
- Ellerini yıkadı.
- Ayşe eve geldi.
- Önlüğünü askıya astı.

Enes SERT
2/F Sınıfı Çalışmaları