

Adı:  
Soyadı:



Matematik Çalışma Kağıdı  
Problemler



Tarih  
...../...../2020

1) Birler basamağı 6 , onlar basamağı 2 ,  
yüzler basamağı 4 olan sayı kaçtır?

2) **Altışar** ritmik sayarken 8.söylediğimiz  
sayının 192 fazlası kaçtır?



3) Üç basamaklı 400'den küçük en büyük çift  
sayının 246 fazlası kaçtır ?



4) Herhangi bir sayının onlar basamağı 2  
azaltılır ve yüzler basamağı 3 arttırılırsa sayı  
ne kadar değişir?

5) Hangi sayının 45 fazlasının 129 eksiği 600  
olur?



6) Bir doğal sayıdan 249 çıkardığımızda fark  
478 oluyor. Bu sayı kaçtır?



7) Bir trende 245 erkek , 195 bayan ve 39  
çocuk yolcu vardır. Trende toplam kaç  
çocuk yolcu vardır?

8) **573** sayısından bir önce ve bir sonra gelen  
sayının toplamı kaç olur



9) Eksilen , çıkan ve farkın toplamı  
70'tir. Çıkan 22 ise fark kaç olur?


10) Aşağıdaki romen rakamlarını  
karşılıklarına yazınız.

X	=	<input type="text"/>	V	=	<input type="text"/>
IX	=	<input type="text"/>	XIII	=	<input type="text"/>
IV	=	<input type="text"/>	VIII	=	<input type="text"/>
VII	=	<input type="text"/>	VI	=	<input type="text"/>

Adı:  
Soyadı:

## Matematik Çalışma Kağıdı Problemler

11) En yakın yüzlüğe yuvarlandığında 200 olan en büyük ve en küçük sayının toplamı kaçtır?



12) Onlar basamağı 3 olan rakamları farklı üç basamaklı en büyük tek sayının fazlası kaçtır?



13) Mehmet 548 sayfalık kitabın 1.gün 124 sayfasını okumuş, ikinci gün birinci günden 28 sayfa fazla okumuş üçüncü gün kitabını bitirmiştir. Üçüncü gün kaç sayfa kitap okumuştur?



14) Cemal'in parasının 45 TL eksiği 100 lira ise 75 TL fazlası kaç TL'dir?



15) Bir çiçekçi Anneler Gününde 84 gül, güllerden 19 az orkide, orkide ve güllerin toplamı kadar karanfil çiçeği satmıştır. Bu çiçekçi toplam kaç adet çiçek satmıştır?

$$23A + 1B8 = C63$$

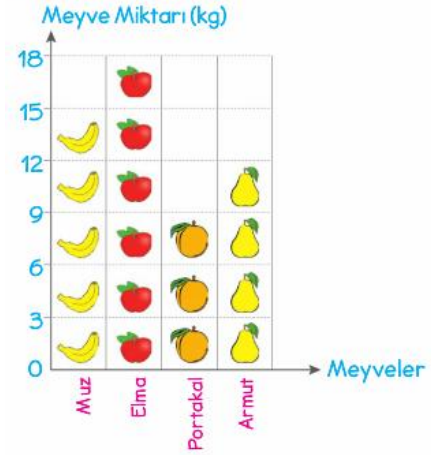
16)

Yukarıdaki işleme göre  $A + B + C$  kaç olur?

Adlar	Koştuğu Mesafe (m)
Dilek	785
Nergiz	806
Ceylan	813


17) Yukarıdaki tabloda en az koşan kişi ile en fazla koşan kişiarasındaki mesafe ne kadardır?

Grafik: Manavda Satılan Meyve Miktarı



Not: Her şekil 3 kg meyveyi göstermektedir.

18) Toplam kaç kg meyve satılmıştır?



19) Bir günde 12 litre süt veren inek bir haftada kaç litre süt verir

20)  $47 + 29$  işlemini zihinden yapılışını aşağıda gösteriniz.

Sorular **beşer** puandır. Dikkatli oku.  
Sınavda başarılar dilerim. Sınav süresi **60** dakikadır.