

Adı:
Soyadı:



FEN BİLİMLERİ Tema Değerlendirme



Tarih
...../...../2020

1

P	K	U	M	G
K	Ö	M	Ü	R
S	Ş	T	K	A
H	M	Z	D	N
Z	J	B	Ü	İ
K	A	Y	A	T

Yandaki bulmacada hangi kayaçlar verilmiştir?

- A. çakıl - mermer - taş - elmas
B. kömür - granit - kaya - kum
C. taş - granit - çakıl - altın
D. kum - mermer - kaya - granit

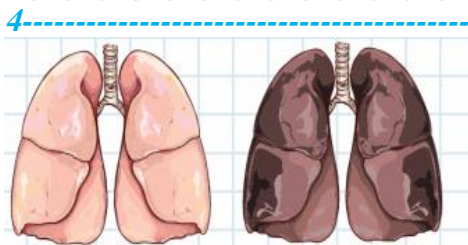
- 2
- I. Mevsimler
II. Gece ve gündüz
III. 365 gün 6 saat
- Yukarıdakilerden hangisi veya hangileri Dünya'nın kendi etrafında dönmesi sonucu oluşur?

- A. Yalnız II
B. I ve II
C. II ve III
D. I, II ve III

- 3
- Mutfak tezgâhlarında kullanılır. kum
- Bahçe süslemelelerinde kullanılır. çakıl
- İnşaat işlerinde harç için kullanılır. mermer

Eşleştirmeler hangi seçenekte doğru şekilde yapılmıştır?

- A. B.
- C. D.



Verilen görsellerle ilgili hangisi söylenebilir?

- A. I görseldeki akciğer sigara için birine aittir.
B. II görseldeki akciğer sigara içmeyen birine aittir.
C. I görseldeki akciğer daha sağlıklıdır.
D. II görseldeki akciğer daha sağlıklıdır.

- 5
- Hangi görsel kayaçlara ait değildir?
- A. B.
C. D.

- 6
- Aşağıdaki ikililerden hangisi, Dünya'nın şeklini ve Güneş etrafında dolanım şeklini ifade eder?
- A. geoit - elips
B. koni - küre
C. küre - yuvarlak
D. düz - küre

- 7
- Okyanus tabanındaki fosiller → ●
Bitki fosilleri → ●
Hayvan fosilleri → ●
- Yukarıdaki fosil gruplarına ait örnekler hangi seçenekte doğru verilmiştir?

- A. ● → yusufoçuk B. ● → mercan
● → kemik ● → ağaç
● → diş ● → kök
- C. ● → pul D. ● → kaplumbağa
● → yaprak ● → kabuk
● → kanat ● → kurbağa

- 8
- Hangi çocuk obez olabilir?
- A. Spor yapıyorum.
B. Her besinden yeteri kadar yerim.
C. Sevdiğim yemekten bir tencere yerim.
D. Öğünlere uygun beslenirim.

- 9
- Seçeneklerden hangisi kahvaltıda masamızdaki protein kaynaklarından biridir?
- A. Süt B. Reçel
C. Bal D. Ekmek

- 10
- Hangi seçenekteki olay kuvvetin etkisi ile dönmeye örnektir?
- A. Yolda kalan arabanın itilmesi.
B. El arabasının itilmesi.
C. Çekicinin arabayı çekmesi.
D. Musluğun çevrilerek açılması

- 11
-
- Verilen görsele göre hangi seçenek doğrudur?
- A. I nolu mıknatıs II nolu mıknatısı çeker.
B. II nolu mıknatıs III nolu mıknatısı iter.
C. I nolu mıknatıs ters çevrilsen II nolu mıknatısı iter.
D. II nolu mıknatıs III nolu mıknatısı çeker.

- 12
- | MENÜ | MENÜ | MENÜ |
|----------|-----------|-----------------------|
| • Gazoz | • Kola | • Sıkılmış Meyve Suyu |
| • Balık | • Pilav | • Hamburger |
| • Salata | • Fasulye | • Patates |
| • Ekmek | • Salata | • Kızartması |
- I II III

- Verilen menülerden birinin sağlıklı ve dengeli beslenmeye uygun olması için hangi seçenekte yazılan yapımalıdır?
- A. I nolu menüden balığı çıkartıp et yemeği koymalıyız.
B. II nolu menüden pilavı çıkartıp makarna koymalıyız.
C. III nolu menüden sıkılmış meyve suyunu çıkarmalıyız.
D. II nolu menüde kolayı çıkarıp ayran koymalıyız.

- 13
- Mıknatıslarda birbirini çeken kutuplara ne denir?
- A. Eş kutuplar
B. Zıt kutuplar
C. Aynı kutuplar
D. Çeken kutuplar

- 14
- Bisikletin pedallarını hızlı çeviren Leman. ● ● Şekil değiştirme
- Bisikletin frenini sıkın Mehmet. ● ● Yavaşlama
- Elindeki ipi koparan Dicle. ● ● Hızlanma

- Eşleştirmelerden hangisi doğrudur?
- A. B.
- C. D.

- 15
- Durağa yaklaşan otobüs hangi hareketi yapar?
- A. Yön değiştirme B. Hızlanma
C. Yavaşlama D. Dönme

SOSYAL BİLGİLER

1- "O akşam Mehmet çok üzgündü. Babasının tayini çıktığı için arkadaşlarından ayrılması gerekiyordu."

Bu durumda Mehmet, duygularını nasıl ifade ederse daha doğru olur?

- A. Öfkeyle bağırıp çağırarak.
- B. Eşyaları kırıp dökerek.
- C. Günlük yazarak.
- D. Kimseyle konuşmayarak.

2- Tarihi Kırkpınar Güreşleri hangi ilimizde yapılmaktadır?

- A. Bursa
- B. Konya
- C. İstanbul
- D. Edirne





3- Kelimeyi yanlış yazdığımızda ışıklı uyarı veren bir kalem tasarlamayı düşünüyorum.



Alli'nin bu tasarımı hangi alandaki ihtiyacını karşılamaya yöneliktir?

- A) Ulaşım
- B) Sağlık
- C) Eğitim
- D) Çevre

4- Krokilerde acil toplanma alanı aşağıdakilerden hangisi ile gösterilir?

- A) 
- B) 
- C) 
- D) 

5- Türkiye fiziki haritasını incelediğimizde yaşadığımız yer ile ilgili aşağıdaki bilgilerden hangisine ulaşamaz?

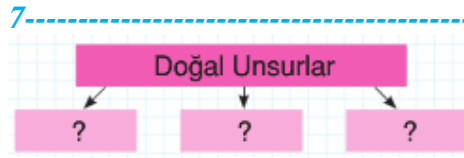
- A) Ovaları
- B) Komşu illeri
- C) Nehirleri
- D) Dağları

6-

- Yüzük kimde
- Çelik çomak
- Beştaş
- Atarı

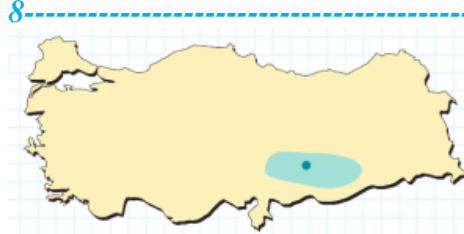
Yukarıda verilen oyunlardan kaç tanesi geleneksel çocuk oyunlarıdır?

- A)  1
- B)  2
- C)  3
- D)  4



Bu şemada "?" ile gösterilen yerlere aşağıdakilerden hangisi yazılmaz?

- A) Dağ
- B) Ova
- C) Fabrika
- D) Deniz



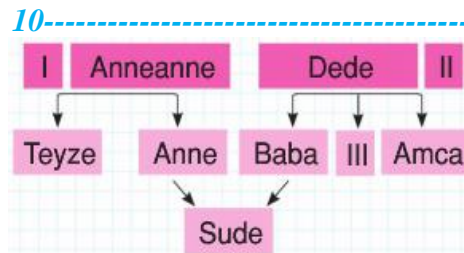
Haritada işaretlenerek gösterilen alanda, Türk halkı aşağıdaki devletlerden hangisinin işgallerine karşı mücadele etmiştir?

- A) İtalya
- B) Yunanistan
- C) Fransa
- D) Rusya



Bu fotoğrafta ifade edilen kültür unsurumuz aşağıdakilerden hangisidir?

- A) El sanatlarımız
- B) Masallar
- C) Bayramlar
- D) Yiyecekler



Sude'nin ailesine ait bu soy ağacında numaralandırılmış kutucuklara aşağıdakilerden hangisi yazılmalıdır?

- | | | | |
|----|----------|----------|-------|
| | I | II | III |
| A) | Amca | Hala | Teyze |
| B) | Teyze | Dayı | Dede |
| C) | Dede | Babaanne | Hala |
| D) | Anneanne | Amca | Dede |

11-

- Resim
- Fotoğraf
- Mektup
- Tablo

Yukarıdakilerden kaç tanesi aile tarihimizi öğrenmek için yararlanacağımız görsel kaynaklardır?

- A) 1
- B) 2
- C) 3
- D) 4

12-

- I. Bizden farklı düşünen insanları saygılı bir biçimde dinlemeliyiz.
- II. Herkesin düşüncelerini özgürce söylemesi doğruyu bulmamızı zorlaştırır.
- III. Çevremizdeki kişilerin fikirlerine değer vermeliyiz.

Yukarıda numaralandırılmış ifadelerden hangileri doğrudur?

- A) Yalnız I
- B) I ve II
- C) I ve III
- D) II ve III

13- Türkiye Cumhuriyeti Kimlik Kartı'nın arka yüzünde aşağıdakilerden hangisi yer alır?

- A) Seri numarası
- B) T.C. kimlik numarası
- C) Kişinin imzası
- D) Çip (yonga)






14- Ben şu zamanlar ile ilgili yaşam kronolojimi hazırlamak istiyorum:

- I. Geleceğim.
- II. 4. sınıfa kadar olan eğitim hayatım.
- III. Kreş hayatım.
- IV. Benim 3 yaşında, kardeşimin 1 yaşında olduğu dönem.

4.sınıf öğrencisi olan Mert, belirttiği zamanların hangisi ile ilgili kronoloji hazırlayamaz?

- A) I
- B) II
- C) III
- D) IV

15-

	Ptesi	Salı	Çarş.	Perş.	Cuma
Ankara					

Verilen tabloya göre, Ankara'da görülen hava olayları aşağıdakilerden hangisinde doğru olarak verilmiştir?

- A) Yağmurlu - Sisli - Karlı - Güneşli - Güneşli
- B) Güneşli - Bulutlu - Yağmurlu - Yağmurlu - Bulutlu
- C) Güneşli - Bulutlu - Bulutlu - Parçalı Bulutlu - Güneşli
- D) Yağmurlu - Bulutlu - Yağmurlu - Sisli - Bulutlu