

Adı:
Soyadı:



Matematik
3/F Çalışma Kağıdı



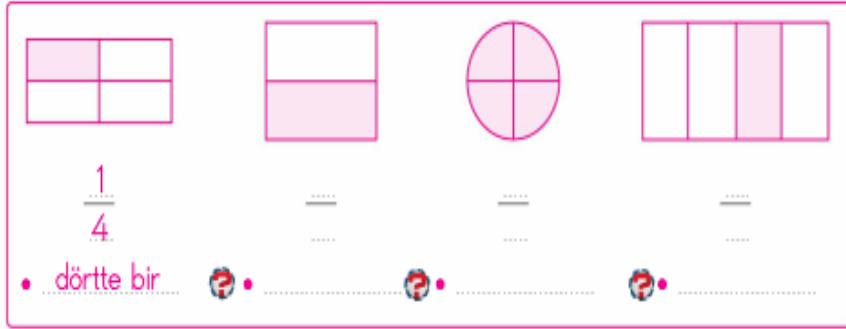
Tarih
...../...../2018

Bütün, Yarım, Çeyrek


1 Şekillerin boyalı kısımlarına göre altlarına "bütün, yarım ve çeyrek" sözcüklerinden uygun olanı yazalım.



2 Şekillerin ifade ettiği kesirleri ve okunuşlarını yazalım.

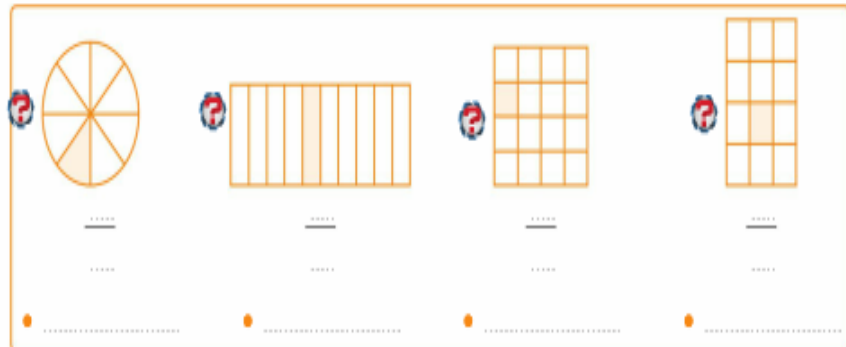


3 Verilen ifadelere göre şekilleri parçalara ayırıp boyyalım.



Kesrin Birimi

4 Aşağıdaki şekillerin boyalı kısımlarını ifade eden kesirleri ve okunuşlarını yazalım.



Problemler

36 yumurtanın $\frac{1}{3}$ 'ü kırılırsa geriye kaç tane yumurta kalır?

45 balonun $\frac{1}{5}$ 'i patlarsa geriye kaç tane balon kalır?

Babam 36 yaşındadır. Benim yaşımda, babamın yaşının $\frac{1}{6}$ 'i olduğuna göre, yaşlarımızın toplamı kaçtır?

18 metrelik telin, $\frac{1}{2}$ 'i koparsa geriye kaç metre tel kalır?

44 çikolatanın 12 tanesini arkadaşlarıma dağıttım. Kalan $\frac{1}{4}$ 'ünü de kendim yedim. Kaç tane çikolata yemiş oldum?

