

Adı:
Soyadı:



MATEMATİK
3/F Çalışma Kağıdı



Tarih
...../...../2018

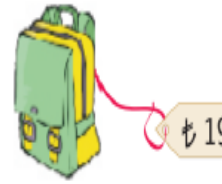
Romen Rakamları

Aşağıda bazı ürünlerin fiyatları verilmiştir. Buna göre soruları, Romen rakamları ile verilen yanıtlarıyla eşleştiriniz.



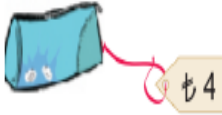
Çanta, kalemden kaç lira pahalıdır?

XIII




Defter ile kalemlerin fiyatları toplamı kaç liradır?

VII



Kalem, defterden kaç lira ucuzdur?

XVII



Kalem, kalemlik ve defterin fiyatları toplamı kaç liradır?





















XV

20 ₺'si olan Cenk kaç lira-
lık ürün alırsa 11 ₺'si kalır?

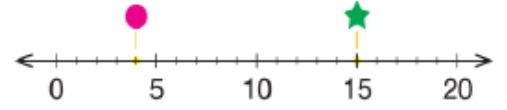
IX

Romen Rakamları

Okunuşları verilen Romen rakamlarını, örnekteki gibi yazalım.

 dört	 on	 beş	 yedi	 on beş
 on bir	 sekiz	 bir	 on dört	 dokuz
 üç	 on iki	 on üç	 on sekiz	 iki
 on altı	 on yedi	 altı	 yirmi	 on dokuz

Mini Test



Sayı doğrusunda sembolle verilen sayıların toplamının Romen rakamı ile gösterilişi hangisidir?

- A. XIV B. XVIII C. XIX

$5 < \text{---} < 12$

Yukarıdaki sıralamada boş bırakılan yere yazılabilecek sayı ile ilgili hangisi söylenemez?

- A. En büyük sayı, tek sayıdır.
B. En küçük sayı, çift sayıdır.
C. En büyük ve en küçük sayıların toplamı çift sayıdır.

► Aşağıdaki Romen rakamları sembollerle şifrelenmiştir.

- → XII ★ → IV
● → XIX ▲ → VI

6 ve 7. soruları yukarıda verilenlere göre yanıtlayınız.

- 6 ■ ve ▲ sembollerine karşılık gelen Romen rakamlarının toplamı kaçtır?
A. 18 B. 15 C. 12

- 7 ● ve ★ sembollerine karşılık gelen Romen rakamlarının farkı kaçtır?
A. 15 B. 11 C. 10

Enes SERT
3/F Sınıfı Çalışmaları

Adı:
Soyadı:

Matematik
3/F Çalışma kağıdı

Sınıfımızın İncisi
Emir CEYLAN

A. Aşağıda 10'a kadar olan romen rakamlarının karşılığı olan sayıları yazalım.

I = III = V = VII = IX =

II = IV = VI = VIII = X =

B. Aşağıda 10'a kadar olan sayıların karşılığı olan romen rakamlarını yazalım.

1 = 3 = 5 = 7 = 9 =

2 = 4 = 6 = 8 = 10 =

C. Aşağıdaki saatlerin kaç gösterdiğini yazalım.



Saat :



Saat :



Saat :



Saat :

D. Aşağıdaki romen rakamlarını yazı ile yazalım.

III = üç X = IV = I = VII =

V = II = IX = VI = VIII =

E. Aşağıdaki romen rakamları ile sayıları eşleştirelim.

<u>VII</u>	9	<u>VIII</u>	2	<u>VI</u>	1
<u>X</u>	7	<u>IV</u>	8	<u>I</u>	5
<u>III</u>	3	<u>II</u>	4	<u>V</u>	6
<u>IX</u>	10				

Aşağıda verilen eşleştirmelerden hangisi yanlıştır?

- A. XIV → 14
B. XVI → 16
C. XIX → 15

10 > A karşılaştırmasında A yerine yazılabilecek en büyük doğal sayının Romen rakamları ile gösterilişi hangisidir?

- A. XI B. IX C. XIV

Aşağıda verilen ifadelerden hangisi yanlıştır?

- A. 4 + 8 işleminde toplam çift sayıdır.
B. 12 + 7 işleminde toplam çift sayıdır.
C. 10 + 5 işleminde toplam tek sayıdır.

İşlemleri Yapalım

$X - V = \dots\dots\dots$

$XX - X = \dots\dots\dots$

$III + VII = \dots\dots\dots$

$I + I = \dots\dots\dots$

$X + X = \dots\dots\dots$

$XXI + III = \dots\dots\dots$

$XX - VI = \dots\dots\dots$

$XVIII - VI = \dots\dots\dots$

$II + II = \dots\dots\dots$

$X - I = \dots\dots\dots$