

Adı:
Soyadı:



Fen Bilimleri
3/F Çalışma Kağıdı



Tarih
...../...../2018

Duyu Organlarımız

Duyu organları / Özellik	Sıcaklık	Renk	Koku	Parlaklık	Sertlik	Acı	Ekşi
Kulak							
Dil							
Göz							
Burun							
Deri							

ÖZELLİKLERİ	KATMANLAR				
	Hava Küre	Taş Küre	Su Küre	Ateş Küre	Ağır Küre
Gözlemlenebilir.					
Canlılar yaşar.					
Hava olayları meydana gelir.					
Kırılmalar olur.					
Lav buradan çıkar.					
Yer kürenin 3/4'ünü kaplar.					
Balıklar, yosunlar yaşar.					
Çeşitli gazlardan oluşur.					
Gözlemlenemez.					
Dünyanın merkezindedir.					

Mini Test




Dünya'nın şeklini;

- Uydu fotoğrafları,
- Astronotların gözlemleri,
- Doğan güneşin tamamının hemen görülmemesi

olaylarından hangileri kanıtlar?

- A) I ve II B) II ve III C) I, II ve III



Aşağıdakilerden hangisi Amerika kıtasını keşfetmiştir?

- A)  Macellan
- B)  Kristof Kolomb
- C)  Pisagor

Dokunmada görev alan duyu organımız aşağıdakilerden hangisidir?

- A) Göz B) Dil C) Deri

Aşağıdaki öğrencilerden hangisinin söylediği derimizle ilgilidir?

- A)  Emine: Kırmızı elbise sana çok yakışmış.
- B)  Ekrem: Ispanak tuzlu olmuş.
- C)  Zeynep: Su çok sıcakmış.

Enes SERT

3/F Sınıfı Çalışmaları

Adı:
Soyadı:

Matematik
3/F Çalışma kağıdı

Sınıfımızın İncisi

A. 15'ten başlayarak 63'e kadar altışar ritmik sayalım.



B. 23'ten başlayarak 80'e kadar yedışer ritmik sayalım.



C. 44'ten başlayarak 124'e kadar sekizer ritmik sayalım.



D. Aşağıda verilen sayı örüntülerinin kuralını belirleyelim.

2 - 5 - 11 - 23 - 47

12 - 15 - 14 - 17 - 16

Kural =

Kural =

9 - 11 - 10 - 12 - 11

45 - 55 - 60 - 70 - 65

Kural =

Kural =

E. Tabloda verilen sayılardan tek olanlarını sarıya, çift olanlarını pembeye boyayalım.

7	4	243	75	311	38	485	6	231	48	214	714	49
394	13	69	54	203	75	124	388	1	612	370	65	3
26	8	102	19	80	546	104	713	18	486	127	75	845
901	503	489	95	63	84	321	27	36	72	25	711	34

F. Aşağıdaki toplama tablosunda toplamın tek olduğu kutucuğu turuncuya, çift olduğu kutucuğu maviye boyayalım.

+	1	2	3	4	5	6	7	8	9	10
48										
87										
100										

Mısır satan kişilere mısırcı diyoruz.

"Mısır ile mısırcı" arasındaki anlam ilişkisi aşağıdaki ikili sözcüklerin hangisinde vardır?

- A) tüp - tüpler
B) tüp - tüpçü
C) tüp - tüpsüz

Tilki, kümeisten kaptığı tavuğu bir güzel yemiş ve doymuş.

Yukarıdaki noktalı yere aşağıdaki sözcüklerden hangisi gelirse cümle anlamlı olur?

- A) tüylerini
B) dişlerini
C) karnını

Aşağıdaki sözcüklerden hangisi hecelerine yanlış ayrılmıştır?

A) ka - çı - yor - du

B) ko - ştu - lar

C) gel - me - di - ler

"Kar" hecesinin sonuna aşağıdaki hecelerden hangisini yazarsak bir meyve adı olur?

A) -puz

B) -lı

C) -dan