

Adı:  
Soyadı:

# MATEMATİK ÇALIŞMA KAĞIDI



Tarih  
...../...../2018



## ALİŞTIRMALARLA ÖĞRENİYORUM

1. Aşağıdaki toplan 3'lü gruplara ayırınız.



Topları 3'lü gruplara ayırdığımızda, ..... grup oluştu.

2. Aşağıdaki arabaları 2'li gruplara ayırınız.



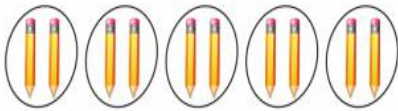
Arabaları 2'li gruplara ayırdığımızda, ..... grup oluştu.

3. Aşağıdaki tavukları 4'lü gruplara ayırınız.




Tavukları 4'lü gruplara ayırdığımızda, ..... grup oluştu.


Aşağıdaki bölme işlemlerini, örneğe uygun yapınız.

a)  10'un içinde 2, 5 defa vardır.

b)  6'nın içinde 3, ..... defa vardır.

c)  8'in içinde 4, ..... defa vardır.

d)  12'nin içinde 3, ..... defa vardır.

e)  15'in içinde 5, ..... defa vardır.

Aşağıdaki boşluklara uygun sözcükleri yazınız.

$$\begin{array}{r} 18 \\ - 2 \\ \hline 18 \\ - 9 \\ \hline 00 \end{array}$$

$$\begin{array}{r} 15 \\ - 15 \\ \hline 0 \end{array}$$

Bölünen sayı : .....  
Bölen sayı : .....  
Bölüm : .....  
Kalan : .....

Aşağıdaki bölme işlemlerini yapınız.

a)  $9 \overline{) 3}$       b)  $12 \overline{) 2}$       c)  $21 \overline{) 3}$       ç)  $20 \overline{) 4}$

d)  $16 \div 4 = \dots$       e)  $18 \div 3 = \dots$       f)  $36 \div 4 = \dots$       g)  $12 \div 3 = \dots$

ğ)  $24 : 3 = \dots$       h)  $30 : 3 = \dots$       ı)  $10 : 2 = \dots$       i)  $20 : 5 = \dots$

### Böleni Bulalım

$$\begin{array}{r} 20 \\ - \quad \\ \hline \quad 4 \end{array}$$

$$\begin{array}{r} 16 \\ - \quad \\ \hline \quad 4 \end{array}$$

$$\begin{array}{r} 24 \\ - \quad \\ \hline \quad 6 \end{array}$$

$$\begin{array}{r} 12 \\ - \quad \\ \hline \quad 4 \end{array}$$

$$\begin{array}{r} 21 \\ - \quad \\ \hline \quad 3 \end{array}$$

$$\begin{array}{r} 18 \\ - \quad \\ \hline \quad 6 \end{array}$$

### Mini Test

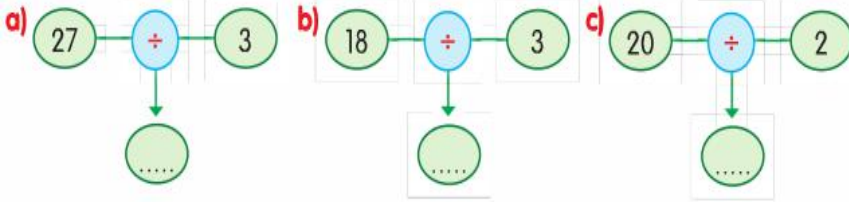
4 katı 32 olan sayının yarısı kaçtır?

A. 4      B. 6      C. 8

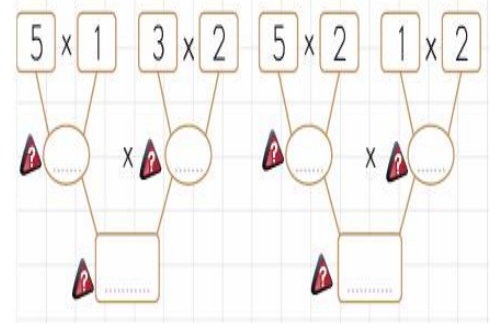
5 katı 40 olan sayının 10 fazlası kaçtır?

A. 18      B. 10      C. 8

Aşağıda şema ile verilen işlemleri oklar yönünde yapınız.



## Çarpma İşlemi Yapalım



Aşağıdaki işlemlerde "?" ile belirtilen yerlere gelmesi gereken sayıları yazınız.

a)  $\begin{array}{r} 16 \\ -16 \\ \hline 00 \end{array} \begin{array}{l} ? \\ 4 \end{array}$  b)  $\begin{array}{r} 15 \\ -15 \\ \hline 00 \end{array} \begin{array}{l} ? \\ 3 \end{array}$  c)  $\begin{array}{r} 14 \\ -14 \\ \hline 00 \end{array} \begin{array}{l} ? \\ 7 \end{array}$  ç)  $\begin{array}{r} 18 \\ -18 \\ \hline 00 \end{array} \begin{array}{l} ? \\ 6 \end{array}$

d)  $\begin{array}{r} 25 \\ -25 \\ \hline 00 \end{array} \begin{array}{l} ? \\ 5 \end{array}$  e)  $\begin{array}{r} 9 \\ -9 \\ \hline 0 \end{array} \begin{array}{l} ? \\ 3 \end{array}$  f)  $\begin{array}{r} 20 \\ -20 \\ \hline 00 \end{array} \begin{array}{l} ? \\ 4 \end{array}$  g)  $\begin{array}{r} 27 \\ -27 \\ \hline 00 \end{array} \begin{array}{l} ? \\ 9 \end{array}$

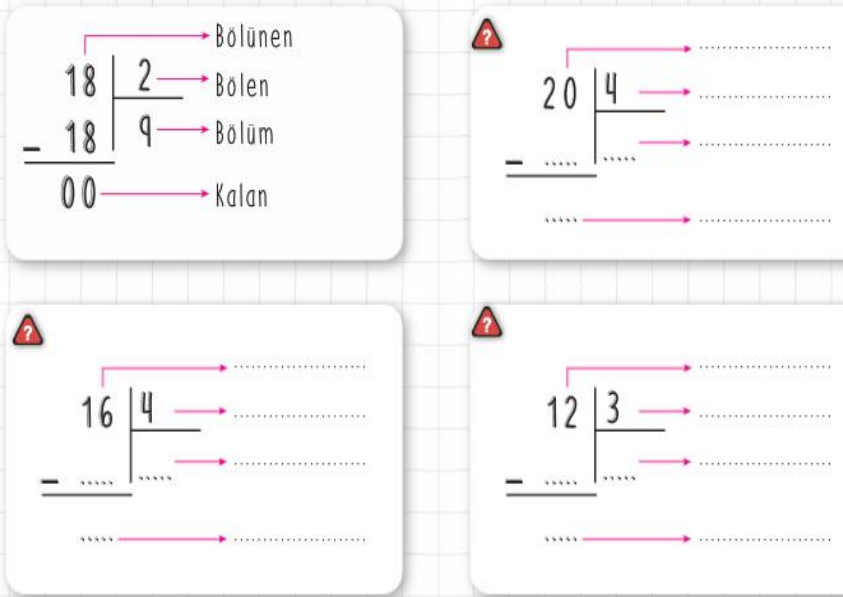
## Çıkarma İşleminde Tahmin

1  $\begin{array}{r} 38 \\ -29 \\ \hline \end{array} \begin{array}{l} \text{Tahminim} \\ \text{Fark} \end{array}$

2  $\begin{array}{r} 75 \\ -47 \\ \hline \end{array} \begin{array}{l} \text{Tahminim} \\ \text{Fark} \end{array}$

3  $\begin{array}{r} 51 \\ -44 \\ \hline \end{array} \begin{array}{l} \text{Tahminim} \\ \text{Fark} \end{array}$

Aşağıdaki bölme işlemlerini örnekteki gibi yapalım.



Aşağıdaki yazıyla ve sayılarla verilen işlemleri yapalım.

Dört bölü iki, eşittir iki. ..... : ..... = .....	$20 : 4 = 5$ .....
Sekiz bölü iki, eşittir dört. ..... : ..... = .....	$16 : 2 = 8$ .....
On bölü iki, eşittir beş. ..... : ..... = .....	$18 : 3 = 6$ .....

Çarkta verilen çarpma işlemlerini yapalım.

