

11.

	P.tesi	Salı	Çarş.	Perş.
Sabah				
Öğle				
Akşam				

Yukarıda belirtilen hava durumuna göre gün içerisinde hava durumunun en fazla değiştiği gün hangisidir?

- A. pazartesi B. salı
C. çarşamba D. perşembe

12.



Yandaki sembol hava olaylarından hangisini ifade etmektedir?

- A. bulutlu B. yağmurlu
C. sisli D. gök gürültülü

13.

I- Bir yerde kısa bir süre içinde sıcaklık, yağış, rüzgar gibi olayların gösterdiği durum.

II- Havanın yer değiştirmesinden oluşan esinti.

III- Hava tahmin uzmanı.

Yukarıda açıklamaları yapılan terimler hangi seçenekte doğru olarak verilmiştir?

- | | I | II | III |
|----|-------------|--------|-------------|
| A. | iklim | bulut | meteorolog |
| B. | hava olayı | rüzgâr | meteoroloji |
| C. | hava durumu | bulut | meteoroloji |
| D. | hava durumu | rüzgâr | meteorolog |

14.

Bazı kurumlar meteoroloji müdürlüklerinden sürekli bilgi isterler.

Aşağıdaki kurumlardan hangisinin sürekli bilgiye ihtiyacı yoktur?

- A. Hava Yolu Şirketleri
B. Türk Silahlı Kuvvetleri
C. Basın-Yayın Kuruluşları
D. Hastaneler



(15. ve 16. soruları haritaya göre cevaplandırınız.)

15. Yurdumuzun batısında görülen hava olayı aşağıdakilerden hangisidir?

- A. yağmurlu B. karlı
C. bulutlu D. güneşli

16. Yukarıdaki haritaya göre aşağıdakilerden hangisi yanlıştır?

- A. Yurdumuzun doğusunda kar yağışı görülecek.
B. Yurdumuzun güneyi bulutlu olacak.
C. Yurdumuzun kuzeydoğusunda sis görülecek.
D. Yurdumuzun kuzeyi gün içerisinde yağmurlu olacak.

17. Hava olaylarının bir çok alanda etkileri vardır.

Aşağıdakilerden hangisi hava olaylarının sonucu değildir?

- A. giyim biçimi B. kuraklık
C. bitki örtüsü D. yer altı kaynakları

18.

Her hangi bir yerde bir günde meydana gelen hava olayları o yerin günlük hava durumudur.

Buna göre aşağıdaki ifadelerden hangisinde hava durumundan söz edilmemiştir?

- A. Pazar günü hava güneşliydi ailecek denize gittik.
B. Dün hava oldukça rüzgarlı olduğu için evden çıkamadım.
C. Yaz mevsimi için yeni kıyafetler aldım.
D. Önceki gün sis nedeniyle zincirleme trafik kazaları olmuş.

1. Aşağıdakilerden hangisi hava olaylarından değildir?

- A. yağmur B. fırtına
C. çığ D. rüzgâr

2.

HAVA OLAYLARI			
▶	Sis	▶	Hortum
▶	Kar	▶	

Yukarıdaki tabloda noktalı yere hangisi gelmelidir?

- A. tsunami B. toprak kayması
C. deprem D. dolu

3. Hava durumunu spiker; "Meteorolojiden alınan son bilgilere göre yarın Trabzon'da yoğun sis görülecektir." şeklinde bir haber sunmuştur.

Bu haber aşağıdakilerden en çok hangisini ilgilendirir?

- A. işçileri B. şoförleri
C. polisleri D. çocukları

4. I- Hava olayları günlük yaşantımızı etkiler.
II- Gün içinde farklı hava olayları görülebilir.

III- Fırtına, rüzgâr etkisiyle oluşan bir hava olayıdır.

Yukarıdaki ifadelerden hangileri doğrudur?

- A. I-II B. I-III
C. II-III D. I-II-III

5. Bir bölgede görülen iklimi etkileyen faktörlerden biri de denizdir. Denizin iklimi ılımanlaştırıcı etkisi vardır.

Aşağıda verilen illerimizden hangisinde denizin etkisinden bahsedilemez?

- A. Konya B. İzmir
C. Rize D. Antalya

6. Erzurum'da kış mevsimleri oldukça soğuk geçer. Yazları ise sıcaktır fakat kısa sürer.

Yukarıda Erzurum'un nesinden bahsedilmiştir?

- A. hava durumundan
B. hava olaylarından
C. doğal güzelliklerinden
D. ikliminden

7. I- Okulların tatil olması,
II- Yolların kapanması,
III- Uçak seferlerinin iptal edilmesi,

Yoğun kar yağışı ve yoğun yağmur yukarıdakilerin hangisine sebep olur?

- A. I-II B. I-III
C. II-III D. I-II-III

8. Aşağıdaki olaylardan hangisi genelde bir mevsimde görülür?

- A. kar B. yağmur C. dolu D. sel

	P.tesi	Salı	Çarş.	Perş.	Cuma
Sabah					
Öğle					
Akşam					

(9. ve 10. soruları tabloya göre cevaplandıralım).

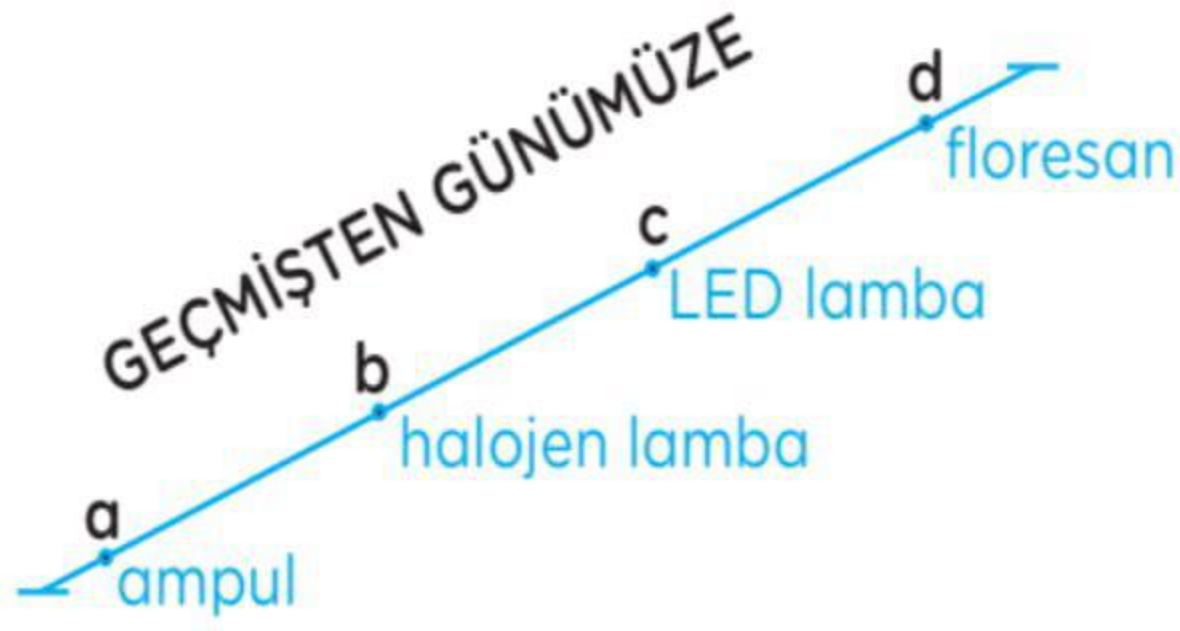
9. Yukarıdaki tablodan aşağıdakilerden hangisine ulaşabiliriz?

- A. Sonbahar mevsimine aittir.
B. Nisan ayında gözlenmiş hava olaylarıdır.
C. Bu bölge ılıman iklime sahiptir.
D. Haftanın ilk günü yağmurlu geçmiştir.

10. Emrah hangi gün okula giderken ıslanmıştır?

- A. pazartesi B. salı
C. perşembe D. cuma

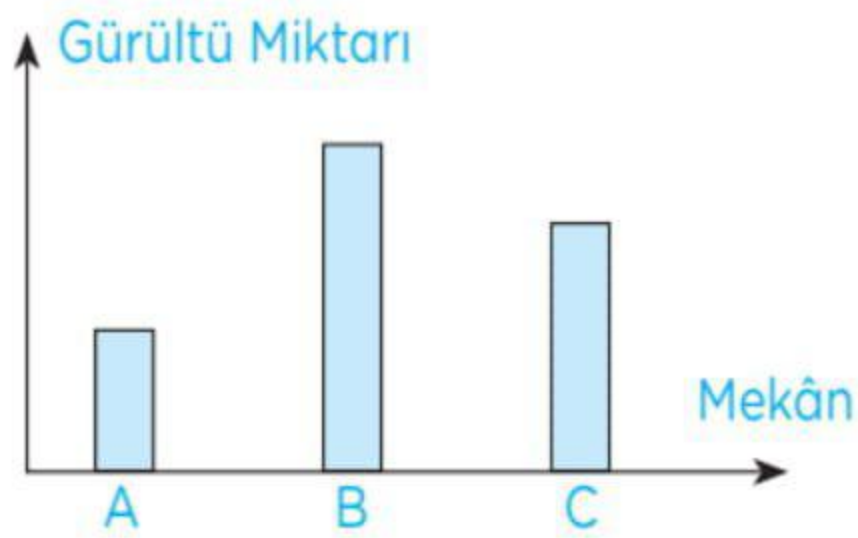
8.



Aydınlatma ürünleri geçmişten günümüze sıralanırken hata yapılmıştır. Hangileri yer değiştirilirse hata düzeltilmiş olur?

- A. b - c B. a - d
C. c - d D. b - d

9.



Grafikte farklı mekanlarda ölçülen gürültü miktarı verilmiştir. Buna göre A, B ve C mekanları hangileri olabilir?

- | | <u>A</u> | <u>B</u> | <u>C</u> |
|----|-----------|-----------|------------|
| A. | banka | okul | kütüphane |
| B. | hastane | düğün | pazar yeri |
| C. | kütüphane | hastane | okul |
| D. | okul | kütüphane | sinema |

10. Hoparlör ses şiddetini artırmak için tasarlanmış bir cihazdır. Aşağıdakilerin hangisinde hoparlör yoktur?

- A. Bilgisayar B. Televizyon
C. Radyo D. Gitar

11. Sesin şiddetini artırmak ve daha uzaklara duyurmak için araçlar tasarlanıp üretilmiştir. Aşağıdakilerden hangisi bu amaçla üretilmemiştir?

- A. Stetoskop B. Mikrofon
C. Megafon D. Hoparlör

12. "Uzun süre gürültülü ortamlarda bulunan ve çalışan kişilerde bazı rahatsızlıklar görülür."

Aşağıdakilerden hangisi bu rahatsızlıklardan **değildir**?

- A. Baş ağrısı B. İşitme kaybı
C. Görme bozukluğu D. Stres

13. Bazı ortamlarda ses kirliliği çok fazladır. Aşağıdakilerin hangisinde ses kirliliği olması **beklenmez**?

- A. Stadyum B. Kütüphane
C. Trafik D. Okul

14.



Cüneyt



Yusuf

Cüneyt, Yusuf'a seslenmektedir. Fakat Yusuf duymamaktadır. Aşağıdakilerden hangisi veya hangileri yapılırsa Yusuf, Cüneyt'i duyabilir?

- I. Cüneyt megafon kullanırsa
II. Yusuf, Cüneyt'e yaklaşırsa
III. Cüneyt, Yusuf'a yaklaşırsa
IV. İkisi birden yaklaşırsa

- A. I - II - III B. II - III - IV
C. I - III - IV D. I - II - III - IV

15. Aşağıdakilerden hangisi veya hangileri ses kirliliğini azaltmak için uygulanan tedbirlerdendir?

- I. Ses yalıtımı
II. Havaalanlarının yerleşim bölgelerinin uzağına yapılması
III. Parmak kaldırarak söz almak.
IV. Gereksiz yanan ışıkların söndürülmesi.

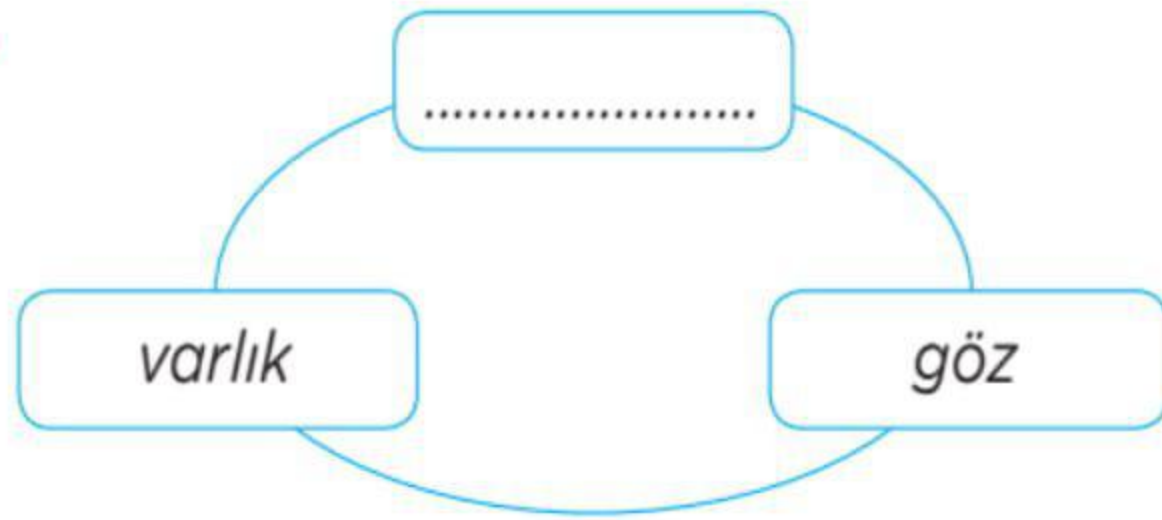
- A. I, II, III B. I, II, IV
C. II, III, IV D. I, II, III, IV

1. Ses kaynağından çıkan sesler;
I. Farklı uzaklıklardan aynı gürlükte duyulur.
II. Boşlukta yer kaplar.

Yukarıda verilen ifadeler için ne söylenebilir?

- A. I doğru, II yanlış
B. İkisi de yanlış
C. İkisi de doğru
D. I yanlış, II doğru

2.



Görme olayının gerçekleşmesi için noktalı yere hangisi gelmelidir?

- A. Televizyon B. Ses
C. Işık D. Ayna

3. Aşağıdakilerden hangisini karanlık bir ortamda görebiliriz?

- A. Pırlanta B. Altın
C. Cam D. Ateş böceği

4. () I. Aydınlatılmış cisimdir. a. yıldız
() II. Doğal ışık kaynağıdır. b. mum
() III. Işık kaynağı değildir. c. Ay
() IV. Yapay ışık kaynağıdır. d. tahta

Yukarıdaki ifadelerle kavramlar eşleştirildiğinde hangisi doğru olur?

- | | <u>I</u> | <u>II</u> | <u>III</u> | <u>IV</u> |
|----|----------|-----------|------------|-----------|
| A. | c | b | a | d |
| B. | c | a | d | b |
| C. | a | b | d | c |
| D. | b | c | d | a |

5. (.....) I. Işığın gökyüzüne yönelmesi kesilmeli
(.....) II. Işık, aydınlatılacak yere yöneltilmeli.
(.....) III. Işığın kullanımında tasarrufa dikkat edilmeli

Yukarıdaki ifadelerden doğru olanlara "D", yanlış olanlara "Y" yazdığımızda hangisi doğru olur?

- | | <u>I</u> | <u>II</u> | <u>III</u> |
|----|----------|-----------|------------|
| A. | D | Y | D |
| B. | Y | D | D |
| C. | D | D | Y |
| D. | D | D | D |

6. I. Kandil
II. Gaz lambası
III. Meşale
IV. Mum

Yukarıdaki aydınlatma araçları geçmişten günümüze doğru sıralandığında hangisi doğru olur?

- A. III, I, IV, II B. IV, III, II, I
C. I, III, II, IV D. III, IV, II, I

7. "Günümüzde LED lambalar ömürlü ve olmalarından dolayı tercih edilmektedir."

Noktalı yerlere sırasıyla hangisi gelmelidir?

- A. ucuz, uzun
B. uzun, pahalı
C. parlak, sağlam
D. uzun, tasarruflu

7. Bir çiftlikte 65 tavuk, 140 ördek vardır. Tavuk ve ördeklerin ayak sayıları toplamı kaçtır?
A. 205 B. 310
C. 410 D. 405
8. Okulumuzun tiyatro salonunda 45 sıra var. Tiyatro izlemeye gelen öğrenciler sıralara 3'erli oturunca 2 sıra boş kaldı. Tiyatro izlemeye gelen öğrenci sayısı kaçtır?
A. 129 B. 133
C. 135 D. 141
9. Sınıfımızın mevcudu 24'tür. Sınıf gezisi için her bir kişi 25 TL getirdi. Paranın 565 TL'sini harcadık. Kaç TL'miz kaldı?
A. 25 B. 30
C. 35 D. 40
10. Her birinde 15 düzine kalem olan 3 kutuda toplam kaç kalem vardır?
A. 240 B. 510
C. 440 D. 540
11. Sınıfımızda 18 sıra var. Sıraların 12'sinde 2'şer öğrenci diğerlerinde 3'er öğrenci oturmaktadır. Sınıfımızın mevcudu kaçtır?
A. 36 B. 42
C. 38 D. 44
12. Mehmet parasının yarısını harcadı. Geriye kalan parasının yarısını da ablasına verince 60 TL'si kaldı. Mehmet'in harcama yapmadan önce kaç TL'si vardı?
A. 15 B. 90
C. 120 D. 240

1. Her gün 45 sayfa kitap okuyan Ebru, bir hafta süresince kaç sayfa kitap okur?

- A. 305 B. 315
C. 325 D. 335

2. Bir otomobil saatte 80 km yol gitmektedir. Bu otomobil 12 saatte kaç km yol alır?

- A. 840 B. 860
C. 940 D. 960

3. Babam ayda 95 TL taksitle telefon aldı. Babam 2 yıl ödeme yapacağına göre telefon kaç TL'dir?

- A. 1 180 B. 1 280
C. 2 280 D. 3 280

4. Bir belediye otobüsü salı günü 348 yolcu taşıdı. Bilet 4 TL olduğuna göre toplanan para toplam ne kadardır?

- A. 1 392 B. 1 292
C. 1 382 D. 1 282

5. Okulumuz iki katlıdır. Her katta 4 sınıf vardır. Sınıfların her birinde 25 öğrenci olduğuna göre okul mevcudumuz kaçtır?

- A. 100 B. 200
C. 225 D. 250

6. Bir inek günde 8 litre süt vermektedir. Ayşe Hanım sütün litresini 3 TL'den satmaktadır. Ayşe Hanımın 15 ineği olduğuna göre günde kaç TL kazanmaktadır?

- A. 340 B. 360
C. 380 D. 400

10. *Yaş* sözcüğü aşağıdakilerin hangisinde farklı bir anlamda kullanılmıştır?

- A. Akıl yaşta değil baştadır.
- B. Ne yaş yansın ne kuru.
- C. Yarın 10 yaşına girecek.
- D. Üç yaşında konuşmaya başlamışım.

11. Aşağıdaki cümlelerin hangisinde yazım yanlışı vardır?

- A. Her zaman Türk Hava Yolları ile yolculuk yaparım.
- B. Atalarımız Malazgirt savaşını kazanarak Anadolu'nun kapılarını açmışlar.
- C. M. Kemal Atatürk yurdumuzu düşmanlardan kurtardı.
- D. Menekşe, en sevdiğim çiçeklerden birisidir.

12. Aşağıdaki cümlelerin hangisinde sebep sonuç ilişkisi vardır?

- A. Onur'un sesi herkes tarafından beğenilir.
- B. Amasya elması sulu olduğu için herkes tarafından seviliyor.
- C. Hayatını kasabanın dışında kurduğu çiftlikte sürdürüyor.
- D. Kasaba ile köy arasında üzüm bağları vardı.

13. I- Kağıdın üstünde elle çizilmiş bir define planı vardı.
II- Arif, yolun kenarında bulduğu çantayı açtı.
III- İçinde bir kağıt vardı.
IV- Gözüne bir dosya ilişti.

Yukarıdaki cümleler oluş sırasına göre sıralandığında sıralama nasıl olur?

- A. II - I - III - IV
- B. IV - II - I - III
- C. I - II - IV - III
- D. II - IV - III - I

14. Aşağıdaki sözcüklerden hangisinin sestesi (eş seslisi) yoktur?

- A. taş
- B. ağır
- C. sıra
- D. kız

15. Aşağıdaki cümlelerin hangisinde belirtilen iş şu anda devam etmektedir?

- A. Salonun pencerelerini boyuyor.
- B. Az önce bulaşıkları yıkadı.
- C. Önümüzdeki hafta Rize'ye gidecek.
- D. Akvaryumun suyunu değiştirmiş.

16. *mi, mi* aşağıdaki cümlelerden hangisine soru anlamı katmıştır?

- A. Babam geldi mi hepimiz kapıya koşarız
- B. Oya sabah mı yoksa akşam mı gelsin
- C. Dedem kızdı mı herkes kaçacak delik arardı
- D. Küçük mü büyük mü karar veremedim

17. Gece yarısı aşağıdan gelen tıkırtıyı duyan Hoca yatağından kalkmış.

Cümlesinde aşağıdaki sorulardan hangisinin cevabı yoktur?

- A. nereden
- B. ne zaman
- C. niçin
- D. kiminle

18. Her gün bu kadar güzel mi bu deniz?
Böyle mi görünür gökyüzü her zaman?
Her zaman güzel mi bu kadar,
Bu eşya, bu pencere?

Orhan Veli KANIK

Bu dördünlüğün ana duygusu aşağıdakilerden hangisidir?

- A. Bayrak sevgisi
- B. Memleket özlemi
- C. Yaşama sevinci
- D. Kaybolma korkusu

19. *şekerlerin konulduğu kap* anlamında bir kelime yapmak için *şeker* kelimesine aşağıdakilerden hangisi getirilmelidir?

- A. -li
- B. -siz
- C. -ci
- D. -lik

20. Aşağıdaki cümlelerin hangisinde *abartma* söz konusudur?

- A. Trafik kazasında on sekiz kişi yaralandı.
- B. Emine teyzem üçüz doğurdu.
- C. Akbabalar yaralı aslanın üstünde dönüp duruyorlar.
- D. Taşı öyle bir fırlattı ki mahallede sağlam cam kalmadı.

Bir eşek vardı, zayıf ve düşkün
Yük altında ezilmiş ve yorgun,
Kâh odun, kâh su taşırdı.
Gece gündüz kaygıyla yaşardı.
O kadar ağır yükler çekerdi ki,
Yaralar sırtında tüy bırakmamıştı.
Bir gün sızladı sahibinin vicdanı
Aldı semerini,
Saldı otlığa zavallı eşeği...

ŞEYHI

- Metindeki eşek için aşağıdakilerden hangisi söylenemez?
A. Çok çalıştırıldığından bitkin ve yorgundu.
B. Her türlü işi ona yaptırırlardı.
C. Sürekli korku içinde yaşardı.
D. Acımasız, duyarsız bir sahibi vardı.
- Aşağıdaki cümlelerin hangisinde *şık* sözcüğü diğerleriyle sesteştir?
A. Her zaman şık giyinir.
B. Annesine şık bir etek aldı.
C. Son soruda iki şık arasında kaldım.
D. Saçların çok şık olmuş.
- Aşağıdaki sözcüklerden hangileri anlam ilişkisi yönünden diğerlerinden farklıdır?
A. mesafe - ara B. ilgi - alaka
C. enli - geniş D. sevinç - hüzün
- Aşağıdaki cümlelerin hangisinde anlatım bozukluğu vardır?
A. Çoban, sürüsünü dereye indirdi.
B. Maç başlayalı aşağı yukarı tam on beş dakika oldu.
C. O, eli sıkı biridir.
D. Ben küçücük bir çocuğum.

- *hamur* ile *börek* sözcükleri arasındaki anlam ilişkisinin benzeri aşağıdakilerden hangisinde yoktur?
A. cam - bardak B. ağaç - kağıt
C. su - buz D. toprak - çiçek

- Aşağıdaki cümlelerin hangisinin sonuna soru işareti konulmalıdır?
A. Ne kadar süremiz olduğunu söylemedi
B. Ne yöne gittiklerini bilmiyorum
C. Ne kadar güzel bir elbise
D. Ne zaman seni çağırmadık
- Yaz gelir de heveslenir bitersin,
Güz gelince başın alır gidersin
Yavru niçin boynun eğri gezersin?
Senin derdin benden beter menevşe.

Karacaoğlan

Yukarıdaki dördlükte altı çizili sözcüğün eş anlamlısı hangisidir?

- kış B. sonbahar
C. ilkbahar D. yaprak
- Bahar geldi, çıksın uçurtmalar,
Evler, minareler üstüne.
Kimini kapıp götürsün rüzgâr.
Kimi takılsın telgraf direklerine.
- Ş. Enis REGÜ
- Yukarıdaki dördlüğün konusu (teması) aşağıdakilerden hangisidir?
A. gökyüzü B. şehir C. rüzgâr D. uçurtma
- Aşağıdaki cümlelerin hangisinde hatalı kısaltma yapılmıştır?
A. TRT yurdun her yerine yayın yapıyor.
B. Başbakan, TBMM'nin açılışını yaptı.
C. Cüneyt, Kurtuluş İ. Öğretim Okulunda okuyor.
D. TV yaz, 1 050'ye gönder.