

Adı:
Soyadı:



SOSYAL-FEN
4/F Çalışma Kâğıdı



Tarih
...../...../2019

BOŞLUK DOLDURMA

saygılı

farklı olmaları

hoşgörülü

empati

huzuru ve barışı

farklı olaylar

1. İnsanların görünüş, yetenek, beceri bakımından doğaldır.
2. Toplumun için hepimiz hoşgörülü olmalıyız.
3. Başkalarının duygu ve düşüncelerine saygı göstermek olmak demektir.
4. Bazı arkadaşlarımız duyamaz ya da yürüyemezler, böyle farklılıkları olanlara olmalıyız.
5. Arkadaşlarımızın duygularını daha iyi anlamak için kuralmalıyız.
6. Karşılaştığımız başkalarıyla farklı duygular yaşamamıza neden olabilir.

DOĞRU MU YANLIŞ MI?

Aşağıdaki cümlelerden doğru olanların karşısına (D) , yanlış olanların karşısına (Y) yazalım.

1. Her insanın farklı mesleğinin olması sadece yeteneklerimiz ile ilgilidir.
2. Sinemaya gitmek, oyun oynamak sosyal bir ihtiyaçtır.
3. Müzik dinlemekten hoşlanıyorum, bu durum benim müzik alanında kesinlikle yetenekli olduğumu gösterir.
4. İlgili duyduğumuz konularda araştırma ve inceleme yapmak bize bir şey kazandırmaz.
5. Güçlü bir vücuda, sağlam bir akciğere sahip olmak ilgili duyduğumuz spor dalını yapmamızda bize yardımcı olur.
6. Çok uzun boylu olmak, basketbol oyununda yetenekli olduğumu ve başarılı olacağımı göstermez.

Mini Test

Aşağıdaki ifadelerden hangisi **yanlıştır**?

- A) Bazı kişilerin ilgi alanları benzer olabilir.
- B) Her çocuk futbol oynamaktan hoşlanır.
- C) Her çocuğun ilgi alanlarının farklı olması doğaldır.
- D) Uzun boylu ya da zayıf olmak fiziksel özelliklerimizle ilgilidir.



Arkadaşlarımızın yapabildiği bazı şeyleri biz yapamayabiliriz.



Yetenekli olduğumuz konuda kendimizi geliştirmeliyiz.



Okulda aldığımız görevlerde yeteneklerimiz etkilidir.



Yetenekli olduğumuz konulardan kimseye söz etmemeliyiz.

Yukarıdaki ifadeleri "Doğru, Yanlış" olarak değerlendireceğiz.

Hatasız bir değerlendirme hangi seçenekteki gibi olmalıdır?

- A) (D) (Y) (D) (D) B) (Y) (Y) (D) (D)
- C) (D) (D) (Y) (Y) D) (D) (D) (D) (Y)



Başkalarının farklı özelliklerine ve davranışlarına karşı olmalıyız.

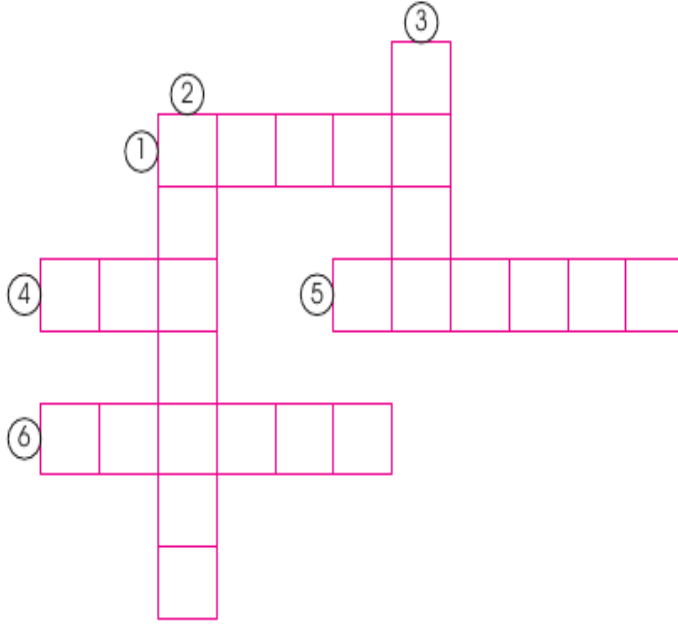
Özlem bu konuşmasını aşağıdakilerden hangisiyle tamamlamış **olamaz?**

- A) duyarlı B) anlayışlı
- C) tepkili D) hassas

İlgili duyduğumuz bir alanda meslek sahibi olmak için hangisini yapmak **daha doğrudur?**

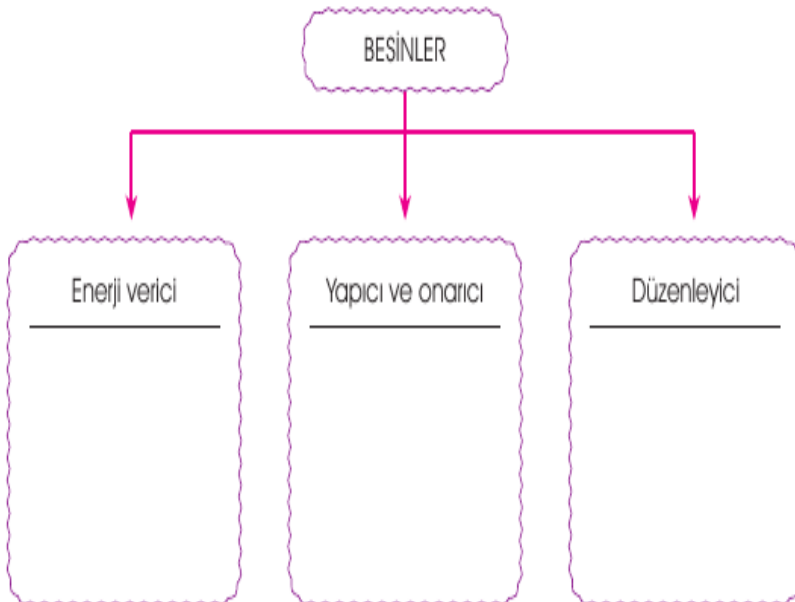
- A) Başka bir şeyle ilgilenmemek
- B) Babamızdan maddi yardım almak
- C) Mutlaka çok kitap okumak
- D) Yeteneklerimizi daha çok geliştirmek

Aşağıdaki açıklamalardan yararlanarak bulmacayı çözelim.

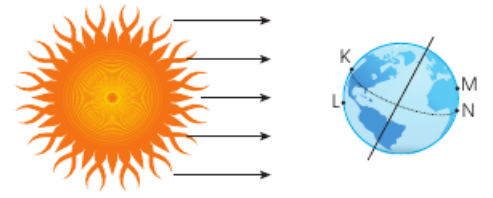


1. Dünya'nın kendi eksenini etrafında yaptığı harekettir.
2. Dünya'nın Güneş etrafında yaptığı harekettir.
3. Dünya kendi etrafında dönerken Güneş ışığının gelmediği bölgedir.
4. Dünya'nın Güneş'in etrafını dolanma süresine denir.
5. Dünya'nın Güneş'in etrafındaki bir tam dolanmasıyla oluşur.
6. Dünya kendi etrafında dönerken Güneş ışığının geldiği bölgedir.

BESİN İÇERİKLERİ



Mini Test



Dünya üzerindeki konumları K, L, M ve N ile belirtilen yerlerin hangilerinde gece, hangilerinde gündüz yaşanır?

	Gece	Gündüz
A)	L	K
B)	M ve N	K ve L
C)	K ve L	M ve N
D)	N ve L	K ve M



Yukarıdaki görsellerde gözlenen durum hangi olay sonucu gerçekleşir?

- Yeryüzündeki sıcaklık farklılıkları
- Güneş'in hareketi
- Dünya'nın kendi eksenini etrafındaki dönüşü
- Dünya'nın Güneş etrafındaki dolanımı

FOSİLLERİN OLUŞUMU

1. Ölen canlının kasları çürür.
2. Ölü üzerinde tabaka oluşur böylece hava alması önlenir.
3. Katman sayısı artar, kemik sertleşir.
4. Minerallerin etkisiyle kemik taşlaşır, fosilleşir.

Fosillerin oluşumları ile ilgili yukarıdaki bilgilerden yararlanılarak aşağıdaki sorulardan hangisine cevap verilemez?

- Ölen canlıda çürüme gerçekleşir mi?
- Kemiklerin fosilleşmesi için havasız kalacak şekilde üstünün örtülmesi gerekir mi?
- Minerallerin etkisi var mıdır?
- Buzullarda da fosilleşme gerçekleşir mi?