

Adı:  
Soyadı:



Türkçe  
Çalışma Kağıdı



Tarih  
...../...../2017

Mini Test

Görev

Sınav

Cevap

Yanıt

Vazife

Yukarıdaki sözcüklerden eş anlamlı olanlar eşleştirilirse hangisi dışarıda kalır?

A. Yanıt B. Sınav C. Görev

Aşağıdaki cümlelerde altı çizili olan sözcüklerden hangisinin eş anlamlısı yoktur?

A. Bu hikâye çok güzel.  
B. Senin amacın ne?  
C. Uzun saçlarını kestirdi.

Yeşil  
giz

Mavi  
koyu

Pembe  
boyut

Hangi renk balonda "sır" sözcüğünün eş anlamlısı verilmiştir?

A. Yeşil B. Mavi C. Pembe

Aşağıdaki eş anlamlı kelimelerin altını örnekteki gibi kırmızı kalem ile çiziniz.

öykü Okuduğum hikâye bitmek üzere.

anı Yeni bir hatıra defteri aldım.

tabiat Sınıfça doğa gezisine çıktık.

ihtiyar Yaşlı teyzeye yardım ettim.

yıl Geçen sene Antalya'ya gittik.

yel Rüzgâr esince ağacın yaprakları dökülmüş.

Verilen Kelimeleri Eş Anlamlarını Bul Yaz

sonbahar	→		öğretmen	→	
kent	→		öğrenci	→	
hediye	→		okul	→	
uçak	→		hız	→	

Verilen görselin çağrıştırdığı kelimeyi işaretle



bilgi

yemek

cümle

Oluş Sırasına Göre Numaralandırma

Sonra üzerini değiştirdi ve kahvaltı yaptı.

En sonunda dışarı çıkarak okulun yolunu tuttu.

Oğuz sabah kalkıp elini yüzünü yıkadı.

Daha sonra dişlerini fırçaladı.

Adı:  
Soyadı:



Matematik  
Çalışma kağıdı



Bilmecem  
Küçük kare kutu, içi insan dolu

### Yanlış İşlemleri Kutu İçine Al

$$\begin{array}{r} 43 \\ -15 \\ \hline 28 \end{array}$$

$$\begin{array}{r} 73 \\ -38 \\ \hline 36 \end{array}$$

$$\begin{array}{r} 83 \\ -56 \\ \hline 27 \end{array}$$

$$\begin{array}{r} 65 \\ -37 \\ \hline 27 \end{array}$$

$$\begin{array}{r} 32 \\ -16 \\ \hline 16 \end{array}$$

$$\begin{array}{r} 96 \\ -49 \\ \hline 47 \end{array}$$

### Eldeli Toplama İşlemleri

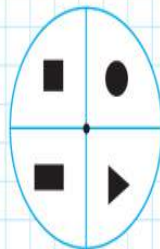
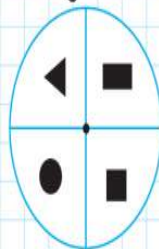
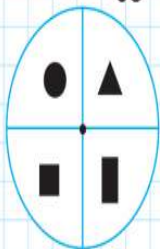
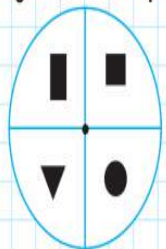
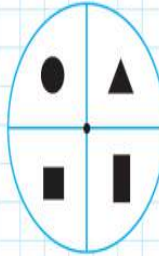
➔ Ok işaretlerini takip ederek toplama işlemlerini tamamlayalım.

$$\begin{array}{r} 14 \\ +12 \\ \hline \end{array} \rightarrow \begin{array}{r} 2 \square \\ +19 \\ \hline \end{array} \rightarrow \begin{array}{r} \square \square \\ +26 \\ \hline \end{array} \rightarrow \begin{array}{r} \square \square \\ +16 \\ \hline \end{array} \rightarrow \begin{array}{r} \square \square \\ +12 \\ \hline \end{array}$$

$$\begin{array}{r} 19 \\ +16 \\ \hline \end{array} \rightarrow \begin{array}{r} \square \square \\ +26 \\ \hline \end{array} \rightarrow \begin{array}{r} \square \square \\ +17 \\ \hline \end{array} \rightarrow \begin{array}{r} \square \square \\ +12 \\ \hline \end{array} \rightarrow \begin{array}{r} \square \square \\ +5 \\ \hline \end{array}$$

### Yer - Yön İfadeleri

**Etkinlik** Yandaki şekil, saat yönünün tersine döndürülerek aşağıdaki şekiller oluşturulmuştur. Şekillerin altlarına dönme durumuna göre "yarım, çeyrek, üç çeyrek, tam" ifadelerinden uygun olanını yazalım.



### Aşağıdaki çıkarma işlemini yapınız

$$\begin{array}{r} 74 \\ -39 \\ \hline \end{array} \rightarrow \begin{array}{r} \square \text{ onluk} + \square \text{ birlik} \\ - \square \text{ onluk} + \square \text{ birlik} \\ \hline \square \text{ onluk} + \square \text{ birlik} \end{array}$$

### Mini Test

1 Cebimdeki 80 ₺'nin 45 ₺'sini harcadım.

Cebimde kaç liram kaldı?

A. 30 B. 35 C. 45

2 64 sayfalık bir kitabın 28 sayfasını okudum.

Geriye okumam gereken kaç sayfa kaldı?

A. 34 B. 36 C. 38

3 40 kişilik bir sınıfta 18 erkek öğrenci vardır.

Bu sınıftaki kız öğrencilerin sayısı kaçtır?

A. 22 B. 20 C. 12

4 Annemin tartısı 68 kilogram geliyor. Benim tartım annemden 15 kilogram az geliyor.

Benim tartım kaç kilogramdır?

A. 43 B. 47 C. 53