

Adı:
Soyadı:

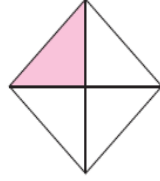
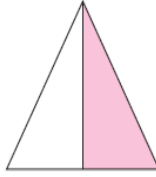
MATEMATİK
ÇALIŞMA KAĞIDI



Tarih
...../...../2018

ALİŞTIRMALAR İLE ÖĞRENELİM

Aşağıdaki modelleri inceleyiniz. Boyalı kısımların isimlerini altlarına yazınız.



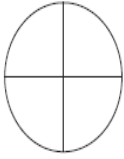
.....

.....

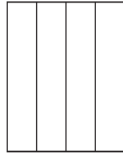
.....

.....

Aşağıdaki modelleri, altlarındaki kavramlara uygun olarak boyayınız.



Çeyrek



Bütün



Yarım



Çeyrek

Aşağıdaki modelleri inceleyiniz. Boş bırakılan yerleri örnekteki gibi tamamlayınız.



tane yarım, tane bütün eder.



3 tane bütün, tane yarım eder.

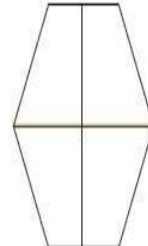
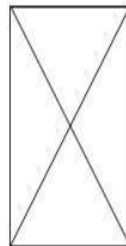

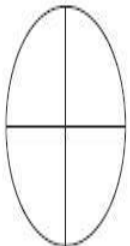


tane çeyrek, tane yarım eder.



tane çeyrek, tane bütün eder.

Aşağıdaki şekiller, dört eşit parçaya ayrılmıştır. Her bütünün çeyreklerini boyayarak gösterelim.



. Yarım ve çeyrek olarak verilen nesnelerin kaç bütün oluşturduklarını, karşılıklarına yazınız.

4 yarım simit,

8 çeyrek elma,

12 çeyrek pizza,

8 yarım ekmek,

4 çeyrek kağıt,

12 yarım karpuz,

. Yarım olarak verilen nesnelerin kaç çeyrek oluşturduklarını karşılıklarına yazınız.

6 yarım pasta,

5 yarım elma,

3 yarım pizza,

7 yarım bisküvi,

9 yarım gofret,

8 yarım çikolata,

. Bütün olarak verilen nesnelerin kaç yarım oluşturduğunu, karşılıklarına yazınız.

7 bütün ekmek,

5 bütün portakal,

4 bütün şeftali,

6 bütün kayısı,

8 bütün pasta,

9 bütün muz,

. Bütün olarak verilen nesnelerin kaç çeyrek oluşturduklarını karşılıklarına yazınız.

6 bütün elma,

7 bütün kavun,

5 bütün ekmek,


4 bütün karpuz,

3 bütün simit,

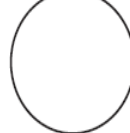
8 bütün kabak,



Aşağıdaki geometrik cisimlerin isimlerini altlarına yazınız.



1. Aşağıdaki boşlukları, örneğe uygun olarak doldurunuz.

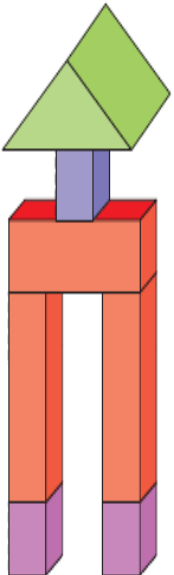


Üçgen

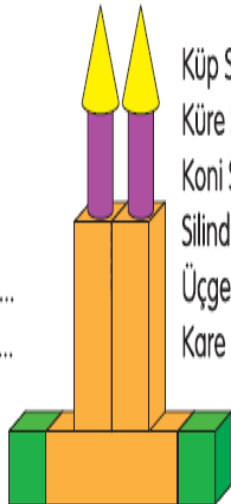


Üçgensel Bölge

2. Aşağıdaki boşlukları yanında verilen yapılara göre doldurunuz.



Küp Sayısı :
 Küre Sayısı :
 Koni Sayısı :
 Silindir Sayısı :
 Üçgen Prizma Sayısı :
 Kare Prizma Sayısı :



Küp Sayısı :
 Küre Sayısı :
 Koni Sayısı :
 Silindir Sayısı :
 Üçgen Prizma Sayısı :
 Kare Prizma Sayısı :

Aşağıdakilerden hangisinin ayrıtı **yoktur**?

A)



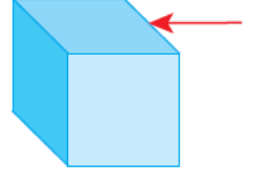
B)



C)



Yandaki prizma-
 mada okla
 işaret edilen
 yere ne denir?

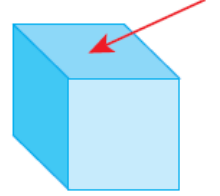


A) Köşe

B) Yüzey

C) Ayrıtı

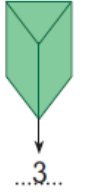
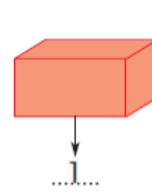
Yandaki prizma-
 da okla işaret edi-
 len yere ne denir?



A) Yüzey

B) Ayrıtı

C) Köşe



Yukarıdaki geometrik cisimlerde numaralı yerlere, aşağıdaki seçeneklerin hangisinde verilenler yazılmalıdır?

1 2 3

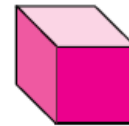
A) Yüz Ayrıtı Köşe

B) Ayrıtı Yüz Köşe

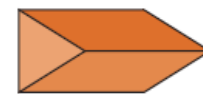
C) Köşe Ayrıtı Yüz

Aşağıdakilerden hangisi küptür?

A)



B)



C)



Enes SERT
 2/F Sınıfı Çalışmaları

Adı:
Soyadı:

TÜRKÇE ÇALIŞMA KAĞIDI



Tarih
...../...../2018

Oku ve Anla

Selin, yemek yerken başkalarının rahatsız olmaması için konuşmaz. Sofrada uyulması gereken kurallara dikkat eder. Her zaman kendi tabağından yemek yer ve kendi bardağından su içer.

Geçen gün çorbaya döktüğü karabiber, burnuna kaçtığı için Selin hapşurmak zorunda kaldı. Bu sırada hemen masanın üzerindeki peçeteyle ağzını kapattı.



Arkadaşlar, aşağıdaki 5 TK sorularını yukarıda okuduğunuz metne göre cevaplayınız.

1. Selin, yemek yerken neden konuşmaz?

.....

2. Selin, niçin hapşurmak zorunda kalmıştır?

.....

3. Selin, hapşurunca ne yaptı?

.....

4. Selin, kurallara nerede dikkat eder?

.....

5. Kim, her zaman kendi tabağından yemek yer ve kendi bardağından su içer?

.....

Noktalama İşaretleri

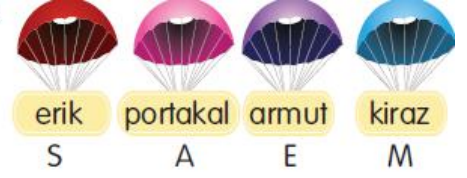
ŞİMDİ SIRA SİZDE

Ceren () Sibel () Tuna "Dünya Çocuk Gününü" okulda kutlama görevini aldılar ()

Ceren:

() Ben pano için hikâye yazabilir miyim ()

Ceren'in hikâye yazmasına karar verdiler () Sibel ile Tuna da şiir () bulmaca ve resim bulacaklardı ()



Yukarıdaki sözcükleri, sözlükteki sıralanma göre sıraladığımızda, aşağıdaki sözcüklerden hangisi oluşur?

A) SEMA B) ESMA C) MESA

Aşağıdaki söz dizilerinden hangisinin sonuna nokta konur?

A) Babam, Bursa'ya yarın gidecek
B) Annemle ablam temizlik
C) Tanımadığınız kişilerle

"Atatürk, bin dokuz yüz on dokuzda Samsun'a çıktı."

Yukarıdaki cümlede, aşağıdaki sorulardan hangisinin cevabı yoktur?

A) Kim?
B) Ne zaman?
C) Niçin?

- ☆ Ona yardım etmeye karar vermiş.
△ Bir avcı, ormanda gezerken bir geyikle karşılaşmış.
□ □asta ve zayıf olan geyik, ayakta zor duruyormuş.
○ Avcı, geyiğin bu haline çok üzülmüş.

Yukarıda karışık olarak verilen cümleler, nasıl sıralanırsa anlamlı bir paragraf oluşur?

- A □ △ □ ○ ☆
B □ ☆ □ △ □
C □ △ ☆ □ ○

Aşağıdaki sözcükleri örnekteki gibi zıt anlamlılarıyla eşleştiriniz.

A	aşağı	genç		1	tembel	zengin	
B	küçük	kalin		2	yakın	tatlı	
C	ince	büyük		3	yoksul	sıcak	
D	yaşlı	kirli		4	acı	çalışkan	1
E	temiz	yukarı	A	5	soğuk	uzak	

SebeP - Sonuç

Sayfalarca yazı yazmak istemiyorum.

Çünkü elim çok yoruluyor.

Karşıdan karşıya geçerken trafik ışıklarına dikkat ediyorum.

Çünkü

En çok çilekli pastayı seviyorum.

Çünkü



Aşağıdaki cümlelerde geçen eş anlamlı sözcüklerin altını çizerek cümlelerin yanındaki noktalı yerlere yazınız.

Bir adam bana adımı sordu.

→ isim

Annem, bu akşam konuklarımız olacağını söyledi.

→

İrmakların kenarında oyun oynarken dikkatli olmalıyız.

→

Bazı öğrenciler, bugünkü konuları anlamamışlar.

→

Her insanın yararlı olacağını düşünmüyorum.

→

Gördüğü rüyayı ablasına anlattı.

→

Seninle anılarımı paylaşmak isterim.

→

Bu kral, esirlerine iyi davranıyormuş.

→

Mini Testim

Nasrettin Hoca'nın yağmurlu bir günde eve koşarak gittiğini gören komşusu, alaycı



bir ifadeyle: "Ne yapıyorsun hocam, hiç rahmetten kaçılır mı?" diye seslenmiş. Bunun üzerine Hoca, komşusuna dönerek şu cevabı vermiş: "Ben rahmetten kaçmıyorum ki, onlara basmayayım diye koşuyorum." demiş.

Yukandaki fıkraya göre, aşağıdakilerden hangisi söylenemez?

- A) Olayın kahramanları, Nasrettin Hoca ve komşusudur.
- B) Olay, bahar mevsiminde gerçekleşmiştir.
- C) Fıkroda ele alınan olay, Nasrettin Hoca'nın yağmurdan kaçmasıdır.

Aşağıdaki seçeneklerin hangisinde satır sonuna sığmayan sözcük yanlış olarak bölünmüştür?

- A a-
damın
- B Bursa
dan
- C bilgis-
arını

Aşağıdaki seçeneklerin hangisinde verilen kelime grubunda kalın ünlü harflerin tamamı yer almaktadır?

- A) Elif'in sözü
- B) Keçi yavrusu
- C) Kapının kolu