

Adı:
Soyadı:



Çalışma Kağıdı
Matematik



Tarih
...../...../2018

---Deste-Düzine---

1 2 deste

A 36

2 3 düzine

B 20

3 1 deste - 5

C 30

4 1 düzine + 7

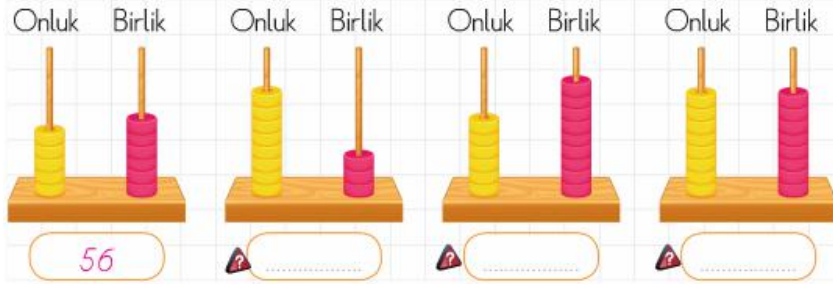
D 19

5 5 deste - 2 deste

E 5

---Doğal Sayılar---

→ Abaküs üzerinde modellenen doğal sayıları örnekteki gibi yazalım.



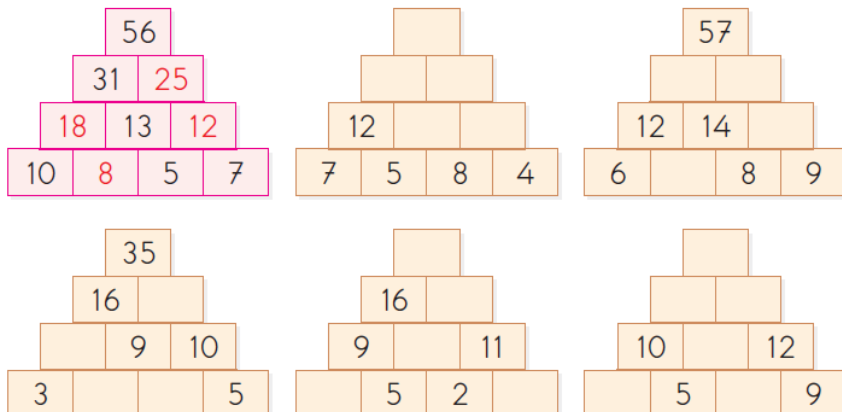
---Eksileni Bulalım---

Çıkarma işlemi tablolarında verilmeyen eksilenleri bulunuz.

-	10	-	20	-	32	-	15	-	24
33	23		17		10		26		14
	17		22		20		32		12
	32		36		30		24		21
	44		53		40		35		33

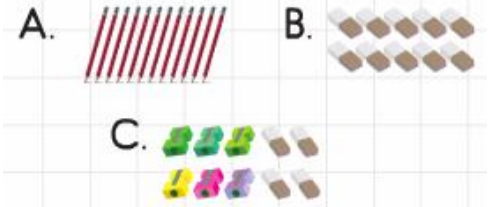
Şekli Çıkarma İşlemi

Aşağıdaki örneği inceleyiniz. Şekillerde verilmeyen sayıları bulunuz.



---Mini Test---

Aşağıdaki varlık gruplarından hangisi bir desteye eşittir?



5 birlik + 8 onluktan oluşan sayı kaçtır?

A. 58 B. 50 C. 85

$$12 + 7$$

Verilen işleme göre aşağıdaki ifadelerden hangisi söylenebilir?

- A. Bir desteden 7 fazladır.
B. Bir düzineden 7 fazladır.
C. Bir düzineden 7 eksiktir.

23 sayısındaki "2" rakamının basamak değeri kaçtır?

A. 2 B. 20 C. 22

Tavşan 5'ten başlayarak ileriye doğru beşer ritmik sayıyor. Onuncu sırada hangi sayıyı söyler?

A. 40 B. 45 C. 50

İki kardeşin yaşları toplamı 42'dir.

Büyük kardeş 25 yaşında olduğuna göre küçük kardeşin yaşı kaçtır?

A. 16 B. 17 C. 18

Adı:
Soyadı:



TARTMA



BİLMECEM VAR
Gökte durur paslanmaz,suya düşer
ıslanmaz.

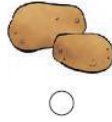
Kilogramın Kullanıldığı Yerler

Aşağıda görselleri verilen ürünlerden kilogram (kg) ile ölçülenleri işaretleyiniz.

a.

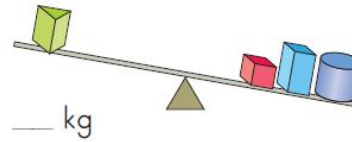
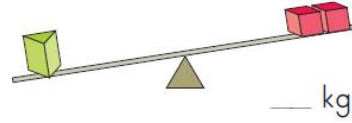
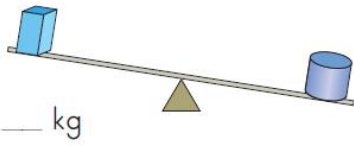


b.

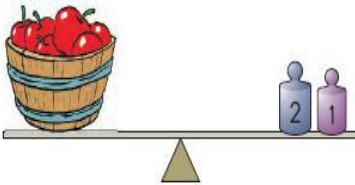


Terazide Tartalım

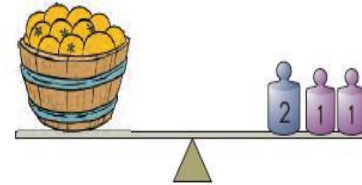
Terazilerin dengede olması için boş olan kefeye kaç kilogram ağırlık konulması gerektiğini örnekteki gibi yazınız.



Terazilerde tartılan meyvelerin kaçar kilogram geldiğini yazınız.



Elmalar ___ kg'dır.



Portakallar ___ kg'dır.



Muzlar ___ kg'dır.



Karpuz ___ kg'dır.

---Mini Test---

Kilogramı 20 ₺ olan cevizden 2 kg aldım. Kaç lira ödedim?

Bir manav 80 kg elmanın sabah 27, öğleden sonra 18 kg'ını sattı. Manavda kaç kilogram elma kaldı?

Bir çuvaldaki 60 kg şekerin önce 20, sonra 15 kg'ı satıldı. Çuvalda kaç kilogram şeker kaldı?

Kerem, manavdan kilogramı 8 ₺ olan kesteneden 2 kg aldı. Manava 20 ₺ verdi. Kaç lira para üstü alacaktır?

24 kg toz şekerin önce 6, sonra 4 kg'ı satıldı. Kaç kilogram toz şeker kaldı?

Bu dönemin son ödevidir.

ENES SERT

2/F SINIFI ÇALIŞMALARIMIZ