

Adı:  
Soyadı:



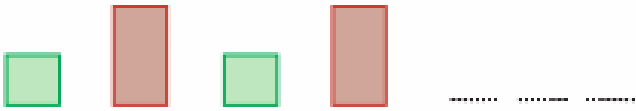
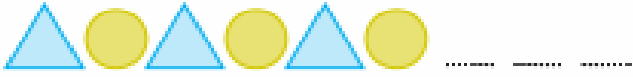


1/G Çalışma Kağıdı

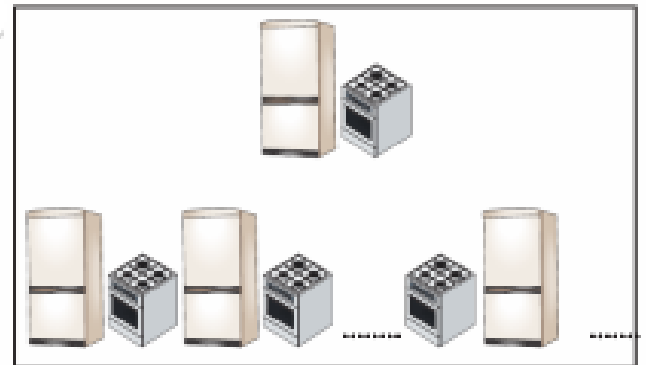
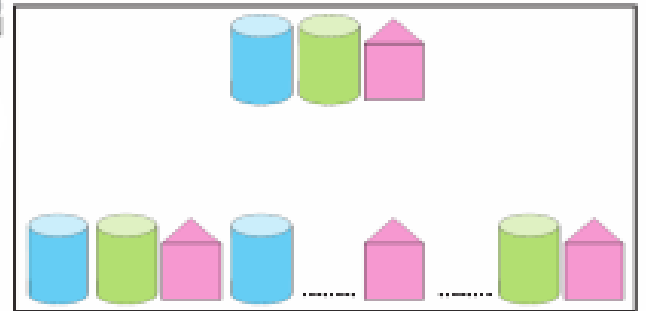
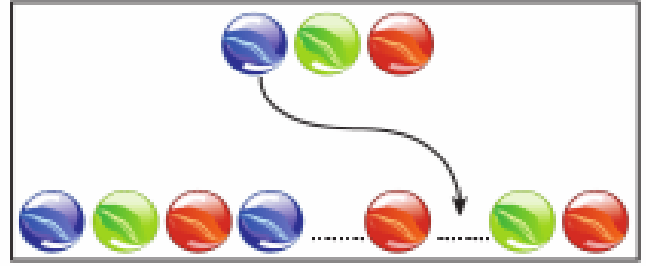


Tarih  
...../...../2019

Aşağıdaki örüntülerin kuralını bulalım. Noktalı yerlere örüntülerin kurallarına göre uygun olan şekilleri çizelim.



Aşağıdaki örüntülerin kuralını bulalım. Örüntülerde eksik bırakılan yerlere gelmesi gerekenleri örnekteki gibi gösterelim.





Yandaki geometrik cisme benzeyen nesneyi işaretleyelim.



Yandaki geometrik cisme benzeyen nesnelere işaretleyelim.



Yandaki zekâ küpüne benzeyen geometrik cismi işaretleyelim.



Yandaki kavanoza benzeyen nesneyi işaretleyelim.



Yandaki geometrik cisme benzeyen nesneyi işaretleyelim.



Yandaki tahta parçasına benzeyen nesneyi işaretleyelim.

