

Adı:
Soyadı:



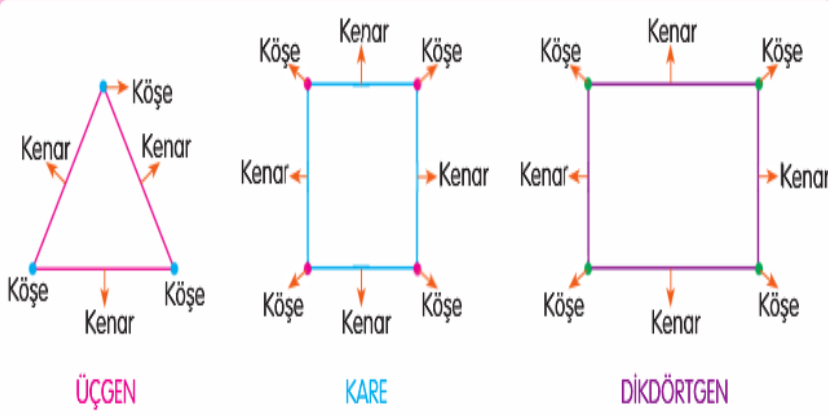
MATEMATİK
4/F Çalışma Kâğıdı



Tarih
...../...../2020

Üçgen, Kare ve Dikdörtgen

ÖRNEK:



ÜÇGEN

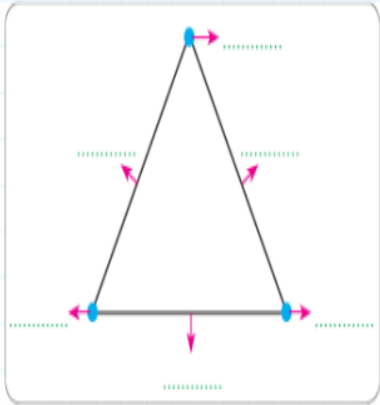
KARE

DİKDÖRTGEN

Geometrik şekiller kenar sayılarına göre isimlendirilir.

ALİŞTIRMALAR:

a) Aşağıdaki geometrik şekille ilgili istenilenleri yazınız.

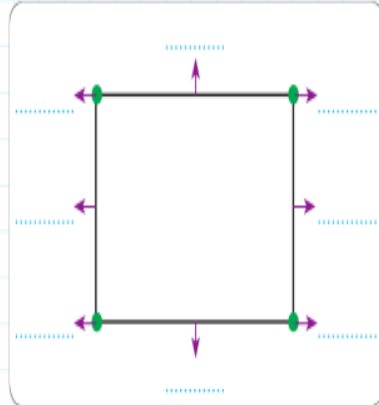


Yukarıdaki şeklin adı dir.

Yukarıdaki şeklin kenarı vardır.

Yukarıdaki şeklin köşesi vardır.

b) Aşağıdaki geometrik şekille ilgili istenilenleri yazınız.

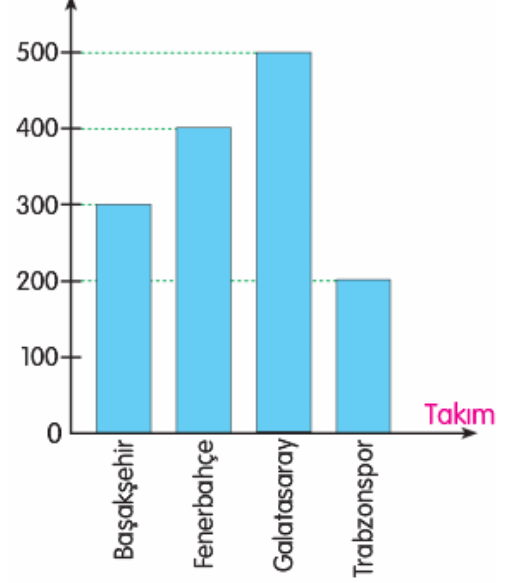


Bu şeklin adı dir.

Bu şeklin köşesi vardır.

Bu şeklin kenarı vardır.

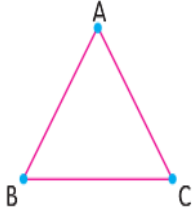
Taraftar Sayısı



- En çok taraftarı olan takım hangisidir?
A) Başakşehir B) Fenerbahçe
C) Galatasaray D) Trabzonspor
- Hangi takımın 300 taraftarı vardır?
A) Başakşehir B) Fenerbahçe
C) Galatasaray D) Trabzonspor
- Galatasarayın taraftar sayısı, Fenerbahçe'den kaç fazladır?
A) 50 B) 100
C) 150 D) 200
- En az taraftarı olan takım hangisidir?
A) Başakşehir B) Fenerbahçe
C) Galatasaray D) Trabzonspor
- Fenerbahçe'nin kaç taraftarı vardır?
A) 200 B) 300
C) 400 D) 500
- Bu bölgede takımlarını destekleyen toplam taraftar sayısı kaçtır?
A) 1 100 B) 1 200
C) 1 300 D) 1 400

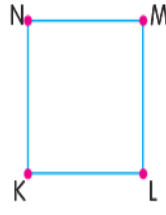
Üçgen, Kare ve Dikdörtgenin Kenarlarını ve Köşelerini İsimlendirme

ÖRNEK:



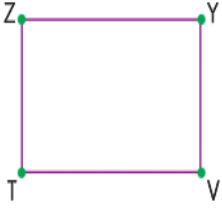
Köşeleri: A köşesi, B köşesi, C köşesi

Kenarları: AB kenarı, BC kenarı, AC kenarı



Köşeleri: K köşesi, L köşesi, M köşesi, N köşesi

Kenarları: KL kenarı, LM kenarı, MN kenarı, NK kenarı



Köşeleri: T köşesi, V köşesi, Y köşesi, Z köşesi

Kenarları: TV kenarı, VY kenarı, YZ kenarı, ZT kenarı

Geometrik şekillerin **köşeleri büyük harflerle** isimlendirilir.

Kenarları isimlendirirken yine **köşelerdeki harflerden** yararlanırılır.

Aşağıdaki üçgenleri isimlendiriniz ve istenilenleri yazınız.

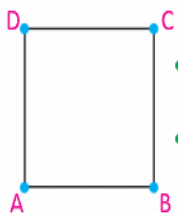
1. Köşeleri: köşesi, köşesi, köşesi
Kenarları: kenarı, kenarı, kenarı

2. Köşeleri: köşesi, köşesi, köşesi
Kenarları: kenarı, kenarı, kenarı

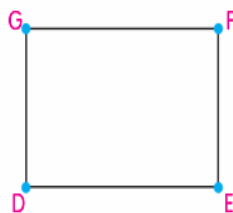
3. Köşeleri: köşesi, köşesi, köşesi
Kenarları: kenarı, kenarı, kenarı

Kare ve Dikdörtgenin Özellikleri

ÖRNEK:



- Karenin, 4 eş kenarı vardır.
- ABCD karesi diye isimlendirilebilir.



- Dikdörtgenin, 4 kenarı vardır. Karşılıklı kenarları eşittir.
- DEFG dikdörtgeni diye isimlendirilebilir.

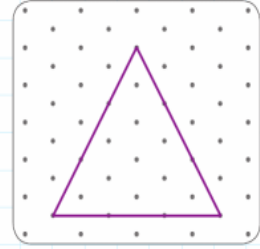
• Kare ve dikdörtgenin **karşılıklı kenarları kesişmez.**

1. Yandaki geometrik şeklin kenar sayısına göre adı nedir?



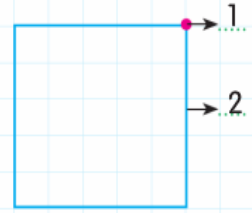
- A) Dörtgen
B) Üçgen
C) Beşgen
D) Altıgen

2.



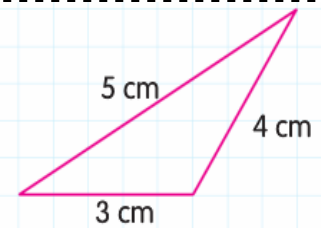
Yukarıdaki üçgenin kenarlarına göre çeşidi aşağıdakilerden hangisidir?

- A) Çeşitkenar üçgen
B) İkizkenar üçgen
C) Geniş açılı üçgen
D) Eşkenar üçgen



Yukarıdaki şekilde numaralı yerlere, hangi seçenekte verilenler yazılmalıdır?

- | | |
|----------|-------|
| 1 | 2 |
| A) Köşe | Kenar |
| B) Köşe | Köşe |
| C) Kenar | Köşe |
| D) Yüzey | Kenar |



Yukarıdaki üçgenin kenarlarına göre çeşidi aşağıdakilerden hangisidir?

- A) Çeşitkenar üçgen
B) Eşkenar üçgen
C) İkizkenar üçgen
D) Dik üçgen