

Adı:

Tarih

Soyadı:

...../...../2018

Aşağıdaki boyalı alanların sınırlarını renkli kalemlerle çizelim. Cümlelerdeki boşlukları uygun ifadelerle tamamlayalım.



• Karesel bölgenin sınırına denir.



• Dikdörtgenel bölgenin sınırına denir.




• Üçgenel bölgenin sınırına denir.



• Dairesel bölgenin sınırına denir.

Bir Sorum Var

Aşağıdaki geometrik cisimlerden hangisinin özellikleri yanlış verilmiştir?



A. Köşe sayısı : 8
Ayrit sayısı : 12
Yüz sayısı : 6



B. Köşe sayısı : 1
Ayrit sayısı : 2
Yüz sayısı : 2



C. Köşe sayısı : 6
Ayrit sayısı : 9
Yüz sayısı : 5

2 Kesir Problemleri - 1

1. 4 yarım kaç bütün eder?

5. 5 bütün kaç yarım eder?

2. 12 çeyrek kaç bütün eder?

6. 6 bütün kaç çeyrek eder?

3. 16 çeyrek kaç yarım eder?

7. 20 çeyrek, 10 yarım toplam kaç bütün eder?

4. 8 yarım kaç çeyrek eder?

8. 8 çeyrek, 6 yarım toplam kaç bütün eder?

Cevaplar:

10

16

8

5

2

10

24

3

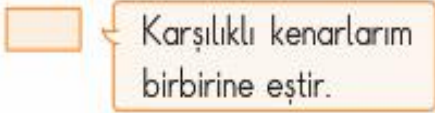
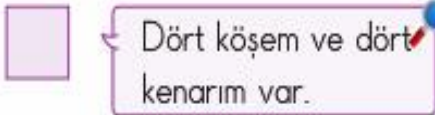
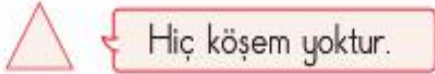
Not: Kesir problemlerinde şekil çizerek daha iyi anlayabilirsin UNUTMA!!!

BİLGİMATİK

- Kare, dikdörtgen, üçgen, çember, daire geometrik şekillerdir.



1. Aşağıda geometrik şekiller kenarları hakkında bilgi vermiştir. Hangisi yanlış bilgi vermiştir?



- A. Kare
B. Üçgen
C. Dikdörtgen

2. Hangi geometrik şeklin tüm kenarları birbirine eşittir?
A. Kare
B. Dikdörtgen
C. Çember

3. Hangi geometrik şeklin köşesi yoktur?
A. çember
B. üçgen
C. kare

4. Yandaki şekilde kaç kare vardır? (Dikkatli Bakalım.)
A. 26 B. 21 C. 17



BİLGİMATİK

- Geometrik cisimlerin yüzleri, benzediği geometrik şeklin ismi ile adlandırılır.

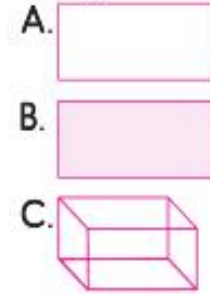


1. Hangi geometrik cismin tüm yüzleri karesel bölgedir?
A. Küre
B. Küp
C. Kare prizma

2. Hangi geometrik cismin tüm yüzleri birbirine eşittir?
A. Üçgen prizma
B. Küre
C. Küp

3. Yandaki portakal hangi geometrik cisme örnektir?
A. koni B. küre C. küp

4. Aşağıdakilerden hangisi dikdörtgensel bölgeyi gösterir?



5. Dairesel bölgenin sınırları hangi şekildir?
A. Kare B. Çember C. Daire

6. Aşağıdakilerden hangisinin karesel bölgesi yoktur?
A. Küp
B. Silindir
C. Kare prizma

ENES SERT

2/F Sınıfı Çalışmaları



ÇİLLİ HOROZ İLE BENEKLİ HOROZ

Bir kûmeste iki tane horoz varmış. Biri çilli, diğeri benekli imiş. Bu iki arkadaş kavgasız, gürültüsüz yaşayıp gıdermiş.

Bir gün kûmese bir tavuk gelmiş. İki horoz tavuğu kıskanmış. Kavgaya başlamışlar. Kûmesin kralı olmak istemişler. Kavgası sırasında horozların tüyleri, ibikleri ve kanatları kopmuş. Kavgayı çilli horoz kazanmış. Kûmese kral olmuş.

Çilli horoz kûmesin damına çıkmış, şen sesiyle ötmeye başlamış. Kartal, horozun sesini duymuş. Onu, pençeleri arasına alıp götürmüş. Kûmes benekli horozu kalmış.

- Aşağıdaki horoz isimlerinden hangisi metinde yoktur?
A. çilli horoz B. sarı horoz
C. benekli horoz
- Aşağıdaki kelimelerden hangisi metinle ilgili değildir?
A. kartal B. kûmes C. tilki
- Aşağıdakilerden hangisi kavganın nedenidir?
A. tavuk B. kartal C. horoz
- Metinde anlatılan olayın geçtiği yer neresidir?
A. bahçe B. sokak C. kûmes
- Hangisi metinde geçen olayın ana kahramanlarındandır?
A. horozlar B. tavuk C. kartal
- Kavganın kaybedeni hangisidir?
A. tavuk B. çilli horoz
C. benekli horoz
- Aşağıdakilerden hangisi kartala aittir?
A. ibik B. kanat C. pençe

Aşağıdaki cümlelerde ad yerine kullanılan sözcükleri yazalım.

- Ben tarlaya gidip domates toplayacağım. → (.....)
- Merve gelecekmış ama o gelmeyecekmış. → (.....)
- Biz yemek yiyeceğiz, siz yiyecek misiniz? → (.....) (.....)
- Onların yerine biz oynayalım mı? → (.....) (.....)
- Siz evi temizleyin biz de yemek yapalım. → (.....) (.....)
- Önden ben gideyim, onlar geriden gelsin. → (.....) (.....)
- Sanırım ben otobüse yetişemeyeceğim. → (.....)

Kutularda yazan sözcükleri noktalı yerlere sebep - sonuç cümleleri oluşturacak şekilde yazalım.

için

çünkü

bunun sonucunda

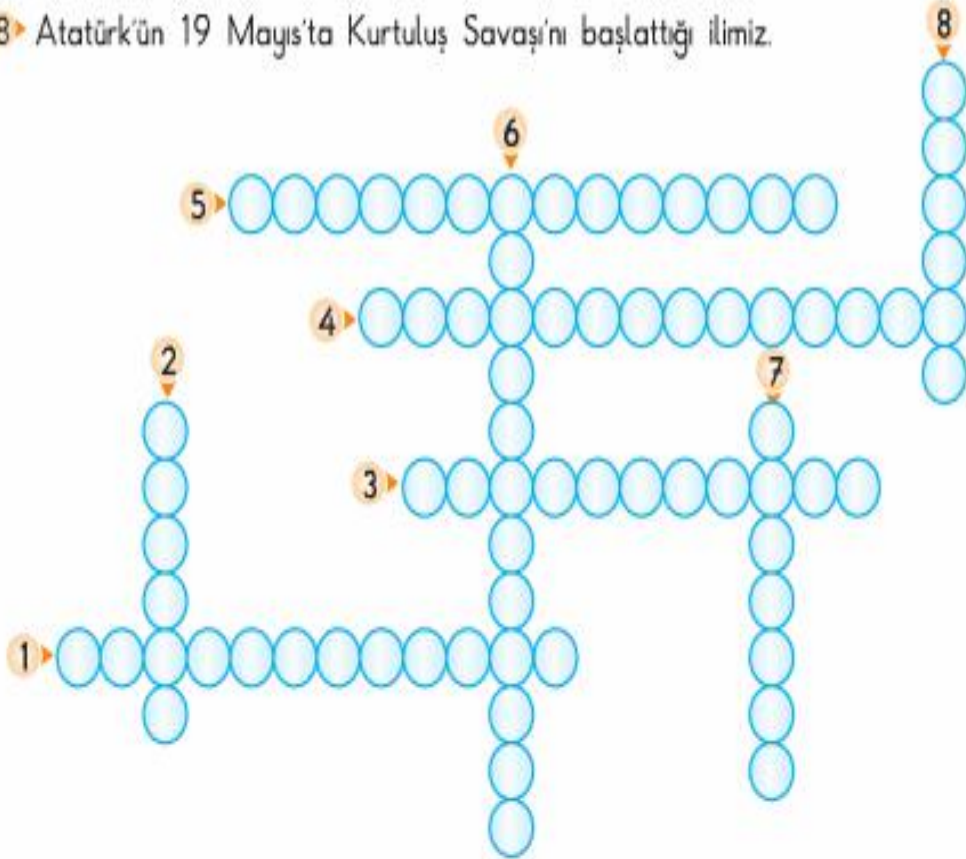
bu nedenle

bu yüzden

- Yağmur yağdığı dışarıda top oynayamadık.
- Çok güzel yazı yazdı, öğretmeni tebrik etti.
- Dün televizyon izleyemedik bozuldu.
- Çok gürültü yaptık annem bizi uyardı.
- Çok çalıştılar şampiyon oldular.
- Karnı acıktığı annesi yemek yaptı.
- Okula gelemedi hastalanmış.

Aşağıdaki bulmacayı çözelim.

- 1 Her yıl Ulusal Egemenlik ve Çocuk Bayramını kutladığımız gün.
- 2 İlk Büyük Millet Meclisinin açıldığı ilimiz.
- 3 Her yıl Zafer Bayramını kutladığımız gün.
- 4 Atatürk'ün İstanbul'dan Samsun'a gittiği geminin adı.
- 5 Her yıl Cumhuriyet Bayramını kutladığımız gün.
- 6 Atatürk'ün Samsun'a çıktığı gün.
- 7 Cumhuriyetimizin kurucusu, ilk cumhurbaşkanımız.
- 8 Atatürk'ün 19 Mayıs'ta Kurtuluş Savaşı'nı başlattığı ilimiz.



Cümlelerde boş bırakılan yerleri kutudaki kelimelerden uygun olanı ile tamamlayalım.

Ali : ① Good morning. I ② _____ Ali.

③ _____ is your name?

Selma : Good ④ _____ . My name is Selma.

⑤ _____ to meet you.



Sınıf eşyaları ile adını eşleştirelim.



1. book

2. pencil

3. pen

4. pencil case

5. sharpener

6. rubber

7. ruler

8. notebook



Enes SERT

2/F Sınıfı Çalışmaları