

Adı:
Soyadı:

3. SINIF DENEMELERİMİZ
Değerlendirme

Tarih
...../...../2021

1-.....
 $15 \div 5$ Yandaki bölme işlemini çıkarma işlemi şeklinde nasıl ifade ederiz?

- A. $15 - 3 = 12$ B. $15 - 5 = 10$ C. $20 - 5 = 15$
 $12 - 3 = 9$ $10 - 5 = 5$ $15 - 5 = 10$
 $9 - 3 = 6$ $5 - 5 = 0$ $10 - 5 = 5$
 $6 - 3 = 3$ $5 - 5 = 0$
 $3 - 3 = 0$

2-.....
Bir bölme işleminde bölen 8, bölüm 9 ve kalan sayı 3 olduğuna göre bölünen sayı kaçtır?

- A. 20 B. 72 C. 75

3-.....
 $27 - 9 = 18$
 $18 - 9 = 9$
 $9 - 9 = 0$

Yukarıdaki çıkarma işlemini bölme işlemi şeklinde nasıl ifade ederiz?

- A. $27 \div 9$ B. $27 \div 3$ C. $27 \div 6$

4-.....
Kalanlı bir bölme işleminde bölen 8, bölüm 12 olduğuna göre bölünen sayı en fazla kaç olabilir?

- A. 113 B. 103 C. 96

5-.....
Böleni 8 olan bir bölme işleminde kalan sayı hangisi olamaz?

- A. 6 B. 8 C. 7

6-.....
Kendisiyle 3 katının toplamı 72 olan sayı kaçtır?

- A. 18 B. 24 C. 16

7-.....
" $75 \div 3 > A$ " olduğuna göre A'nın yerine yazılabilecek en büyük sayı kaçtır?

- A. 23 B. 25 C. 24

8-.....
Onur'un yaşının 5 katı 35 olduğuna göre Onur 3 yıl sonra kaç yaşında olur?

- A. 8 B. 7 C. 10

9-.....
Azra ile annesinin yaşlarının toplamı 36'dır. Annesinin yaşı Azra'nın yaşının 3 katıdır.

Buna göre Azra kaç yaşındadır?

- A. 9 B. 27 C. 8

10-.....
Miray, 37 tane kalemi arkadaşlarına yedişer dağıtınca kendisine 2 kalem kalıyor.

Buna göre Miray kalemleri kaç arkadaşına dağıtmıştır?


- A. 6 B. 5 C. 7

11-.....
Günde 4 ekme tüketen bir aile, 160 ekmeği kaç günde tüketir?

- A. 40 B. 50 C. 60

12-.....
 $\star + \star + \star + \star + \star = \dots\dots$
Yukarıda varlıklarla gösterilen toplama işlemini çarpma işlemi şeklinde nasıl ifade edebiliriz?

- A. 3×5 B. 5×3 C. $5 + 3$

13-.....


Çiftliğimizde 48 tavşan ve 48 tavuk var. Buna göre tavuk ve tavşanların ayak sayıları toplamı kaçtır?

- A. 288 B. 192 C. 96

HAYDİ OKULAI

On, dokuz, sekiz, yedi, altı, beş, dört, üç, iki ve bir.

Okulların açılmasına son on gün kala Poyraz saydı 10'dan geriye. Şimdi yalnızca bir gün kalmıştı okullara.

Odasında dört ayaklı bir resim tahtası vardı. Sandalyesine oturdu ve harika geçen yaz tatilini resmetti.

Köyde oynadıkları oyunlar bir bir geldi aklına. En çok da akşam olunca oynadıkları körebe oyununda çok eğleniyordu.

Deniz kıyısında yedikleri mısırın tadı damağında, kumdan kaleler ise sanki gözünün önündeydi.

Resim tamamlandı. Poyraz da üçüncü sınıfta yaşayacağı maceraları düşünerek derin bir uykuya daldı.

İlksen TONKA

1- Poyraz'ın yaz tatili nasıl geçmiştir?

- A) Biraz sıkıcı geçmiştir.
B) Oldukça yorucu geçmiştir.
C) Harika geçmiştir.

2- Deniz kenarında yediği, tadı damağında olan nedir?

- A) Mısır
B) Poğaçça
C) Tost

3- Metnin konusu aşağıdakilerden hangisidir?

- A) Okulda yaşananlar
B) Yaz tatilinde yaşananlar
C) Resim yapmanın önemi

4-

5	6	21	8	12
---	---	----	---	----

Alfabemizdeki sıra numarası verilmiş olan harfleri yazarsak ortaya hangi kelime çıkar?

- A) DELİK
B) DERGİ
C) DOLAP

5- Aşağıda verilen kelimelerin hangisinin yazımında yanlışlık yapılmıştır?

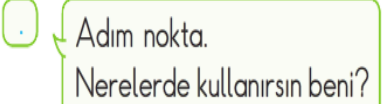
- A) şırl şırl
B) hapşurmak
C) gürül gürül

6-

öğretmen	•	talebe	•
öğrenci	•	derslik	•
sınıf	•	muallim	•

Verilen sözcükleri eş anlamları ile eşleştirirsek görüntü hangisi gibi olur?



7- 

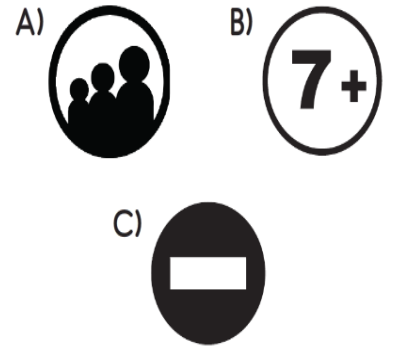
"Nokta"nın sorduğu sorunun yanıtı aşağıdakilerden hangisi olamaz?


- A) Cümle tamamlanmadıysa kullanılır.
B) Kısaltmaların sonuna konur.
C) Gün, ay, yıl belirten sayıların arasına konur.

8- Kırtasiyeden pastel boya () sulu boya () resim defteri aldım () Yukarıdaki cümlede () ile belirtilen yerle sırasıyla hangileri gelmelidir?

- A) (,) (,) (!)
B) (,) (,) (.)
C) (;) (,) (.)

9- Hangi işaretin anlamı "Genel İzleyici Kitlesi"dir?



10-  Sağlık bakanlığı

 Sağlık Bakanlığı

 Sağlık Bakanlığ'ı

Yukarıdaki tabelalardan hangisinin yazımı doğrudur?

- A)  B)  C) 