



Kültür ve Miras - 1

1. Anadolu'nun ilk uygarlıklarından biri olan Hititler, Sümerlerden öğrendikleri çivi yazısını ve Mısırlılardan öğrendikleri hiyeroglif yazısını kullanmışlardır.

Metne göre aşağıdakilerden hangisine ulaşılabilir?

- A) Çivi yazısını kullanan ilk uygarlık Hititlerdir.
B) Toplumlar birbirlerinden etkilenmişlerdir.
C) İlk merkezi krallıklar Anadolu'da kurulmuştur.
D) Dünyanın ilk kütüphanesini Sümerler kurmuşlardır.

2. Ülkemizde kutlanan bayramlarla ilgili aşağıda verilen bilgilerden hangisi yanlıştır?

- A) Nevruz bayramı baharı müjdelere.
B) Kurban bayramı millî bir bayramdır.
C) Hıdırellez bayramı mevsimlik bayramdır.
D) Cumhuriyet bayramı millî bir bayramdır.

3. Aşağıdakilerden hangisi milletçe bir arada yaşamamızda önemli bir yere sahip olan, birlik ve beraberliğimizi güçlendiren kültürel öğelerimizden biri değildir?

- A) Kurban Bayramı
B) Kına geceleri
C) Bahar Şenlikleri
D) Şükran Günü

4. Kültürel özellikleri oluşturan unsurdan biri de yemeklerdir. Ülkemizde zeytinin bolca yetiştiği Ege ve Akdeniz kıyılarında sebze yemekleri genellikle zeytinyağı kullanılarak yapılır. Trabzon ve Rize'de bol miktarda mısır yetiştirildiğinden ekmek yapımında genellikle mısır unu kullanılmaktadır.

Metne göre kültürel farklılığa neden olan unsur aşağıdakilerden hangisidir?

- A) Ekonomik faaliyetler
B) Dini inanışlar
C) Eğitim seviyesi
D) Gelir düzeyleri

5. Ülke olarak tarihî eserler yönünden oldukça zengin bir mirasa sahibiz.

Aşağıdakilerden hangisi sahip olduğumuz tarihî eserlerden değildir?

- A) Topkapı Sarayı
B) Selimiye Camii
C) Mevlana Müzesi
D) Damlatay Mağarası

6. Anadolu'nun birçok medeniyetin doğmasına ve yaşamasına beşiklik ettiği bilinmektedir.

Anadolu'nun ilk çağlardan beri yerleşim yeri olarak seçilmesinin nedenleri arasında aşağıdakilerden hangisi yoktur?

- A) Toprağın verimli olması
B) Su kaynaklarının bulunması
C) Doğal kaynaklarca zengin olması
D) Teknolojik çalışmalara uygun olması

Kültür ve Miras - 1

7. İlk Çağda;

- I. toprağı işleyerek tarımla uğraşmaları,
- II. ateşi kullanmış olmaları,
- III. mağara duvarlarına resimler çizmeleri,
- IV. toplayıcılıkla beraber avcılık yapmaları

faaliyetlerinden hangileri insanların üretim yaptıklarını gösterir?

- A) Yalnız I.
- B) Yalnız II.
- C) I ve III.
- D) III ve IV.

8. Aşağıdakilerden hangisi dinî bayramların özelliklerinden biri değildir?

- A) İnsanlar bir arada halk oyunları oynar.
- B) Aileler ve akrabalar bir araya gelir.
- C) Birbirine dargın insanlar barışır.
- D) Toplumda birlik ve beraberlik oluşur.

9. Zeybek, halay, horon karşılama vb. oyunlar hangi kültürel unsur içerisinde yer almaktadır?

- A) Düşünler
- B) Halk oyunları
- C) El sanatları
- D) Yemekler

10. Geçmiş uygarlıklardan kalan kalıntı ve eserlere tarihî eser denir.

Buna göre aşağıdakilerden hangisi tarihi eserlere örnek olarak gösterilebilir?

- A) Orman
- B) Mağara
- C) Kale
- D) Şelale

11. Merhaba, benim adım Paduhepa. Hattuşa'da yaşıyorum. İki katlı, dört odalı ve avlulu olan evimizin odalarının birinde ocağımız bile var. Komşu ülkeler bize "Bin Tanrı İli" diyor. Kutlamalarımızda tanrılarımıza kurbanlar keseriz. Kuraklıktan etkilenmemek için tahıl deposu ve baraj yaptırıldı. Yaşadığımız önemli olayları yazdığımız Anal adını verdiğimiz yıllıklar da hazırlıyoruz.

Buna göre Hititler ile ilgili aşağıdaki bilgilerden hangisine ulaşamaz?

- A) Tek tanrılı dine inanmışlardır.
- B) Tarım ile uğraşmışlar.
- C) Yazıyı kullanmışlardır.
- D) Yerleşik bir yaşam sürmüşlerdir.

12. Mardin'de gerçekleştirilen bir arkeolojik çalışma sırasında günümüzden binlerce yıl önce yapılmış bir oyuncak araba bulundu. Aynı çalışma sırasında günümüzden 2800 yıl önce hazırlanmış bir tapu belgesi de bulunmuş. Bir meyve bahçesine ait olan bu tapu belgesi, bir kil tabletin üzerine Asur yazısıyla yazılmış. Bu belgenin şimdiye kadar bulunmuş en eski tapu belgesi olduğu belirtiliyor.

Buna göre Asurlular ile ilgili aşağıdaki yargılardan hangisine ulaşamaz?

- A) Yazıyı kullanmışlardır.
- B) Toplumda sınıf farklılıkları görülür.
- C) Yerleşik bir yaşam sürmüşlerdir.
- D) Mülkiyet hakkı vardır.



Güneş, Dünya ve Ay

1. Ay, Güneş ve Dünya için verilen;

- I. ısı ve ışık kaynağı olmaları,
- II. şekillerinin küresel olması,
- III. uzayda bulunmaları

özelliklerinden hangileri ortaktır?

- A) Yalnız II. B) Yalnız III.
C) I ve II. D) II ve III.

2. Aşağıda verilen ifadelerden hangisi yanlıştır?

- A) Güneş, uzayda bulunan en büyük ve en sıcak yıldızdır.
B) Ay, Dünya'nın çevresinde dolanan ve şekli küreye benzeyen bir gök cisimidir.
C) Dünya'nın Güneş'e olan uzaklığı, Ay'a olan uzaklığından fazladır.
D) Dünya, şekli küreye benzeyen ve Güneş'in çevresinde dolanan bir gezegendir.

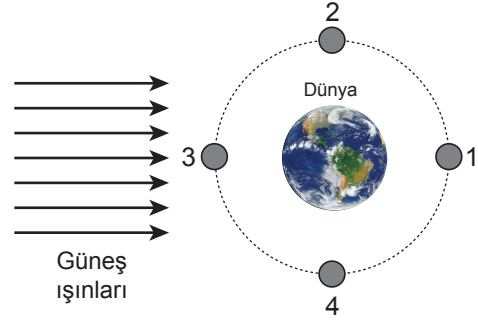
3. Aşağıda Ay'ın ana evreleri numaralanarak özellikleri belirtilmiştir.



Buna göre bu evrelerin isimleri hangisinde doğru verilmiştir?

- | I | II | III | IV |
|---------------|------------|------------|------------|
| A) İlk dördün | Yeni ay | Son dördün | Dolunay |
| B) Dolunay | Son dördün | Yeni ay | İlk dördün |
| C) Yeni ay | İlk dördün | Dolunay | Son dördün |
| D) Son dördün | Dolunay | İlk dördün | Yeni ay |

4.



Dünya'dan "Dolunay" evresinin gözlenebilmesi için Ay'ın 1, 2, 3 ve 4 ile belirtilen konulardan hangisinde olması gerekir?

- A) 1 B) 2 C) 3 D) 4

5. Ay'ın "D" (ters D) şeklinde gördüğümüz evresi aşağıdakilerden hangisidir?

- A) İlk Dördün B) Yeni Ay
C) Dolunay D) Son Dördün

6. Ay, konum olarak Güneş ve Dünya'nın arasında olduğunda hangi evrededir?

- A) Son Dördün B) Yeni Ay
C) Dolunay D) İlk Dördün

7. "Çin, Ay'ın karanlık tarafına robot gönderip araştırma yapmayı amaçlıyor. Dünya'dan gözlenemeyen bu bölüm, ilk kez 1959 yılında Rus uzay aracı Luna 3 tarafından görüntülenmişti."

Verilen haber metninde belirtilen Ay'ın karanlık yüzünün Dünya'dan gözlenememesinin nedeni nedir?

- A) Dünya'dan gündüzleri Ay'ın görülememesi
B) Ay'dan yansıyan ışınların Dünya'ya çok geç ulaşması
C) Dünya'nın Güneş etrafındaki hareketinin çok hızlı olması
D) Ay'ın Dünya etrafında dolanma süresi ile kendi eksen etrafında dönme süresinin eşit olması

Güneş, Dünya ve Ay

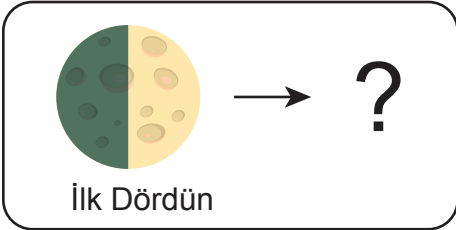
8. Güneş, Dünya ve Ay ile ilgili hazırlanan bir etkinlik tablosu aşağıda verilmiştir.

| BİLGİLER | D / Y |
|--|-------|
| Yeni Ay evresinde Ay'ın tamamı Dünya'dan görülebilir. | |
| Hilal evresinde Ay "C" veya "D" şeklinde görülür. | |
| Dünya'nın Güneş çevresindeki tam dolanım süresi, bir yıldır. | |
| Ay, Dünya etrafındaki dolanımını 27,3 günde tamamlar. | |

Tablodaki doğru bilgilerin yanına (D) yanlış bilgilerin yanına (Y) yazılırsa hangi seçeneğe ulaşılır?

- A) D B) Y
D D
Y D
D D
- C) Y D) D
D Y
Y D
D Y

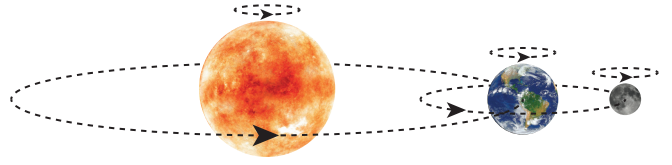
9.



Şekilde verilen Ay'ın İlk Dördün evresinden yaklaşık bir hafta sonra hangi evresi ortaya çıkar?

- A) Yeni Ay B) Şişkin Ay
C) Dolunay D) Son Dördün

10.



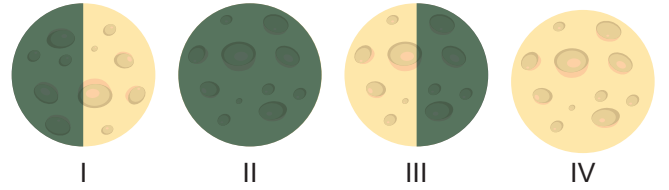
Şekilde verilen çizim ile;

- I. Güneş, Dünya ve Ay'ın kendi eksenleri etrafında dönme yönleri aynıdır.
- II. Güneş etrafında Ay, Ay'ın etrafında ise Dünya dolanmaktadır.
- III. Ay'ın Dünya etrafında dolanma yörüngesi, Dünya'nın Güneş etrafında dolanma yörüngesinden uzundur.

sonuçlarından hangilerine ulaşılır?

- A) Yalnız I. B) I ve II.
C) I ve III. D) I, II ve III.

11.



Yukarıda numaralanarak verilen Ay'ın evrelerinin isimleri, hangisinde doğru yazılmıştır?

- | | I | II | III | IV |
|---------------|------------|------------|------------|----|
| A) Son dördün | Dolunay | İlk dördün | Yeni ay | |
| B) İlk dördün | Yeni ay | Son dördün | Dolunay | |
| C) Yeni ay | İlk dördün | Dolunay | Son dördün | |
| D) Dolunay | Son dördün | Yeni ay | İlk dördün | |


12. I. Ay'ın Dünya etrafında dolanması
II. Ay'ın kendi etrafında dönüşü
III. Dünya'nın kendi etrafında dönüşü

Yukarıda verilen hareketlerin hangilerinde "bir tam tur" için geçen süre birbirine eşittir?

- A) I ve II. B) I ve III.
C) II ve III. D) I, II ve III.



Ondalık Gösterim

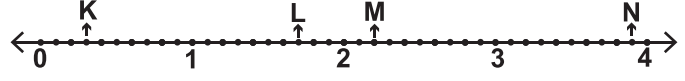
1. 
- Yukarıda eş karelerden oluşan modelde boyalı bölgeye karşılık gelen ondalık gösterim aşağıdakilerden hangisidir?
- A) 0,28 B) 0,30 C) 0,32 D) 0,34

2. Aşağıdakilerden hangisi $\frac{18}{30}$ kesrinin ondalık gösterimidir?
- A) 1,8 B) 0,6 C) 0,18 D) 0,06

3. Okunuşu “üç yüz yirmi tam yüzde yedi” olan ondalık gösterim aşağıdakilerden hangisidir?
- A) 320,70 B) 320,107
C) 320,07 D) 302,07

4. 324,167 ondalık gösteriminde 1 rakamının basamak değeri kaçtır?
- A) 10 B) 0,1 C) 0,01 D) 0,001

5. Aşağıdaki eşitliklerden hangisi yanlıştır?
- A) $\frac{46}{100} = 0,46$ B) $\frac{6}{100} = 0,06$
C) $\frac{12}{10} = 0,12$ D) $\frac{7}{10} = 0,7$

6. 
- Yukarıdaki sayı doğrusunda ardışık iki doğal sayının arası 10 eş parçaya ayrılmıştır.

Buna göre K, L, M ve N noktalarına karşılık gelen ondalık gösterimler aşağıdakilerden hangisidir?

| | K | L | M | N |
|----|-----|-----|-----|-----|
| A) | 0,3 | 1,7 | 2,2 | 3,9 |
| B) | 0,3 | 1,7 | 3,2 | 3,9 |
| C) | 1,3 | 2,7 | 3,2 | 4,9 |
| D) | 0,3 | 1,7 | 2,2 | 4,9 |

Ondalık Gösterim

7. $p = 6,4$, $r = 6,36$, $s = 6,04$

Verilen ondalık gösterimlerin doğru sıralanışı aşağıdakilerden hangisidir?

- A) $r < p < s$ B) $r < s < p$
C) $s < p < r$ D) $s < r < p$

8.

| | | | |
|------|----|------|----|
| 1,75 | | 2,48 | |
| I | II | III | IV |

Yukarıda verilen kutuların içerisine ardışık iki kutunun içerisine yazılan sayıların toplamı hemen sonrasında gelen kutuya yazılacak şekilde sayılar yerleştirilmiştir.

Buna göre II numaralı kutu ile IV numaralı kutulara yazılacak sayıların toplamı kaçtır?

- A) 0,73 B) 1,98 C) 3,21 D) 3,94

9. $7,38 + \square = 9,69$ olduğuna göre \square kaçtır?

- A) 2,21 B) 2,31
C) 16,07 D) 17,07

10.



Ali tanesi 1,25 TL olan çikolatadan bir tane almak için market sahibine aşağıdaki 3 madeni parayı uzatmıştır.



Market sahibi bu paraların çikolata almak için yeterli olmadığını söylediğine göre Ali kaç lira daha vermelidir?

- A) 0,3 B) 0,35 C) 0,4 D) 0,45

11. 2,5 litre su alabilen şişenin içinde 1,15 litre su vardır.

Şişenin tamamen dolması için en az kaç litre suya ihtiyaç vardır?

- A) 1,10 B) 1,25 C) 1,35 D) 1,45

12. Kilogramı 2,75 lira olan domates ve kilogramı 3,45 lira olan salatalıktan birer kilogram alan bir kişi kaç lira öder?

- A) 5,10 B) 5,20 C) 6,10 D) 6,20



Sözcükte Anlam - 1 (Çok Anlamlılık)

7. Günümüzde dünyanın dört bir yanındaki insanların eğlence kaynağı olan uçurtmaların binbir renk, çeşit ve büyüklükteki örneklerine rastlanıyor.

Bu cümledeki altı çizili sözcüğün anlamı aşağıdakilerden hangisidir?

- A) Bir şeyin nitelik veya nicelik bakımından değerli olma durumu
B) Bir şeyin bir yerdeki durumu
C) Aynı türden olan şeylerin bazı özelliklerle ayrılan öbeklerinden her biri
D) Durum ve niteliği benimsenmeye değer kimse veya şey

8. I. Türkçe, kök ve eklerden oluşan bir dildir.
II. Şarkının notalarını unutunca duraksadı.
III. Babam bugün yurt dışı gezisine çıktı.
IV. Farklı etkinlikler yaparak da dinlenebiliriz.

Numaralanmış cümlelerin hangilerinde terim anlamlı sözcük kullanılmıştır?

- A) I ve II. B) I ve III.
C) II ve IV. D) III ve IV.

9. “Dönmek” sözcüğü aşağıdaki cümlelerin hangisinde “Bırakılan bir konu veya işe başlamak” anlamında kullanılmıştır?

- A) Hasta çocuk yatağında sabaha kadar döndü.
B) Ertesi gün aynı yoldan Ankara'ya döndük.
C) Biz yine dersimize dönelim, arkadaşlar!
D) Burada bir şeyler dönüyor ama anlamış değilim.

10. “Kurmak” sözcüğü aşağıdaki cümlelerden hangisinde “Bir şeyi oluşturan parçaları birleştirerek bütün duruma getirmek” anlamında kullanılmıştır?

- A) Dünyanın en büyük devletlerini kuranlar kimlerdi?
B) Geniş çölde çadırlarımızı kurup keşfe çıktık.
C) Derneği, ilçede sevilip sayılan bir avukat kurmuştu.
D) Çocukça bir sevinçle kurduğu saat çalıyor.

11. Kapıdan içeri girer girmez danışmadaki görevli beni güler yüzle karşıladı ve şöyle dedi:

- Dur, söyleme! Kararını ben tahmin edeyim.
– Tamam, sen söyle, dedim.
– Annenden, babandan izin kopardın; artık bizimle çalışıyorsun, değil mi?
– Bildin, dedim gülümseyerek.

Altı çizili sözcüğün bu parçada kazandığı anlam aşağıdakilerden hangisidir?

- A) Sanmak, varsaymak
B) İşine gelmek, uygun bulmak
C) Bir şeyi anlamış bulunmak
D) Sorumlu tutmak

12. ● Neredeyse bürodaki bütün işleri ben çeviriyorum.
● Evin bahçesini örgülü telle çevirmişlerdi.
● Arkadaşımla yürürken bir adam bizi çevirip adres sordu.

Aşağıdakilerden hangisi, “çevirmek” sözcüğünün bu cümlelerde kazandığı anlamlardan biri değildir?

- A) Bir yerin çevresini bir şeyle sarmak, kuşatmak
B) Bir şeyin yönünü değiştirmek
C) Yolundan alıkoymak, yoldan döndürmek
D) Yönetmek, idare etmek

