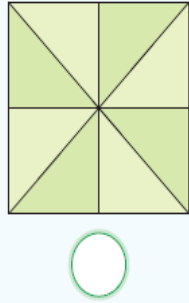
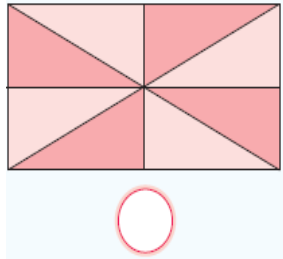
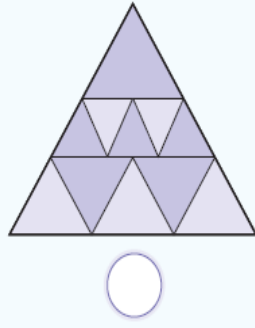
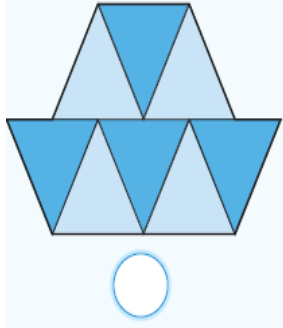


## KAÇ TANE VAR?

Aşağıdaki şekillerde kaç tane üçgen vardır?



## SÖZCÜKLERİ BUL

Aşağıdaki tablolarda ilk harfi renkli verilen beş farklı sözcük vardır. Tablolara gizlenmiş bu sözcükleri bularak altlarına yazınız.

B	D	A	R
A	L	E	M
K	A	T	S
J	K	I	P

R	K	M	F
O	S	A	Y
N	U	S	E
T	Ş	O	A

E	T	P	R
T	A	S	T
K	R	T	I
R	A	L	F

KAL


## MEYVELİ İŞLEMLER

Aşağıdaki işlemlerde her meyve bir sayıyı göstermektedir. İşlemlere göre meyvelerin sayı değerlerini bulunuz.

$$\text{Elma} + \text{Elma} + \text{Elma} = 15$$


$$\text{Elma} + \text{Elma} + \text{Elma} = 13$$

$$\text{Elma} - \text{Elma} = 2$$

$$\text{Elma} + \text{Elma} + \text{Elma} = ?$$

## EKSİK SAYILAR

Aşağıdaki şekillerde sayılar belli bir kurala göre dizilmiştir. Bu kurala göre eksik sayıları yazınız.



## KATLA BUL

Katlama doğrusuna göre dairelerin üstüne gelen harfleri bularak şifreli sözcüğü bulunuz.

A	F	J	Ö	U				
B	G	K	P	Ü				
C	Ğ	L	R	V				
Ç	H	M	S	Y				
E	I	N	Ş	Z				
D	İ	O	T	?				



## KAÇ KURABIYE VAR?

Aşağıdaki örüntülerin kuralına göre tabaklarda kaç kurabiye olmalıdır? Kurabiye sayılarını yazınız.



## KURALI BUL, ÇÖZ

Sayılar ve şekiller arasındaki ilişkiye göre problemleri çözünüz.

1  $9 \rightarrow 54$   $4 \rightarrow 28$

Sayılar arasındaki ilişkiye göre  $5 + 7$  işleminin sonucu kaçtır?

2  $5 \rightarrow 25$   $5 \rightarrow 30$

Sayılar arasındaki ilişkiye göre  $5 - 5$  işleminin sonucu kaçtır?

3  $\text{elma} + \text{elma} = 12$

$\text{muz} + \text{elma} = 10$

$\text{muz} + \text{muz} + \text{elma} = 16$

Şekiller ve sayılar arasındaki ilişkiye göre  $\text{elma}$  kaçtır?

4  $B + C = 5$

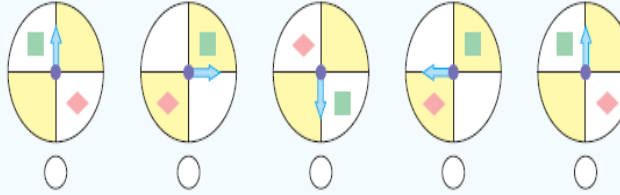
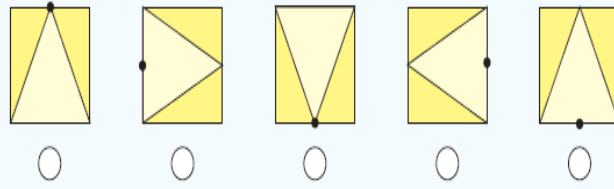
$B + C + C = 9$

$B + C + K = 13$

Yukarıdaki işlemlere göre  $B + K$  kaçtır?

## OYUN BOZAN

Aşağıdaki şekiller belli bir kurala göre sıralanmıştır. Kuralı bozan şekli işaretleyiniz.



## DOĞRUYU BUL

Aşağıdaki soruların yanıtlarını işaretleyiniz.

1 ON SU ADA  
25 38 404

Yukarıda verilen kodlamaya göre "ODUN" sözcüğünün kodu hangisidir?

2085  2458

2 OT SİL KAP  
54 157 689

Yukarıda verilen kodlamaya göre "KİTAP" sözcüğünün kodu hangisidir?

65849  65489

3 12 345 678  
AB CÇD EFG

Yukarıda verilen kodlamaya göre "12 636" sayısı hangi sözcüğü ifade eder?

ALFABE  ABECE

4 159 1597 1679  
ALT ALTI ANIT

Yukarıda verilen kodlamaya göre "1651976" sayısı hangi sözcüğü ifade eder?

ANLATTI  ANLATIN

## EKSİK PARÇAYI BUL

Sözcükler arasındaki ilişkiyi tamamlayan parçayı bulup işaretleyiniz.

kilim	bilim
Koray	saray
tabak	

kumanda	manda
birinci	inci
	balık

tarak	kabak
<input type="radio"/>	<input type="radio"/>

kalabalık	balıkçı
<input type="radio"/>	<input type="radio"/>

köfteci	
kareli	revani
pervane	vanilya

	orta
karınca	arı
kütük	ütü

tekerlek	civata
<input type="radio"/>	<input type="radio"/>

Portekiz	portakal
<input type="radio"/>	<input type="radio"/>

## HANGİSİ GELMELİ?

Aşağıdaki soruların yanıtlarını işaretleyiniz.

1 Ç G İ M P ?

Yukarıdaki harflerin dizilişine göre "?" yerine hangisi gelmelidir?

S  Ş  T  U

2 A C E H L ?

Yukarıdaki harflerin dizilişine göre "?" yerine hangisi gelmelidir?

Ö  P  R  S