

Adı:  
Soyadı:



Hayat-Bilsem  
3/F Çalışma Kağıdı



Tarih  
...../...../2019

## HAYAT BİLGİSİ

Ülkemize Karşı Görev ve  
Sorumluluklarımız

1. Aşağıdaki cümlelerde boş bırakılan yerlere uygun ifadeleri yazın.

- Her bireyin kendisine ve ailesine karşı sorumlulukları olduğu gibi \_\_\_\_\_ karşı da görev ve sorumlulukları vardır.
- Aynı ülkede yaşayan insanlara \_\_\_\_\_ denir.
- Görev ve sorumluluklarını yerine getiren vatandaşlar \_\_\_\_\_ olurlar.

2. Aşağıdakilerden hangileri ülkemize karşı görev ve sorumluluklarımızdandır? İşaretleyin.

- Vatanımızı sevmek
- Çalışkan olmak
- Küçük yaşta çalışmaya başlamak
- Çevremizi temiz tutmak
- Üstlendiğimiz bir işi en iyi şekilde ve eksiksiz yerine getirmek
- Trafik kurallarına uymak

3. I. Kaynakları bilinçli kullanmak  
II. Çevremizi temiz tutmak  
III. Aile bütçemizi oluşturmak

Yukarıdakilerden hangileri ülkemize karşı görev ve sorumluluklarımızdandır?

- A) I ve II B) II ve III C) I ve III

4. Görev ve sorumluluklarımızı yerine getirmenin ülkemiz için önemi aşağıdakilerden hangisidir?

- A) Ülkemize daha çok turist gelir.  
B) Ülkemiz gelişip kalkınır.  
C) Ülkemizin diğer ülkelerle ilişkisi artar.

5. Vatanını seven birinden aşağıdaki davranışlardan hangisi beklenmez?

- A) Düzenli olarak vergi vermek  
B) Kanunlara uygun davranmak  
C) Yurt dışında eğitim görmek

6. Aşağıdakilerden hangisi her yetişkin Türk vatandaşının görev ve sorumluluğudur?

- A) Oy kullanmak  
B) Bağış yapmak  
C) Fabrika açmak


### Genel Yetenek

A T B S N İ U L

Harfleri karışık olarak verilen ilimizin ilk harfi hangisidir?

- A) İ B) B C) T

Yandaki yapı kaç eş küpten oluşmuştur?



- A) 20  
B) 40  
C) 60

### Bilsem Sorularımız

8 tanesi çeyrek kilogram gelen incirlerden 8 kg alınırsa, toplam kaç tane incir alınmış olur?

### Sayı Dizilerini Tamamlayalım

I.		II.	
4	7	....	....
13	7	6	2
10	19	4	18
25	13	54	8
16	31	16	162
37	19	486	32
....	....	64	1458

İki doğal sayının çarpımı 36'dır. Bu sayıların toplamı en fazla kaç olabilir?

Üçer oturduklarında 12 sırayı dolduran öğrencilerin ikişer oturabilmeleri için sınıfta toplam kaç sıra olacaktır?

Adı:  
Soyadı:

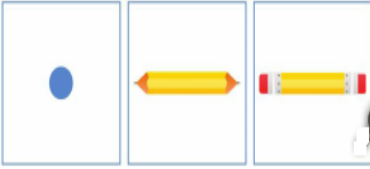

Matematik  
3/F Çalışma Kağıdı

Unutma !!!

Kutup Yıldızı daima kuzeyi gösterir.

KONU : Geometrik Kavramlar - Nokta, Doğru, Işın, Doğru Parçası

1- Aşağıdaki görsellerin geometrik kavram olarak hangisinin modeli olduğunu altına yazınız.




2- Aşağıdaki çerçevelerle belirlenmiş olanlara istenilen geometrik çizimleri yapınız.



Noktalar

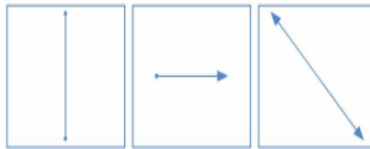
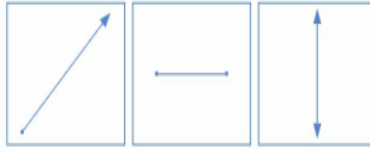
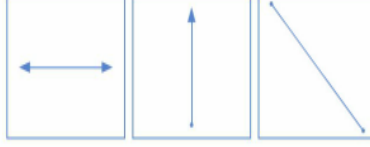
Doğrular



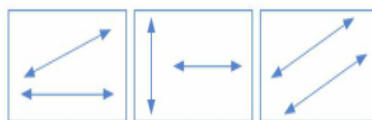
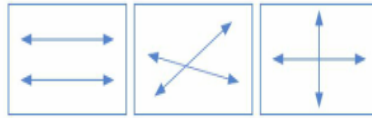
Işınlar

Doğru Parçaları

3- Aşağıdaki doğru, doğru parçaları ve ışınları yatay, dikey ve eğik olarak adlandırınız.



4- Aşağıdaki doğruların birbirlerine göre durumlarını yazınız.



5- Aşağıdaki noktali yerlere doğru, ışın ve doğru parçaları çizin (cetvel kullanabilirsiniz).



Genel Yetenek

Ü Ü Y K B

Harfleri karışık olarak verilen sözcüğün zıt anlamlısı kaç harfidir?

A 4 B 5 C 6

Tablodaki sayılar belli bir kurala göre dizilmiştir. Buna göre  $A + B$  işleminin sonucu kaçtır?

2	3	7
4	A	14
20	30	B

A 76 B 80 C 86

Eşleştirmeleri yapalım.

Dik doğrular



Kesişen doğrular



Paralel doğrular



Doğrularla yazıları rakamlara göre istenen doğru sayılarını yazalım.



2

Kesişen doğru

Paralel doğru

Dik doğru

5

Kesişen doğru

Paralel doğru

Dik doğru

1

Kesişen doğru

Paralel doğru

Dik doğru

4

Kesişen doğru

Paralel doğru

Dik doğru

3

Kesişen doğru

Paralel doğru

Dik doğru

7 rakamını oklarla sen çiz.

Enes SERT

3/F Sınıfı Çalışmaları