

Adı:
Soyadı:



FEN -SOSYAL
Tema Değerlendirme



Tarih
...../...../2020

1-
"Dünyanın kendi etrafında bir tam dönüş yapması bir olarak kabul edilir. Bu süre " anlatımdaki boşluklara sırasıyla hangi seçenekte verilenler yazılmalıdır?

- A) ay - 30 gündür.
B) yıl - 365 gündür.
C) gün - 24 saattir.
D) mevsim - 4 tanedir.

2-

Besin içerikleri	A	B	C	D
Düzenleyici	-	+	+	-
Yapıcı - Onarıcı	+	-	-	+

Tabloda verilen A, B, C ve D besinlerinin görevlerinin karşısına (+) işareti konulmuştur.

Buna göre aşağıda verilenlerden hangisi doğrudur?

- A) B et olabilir.
B) A su olabilir.
C) D balık olabilir.
D) C makarna olabilir.

3-

- I. Yoğurt
II. Elma
III. Bal

Yukarıda verilen besinlerden hangileri hayvansal kaynaklıdır?

- A) Yalnız I
B) I ve II
C) I ve III
D) I, II ve III

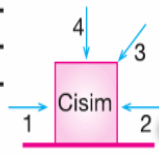
4-

Sağlıklı bir yaşam için aşağıdakilerden hangisi söylenemez?

- A) Dengeli ve yeterli beslenme ile israfı önlemiş oluruz.
B) Taze ve doğal besinlerle beslenmeliyiz.
C) Vücut temizliğine dikkat etmeliyiz.
D) Sağlıklı olmak için tek yönlü beslenmeliyiz.

5-

Şekildeki cisme ok yönlerinde uygulanan kuvvetlerden hangisi cismi hareket ettirmez?



- A) 4
B) 3
C) 2
D) 1

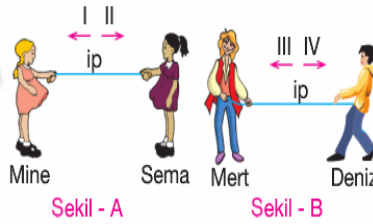
6-

- ☆ → Yavaşlama
Δ → Yön değiştirme
□ → Dönme

Aşağıda verilenler yukarıdaki kavramlarla eşleştirildiğinde hangisi açığa kalır?

- A) Kırmızı ışığa yaklaşan araba
B) Duran topa ayakla vuran kaleci
C) Viraja giren otobüs
D) Ay'ın Dünya etrafındaki hareketi

7-

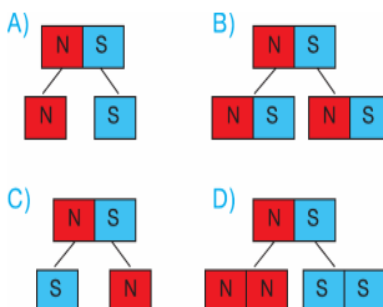


Yukarıdaki iki şekilde dört arkadaş halat çekme yarışı yapmaktadır. Buna göre, aşağıdakilerden hangisi söylenemez?

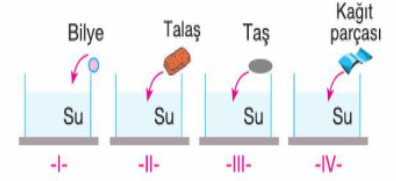
- A) Şekil B'de ip IV yönünde hareket ediyorsa oyunu Deniz kazanmıştır.
B) Şekil A'da ip I yönünde hareket ediyorsa oyunu Mine kazanmıştır.
C) Her iki şekilde de ip hareketsiz kalıyorsa uygulanan kuvvetler eşittir.
D) Mine; Sema, Mert ve Deniz'den daha büyük kuvvet uygulamıştır.

8-

Büyük bir mıknatısı ikiye böldüğümüzde mıknatısın kutupları aşağıdakilerden hangisi gibi olur?



9-



Yukarıda su içerisine bırakılan çeşitli maddeler verilmiştir.

Buna göre, hangi şekildeki maddeler su içerisinde batar?

- A) I - II
B) I - III
C) II - IV
D) II - III

10-

Δ → Ağzdan çıkarım, balonun içine dolardım.

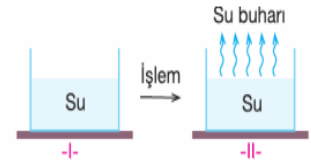
☆ → Bellidir benim şeklim, kuvvet uygulanmışsa değişmez şeklim.

□ → Yoktur belirli şeklim, sabit durmaz akarım.

Yukarıda Δ, ☆ ve □ ile verilen maddenin halleri için aşağıda verilen örneklerden hangisi doğrudur?

- A) ☆ → Sirke
B) □ → Silgi
C) Δ → Hava
D) ☆ → Süt

11-

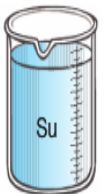


Yukarıdaki Şekil- I'deki suya hangi işlem yapılmıştır ki "su" su buharı haline geçmiştir?

- A) Soğutma
B) Isıtma
C) Parçalama
D) Eritme

12-

İçinde 100 mL su bulunan dereceli kaba kütle ve hacim değerleri verilen maddelerden hangisi atıldığında su seviyesi en fazla artar?



Madde	Kütle (g)	Hacim (cm ³)
I	50	40
II	25	25
III	100	50
IV	25	30

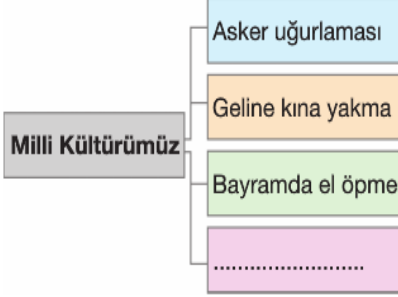
13-----

Kimlik kartımızdaki seri numarası arasındaki karışıklığı önlemek için kullanılır.

Yukarıdaki boşluğa aşağıdakilerden hangisi yazılmalıdır?

- A) İnsanlar B) Kişiler
C) Bireyler D) Kimlikler

14-----



Yukarıdaki şemada kültürümüze ait örnekler verilmiştir.

Boş bırakılan yeri hangi seçenekteki bilgi ile tamamlamamız doğru olamaz?

- A) Çeyiz sandığı
B) Düğünde takı takma
C) Marketten alışveriş yapma
D) Halk oyunlarımız

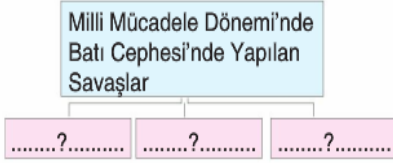
15-----

Ailesinin tarihini araştırmak isteyen İlhan dedesiyle sözlü tarih çalışması yapmak istemektedir.

Buna göre, İlhan sözlü tarih görüşmesine giderken aşağıdakilerden hangisini kesinlikle yanında bulundurması gerekir?

- A) Fotoğraf makinesi
B) Ses kayıt cihazı
C) Radyo
D) Sözlük

16-----



Yukarıdaki şemada boş bırakılan yerlere aşağıdakilerden hangisi yazılamaz?

- A) Çanakkale Savaşı
B) I. İnönü Savaşı
C) Başkomutanlık Meydan Savaşı
D) Sakarya Meydan Savaşı

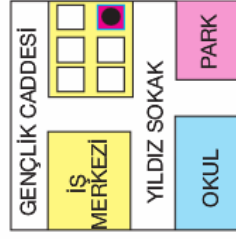
17-----

Aşağıdakilerden hangisi doğal unsurlardan biri değildir?

- A) Göl B) Dağ
C) Orman D) Park

18-----

Ahmet, arkadaşlarını doğum gününe çağır-
mış ve evlerinin kolay bulunması için bir şekil çizmiştir. Ahmet'in çizdiği bu şekil aşağıdakilerden hangisine örnektir?



- A) Adres B) Plan
C) Yönler D) Kroki

19-----

- Yağmurlar azalır.
- Erozyon artar.
- Yabani hayvanlar evsiz kalır.
- Doğanın dengesi bozulur.

Verilenler aşağıdaki olaylardan hangisinin sonucunda gerçekleşir?

- A) Ormanların bilinçsizce tüketilmesi
B) Avlanmanın kurallarına uyulmaması
C) Yağmurların çok yağması
D) Fabrikaların hava kirliliğini artırması

20-----



Ülkemin her tarafı denizlerle çevrilidir. Hiçbir ülkeye kara sınırimiz yoktur. Ülkemize gelmek için ya hava yolunu, ya da deniz yolunu kullanmak zorundasınız.

Yukarıda ülkesinin konumunu anlatan Derya'nın ülkesi hangi coğrafi terim ile ifade edilebilir?

- A) Ada B) Yarım ada
C) Plato D) Körfez

21-----



Yukarıdaki haritada (IV) numara ile gösterilen yön aşağıdakilerden hangisidir?

- A) Kuzey B) Güney
C) Doğu D) Batı

22-----

Aşağıdakilerden hangisi kuzey yönünü göstermez?

- A) Cami minarelerinin kapıları
B) Kutup yıldızı
C) Ağaç yosunları
D) Taş yosunları

23-----



Yukarıdaki diyagramda soru işareti (?) ile gösterilen yere aşağıdakilerden hangisi yazılamaz?

- A) Nem B) Sis
C) Yağış D) Gölge

24-----

Aşağıdaki olayların hangisinin oluşmasında insanların yaptığı hataların bir etkisi yoktur?

- A) Deprem B) Küresel ısınma
C) Yangın D) Trafik kazaları

25-----

Resimde hangi teknolojik alet verilmiştir?

- A) Buhar makinesi
B) Telgraf
C) Telefon
D) Plâk







26-----

Aşağıdakilerden hangisini teknolojinin olumlu etkilerinden sayamayız?

- A) Ulaşımdaki kolaylık
B) Çevre kirliliği
C) Haberleşmedeki hız
D) Zamandan tasarruf




27-----

Aşağıdakilerden hangisi gök cisimlerini incelemek için kullanılan bir araçtır?

- A)  B) 
C)  D) 

28-----

Aşağıdakilerden hangisi günümüze daha yakın bir döneme ait ulaşım aracıdır?

- A)  B) 
C)  D) 