

Adı:
Soyadı:



Matematik
3/F Çalışma Kağıdı



Tarih
...../...../2019

❖ Aşağıdaki ürünlerden kilogram ile ölçülenleri işaretleyiniz.



❖ Aşağıdaki toplama ve çıkarma işlemlerini yapınız. Sonuçları 'g' veya 'kg' cinsinden yazınız.

$5 \text{ kg} + 3 \text{ kg} = \dots\dots\dots$

$50 \text{ kg} - 25 \text{ kg} = \dots\dots\dots$

$57 \text{ g} + 85 \text{ g} = \dots\dots\dots$

$5 \text{ g} - 40 \text{ g} = \dots\dots\dots$

$300 \text{ g} - 120 \text{ g} = \dots\dots\dots$

$5 \text{ kg} - 3 \text{ kg} = \dots\dots\dots$

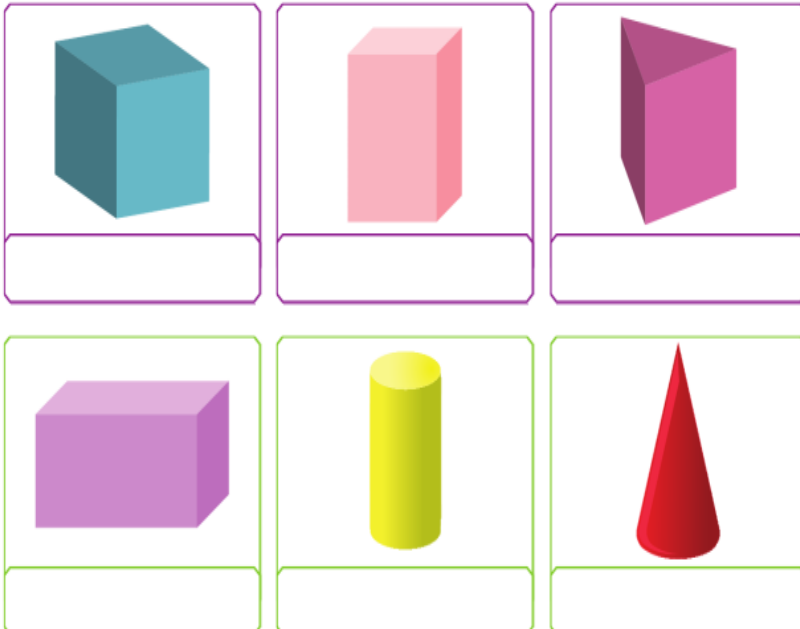
$12 \text{ kg} - 7 \text{ kg} = \dots\dots\dots$

$800 \text{ g} - 250 \text{ g} = \dots\dots\dots$

$28 \text{ kg} + 12 \text{ kg} = \dots\dots\dots$

$450 \text{ g} + 350 \text{ g} = \dots\dots\dots$

❖ Aşağıdaki geometrik cisimlerin adlarını yazınız.



11 Aşağıdaki paketlerden hangisi en ağırdır?



12



Yukarıdaki terazideki karpuz 4 kg'dır.

Terazinin sol kefesine aşağıdaki-lerden hangisini koyarsak terazi dengede olur?



Adı:
Soyadı:

Matematik
3/F Çalışma Kağıdı

UNUTMA VE ÖĞREN
Ülemizde yedi tane bölge vardır.

TARTMA

1 Aşağıdakilerden hangisi kilogramla satılmaz?

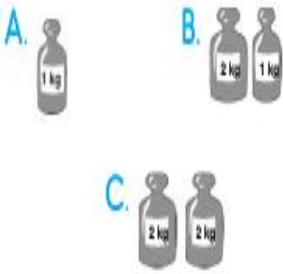


4 Yandaki fıstık paketinden 4 tane alan Zeynep kaç gram fıstık almıştır?



A. 400 B. 600 C. 800

2 Terazinin kefesine konulmuş olan paketlerin her biri yarım kilogramdır. Terazinin dengeye gelmesi için boş kefeye aşağıdakilerden hangisi konulmalıdır?



Yukarıda yapılan tartımlara göre portakalın kütlesi kaç gramdır?


A. 110 B. 115 C. 120

5 Yukarıdaki paketleri satın alan Aydan kaç gram pirinç almıştır?




A. 500 B. 700 C. 1000

6 Aşağıdakilerden hangisi kilogram ile satılır?



7 Metin amca, yaptığı işte daha çok ağırlık ölçüsü kullanmaktadır. Metin amcanın mesleği ne olabilir?

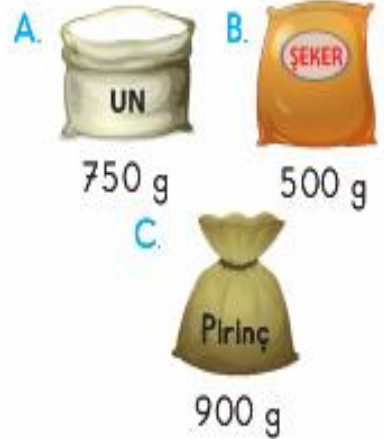


8 Yandaki çekirdek paketinden kaç tanesi 96 kg eder?



A. 16 B. 24 C. 48

9 Aşağıdakilerden hangisi daha ağırdır?



10 Babam marketten 2 paketi 1 kg olan şekerden 6 paket aldı. Kaç kilogram şeker almıştır?

