

Ay'ın Yapısı ve Özellikleri

1. Aşağıdaki fotoğraf astronot Neil Armstrong'un 1969 yılında Ay yüzeyine ayak basması sonucu oluşan ayak izidir.



Bu ayak izinin günümüze kadar hiç bozulmadan kalmasına;

- I. Ay'ın şeklinin küresel olması,
- II. Ay'da yağmur ve rüzgâr olaylarının oluşmaması,
- III. Ay yüzeyinde bulunan toz tabakasının sabit olması

durumlarından hangileri sebep gösterilebilir?

- A) Yalnız I. B) I ve II.
C) II ve III. D) I, II ve III.

2. "Bir astronot olarak Ay'a gönderilseydiniz, orada neler gözlemleyebilirdiniz?"

Fen Bilimleri Öğretmeni, yukarıdaki soruyu öğrencilerine soruyor. Öğrencilerin verdiği cevaplardan bazıları şöyledir:

- I. Yüzeyinde büyük çukurlar var.
- II. Canlı yaşamı yok.
- III. Özel kıyafetlerim olmasaydı, nefes alamazdım.
- IV. Oldukça kalın bir atmosfer tabakasına sahip.

Buna göre kaç numaralı cevap Ay ile ilgili yanlış bilgi içerir?

- A) I. B) II. C) III. D) IV.

3. Dünya'dan gökyüzüne baktığımızda Ay'ı diğer gök cisimlerinden daha büyükmüş gibi görürüz.

Bunun nedeni aşağıdakilerden hangisi olabilir?

- A) Ay'ın daha parlak olması
B) Güneş'in ışığının Ay'a ulaşması
C) Ay'ın şeklinin küresel olması
D) Dünya'nın Ay'a daha yakın olması

- 4.

Ay'ın yüzeyinde bulunan ve Ay yüzeyine çarpan gök taşlarının oluşturduğu büyük çukurlara - - - - denir.

Yukarıdaki tanımda boş bırakılan yere hangi kavram getirilmelidir?

- A) meteor B) krater C) mağara D) leke

5. Aşağıda verilen yiyecekler büyüklük ilişkisine göre Dünya, Güneş ve Ay modelleri oluşturmak için kullanılmak isteniyor.



Karpuz



Bezelye

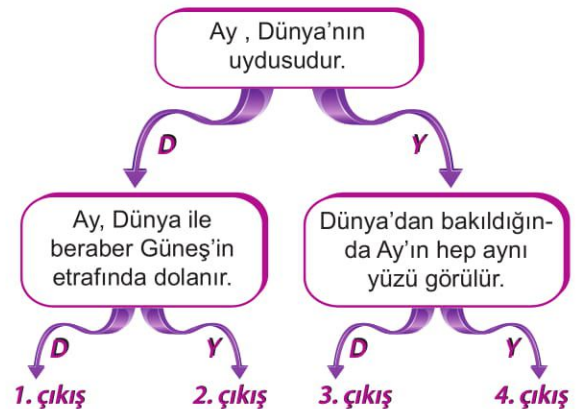


Domates

Bu yiyeceklerin modelleyeceği gök cisimleri ile doğru eşleştirilmesi hangi seçenekte verilmiştir?

	Dünya	Güneş	Ay
A)	Karpuz	Domates	Bezelye
B)	Domates	Karpuz	Bezelye
C)	Domates	Bezelye	Karpuz
D)	Bezelye	Karpuz	Domates

- 6.



Verilen tanılayıcı dallanmış ağaçta, en üstteki ifadeden başlanarak "Doğru(D)" veya "Yanlış (Y)" yönünde ilerlenirse kaç numaralı çıkışa ulaşılır?

- A) 1. B) 2. C) 3. D) 4.

Ay'ın Yapısı ve Özellikleri

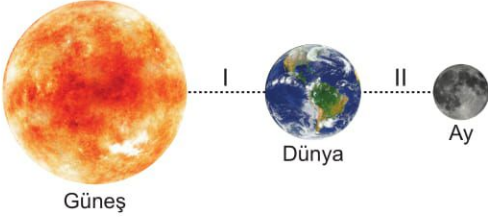
7.

Ay'ın Dünya etrafında dolanma süresi 1	Ay'ın kendi etrafında dönme süresi 2
Dünya'nın kendi etrafında dönme süresi 3	Dünya'nın Güneş etrafında dolanma süresi 4

Yukarıdaki numaralanmış kartlarda yazan zaman dilimlerinden hangi ikisi birbirine eşittir?

- A) 1 ve 2. B) 2 ve 3.
C) 3 ve 4. D) 1 ve 4.

8. Şekilde Güneş ile Dünya arasındaki uzaklık "I", Dünya ile Ay arasındaki uzaklık ise "II" ile numaralanmıştır.



Buna göre I ve II uzaklıklarının yaklaşık değerleri hangi seçenekteki gibi olabilir?

	I	II
A)	38400 km	15 km
B)	150 km	384 km
C)	150 milyon km	384 bin km
D)	384 bin km	150 milyon km

9. Ay ile ilgili verilen aşağıdaki bilgilerden hangisi yanlıştır?

- A) Şekli küreseldir.
B) Doğal ışık kaynağıdır.
C) Dünya'nın tek doğal uydusudur.
D) Çok ince bir atmosfer tabakası vardır.

10. Ay'a çıkan astronotlar, yandaki resimde görülen özel tasarlanmış kıyafeti giyerler.

Bu kıyafetin astronotlar tarafından giyilme nedenleri ile ilgili;

- I. Rahat nefes almalarını sağlaması
II. Bedenlerini dış darbelere karşı koruması
III. Vücut sıcaklıklarını dengede tutması

ifadelerinden hangileri doğrudur?

- A) Yalnız I. B) I ve II.
C) II ve III. D) I, II ve III.



11. Bilim insanları, Dünya'dan Ay'ın düzenli olarak fotoğraflarını çekerek inceliyorlar. Bunun sonucunda Dünya'dan bakıldığında Ay'ın değişik şekillerde görüldüğünü ve bu görüntülerin düzenli olarak tekrar ettiğini tespit ediyorlar.

Bilim insanlarına göre bu durumun nedenlerinden biri aşağıdakilerden hangisi olabilir?

- A) Ay'ın Dünya etrafında dolanması
B) Dünya'nın Ay'dan büyük olması
C) Ay'ın kendi etrafında dönmesi
D) Dünya'nın Ay'a yakın olması.

12. Ay'ın kendi eksenini etrafındaki bir tam dönüş süresi ile Dünya etrafındaki bir tam dolanma hareketinin süresi birbirine eşit olup 27,3 gündür.

Aşağıdakilerden hangisi bu durumun sonuçlarından biridir?

- A) Güneş tutulmasının meydana gelmesi
B) Gece ve gündüz oluşumu
C) Dünya'dan Ay'ın hep aynı yüzünün görülmesi
D) Ay'ın atmosfer tabakasının ince olması



My Town - 1

1-5. sorularda boş bırakılan yere uygun gelen kelime ya da ifadeyi işaretleyiniz.

1.



The dog is - - - - the box.

- A) in front of
- B) behind
- C) under
- D) on

2. **Clara** : - - - -?

Mark : She's in the library with her classmates.

- A) How old is your mum
- B) How does she feel today
- C) Where is she from
- D) Where is your sister

3. **Max** : - - - -? I need some pills.

Ann : It's next to the bus station, behind the supermarket.

- A) Is there a grocery near here
- B) Where is the nearest pharmacy
- C) How can I go to the bank
- D) What is there in front of the park

4. **Tourist** : Excuse me, how can I go to the city museum?

Police officer : - - - -. It's on your right.

- A) There is a toy shop behind the city hall
- B) The stationery is next to the school
- C) Go straight ahead and turn left
- D) You are in the Tulip street

5. **Steve** : Hey, dad. Where is mum? She isn't at home.

Dad : - - - -. She needs some vegetables for dinner.

- A) She is at the supermarket
- B) She likes going to the library
- C) She is at home
- D) She goes to the bakery

6.



What does the sign above mean?

- A) Take the first left.
- B) Take the second left.
- C) Take the second right.
- D) Take the first right.

My Town - 1

7. I. Go straight ahead and take the first left.
II. How can I get there?
III. Excuse me, sir. Is there a stationery near here?
IV. Yes, there is one in the Sesame Street.

Karışık olarak verilen cümlelerin anlamlı bir bütün oluşturacak şekilde sıralandığı seçeneği işaretleyiniz.

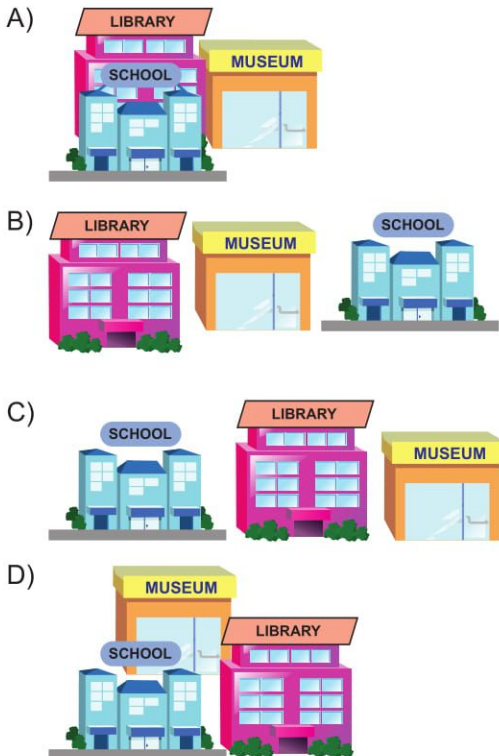
- A) IV - II - I - III
B) II - I - III - IV
C) I - III - IV - II
D) III - IV - II - I

8-9. sorularda verilen cümleyi ifade eden görselin bulunduğu seçeneği işaretleyiniz.

8. She is in the bakery at the moment.



9. There is a library between the school and the museum.



10-12. soruları verilen görsele göre cevaplayınız.

Hospital		R O S E	Police Station	Museum
Cafe	Pharmacy		Post Office	Bank
S C H O O L	L I B R A R Y	S T R E E T	Playground	Toyshop
			Bus Stop	Barber's
	Stationery		Restaurant	Bakery

10. The - - - - is next to the toyshop.

- A) barber's
B) playground
C) bus stop
D) bakery

11. Where is the restaurant?

- A) It's between the school and the stationery.
B) It's behind the café and the pharmacy.
C) It's opposite the bank, next to the toyshop.
D) It's in front of the bus stop and bakery.

12. Which of the following is **false**?

- A) The police station is next to the post office.
B) The pharmacy is opposite the stationery.
C) The bus stop is in the Rose Street.
D) The barber's is between the bus stop and the bakery.





Doğal Sayılarla İşlemler

1. $34\ 008 + 79\ 094$ işleminin sonucu kaçtır?

- A) 113 102 B) 113 002
C) 103 112 D) 103 102

2.
$$\begin{array}{r} 6\triangle\square\circ \\ 7\square\circ\triangle \\ + 8\circ\triangle\square \\ \hline \end{array}$$

$\triangle + \square + \circ = 19$ olduğuna göre yukarıdaki dört basamaklı sayılarla yapılan toplama işleminin sonucu kaçtır?

- A) 22 109 B) 23 009
C) 23 019 D) 23 109

3. $84\ 213 - 7196$ çıkarma işleminin tahmini sonucu aşağıdakilerden hangisi olabilir?

- A) 80 000 B) 77 000
C) 76 000 D) 73 000

4. 486×209 işleminin sonucu kaçtır?

- A) 145 314 B) 140 094
C) 101 574 D) 101 088

5.
$$\begin{array}{r} 9708 \overline{)24} \\ \underline{00} \\ 24 \\ \underline{00} \\ 24 \\ \underline{00} \\ 24 \end{array}$$

Yukarıdaki kalanlı bölme işleminde bölüm kaçtır?

- A) 24 B) 44 C) 104 D) 404

6. Bir trende 1453 yolcu seyahat edecektir.

Bu trende her bir vagon 49 yolcu alabildiğine göre en az kaç adet vagon gerekir?

- A) 28 B) 29 C) 30 D) 31

Doğal Sayılarla İşlemler

7. **4500 : 50 işleminin sonucunu bulmak için aşağıdaki-lerden hangisi yapılırsa doğru sonuca ulaşamaz?**

- A) 4500 sayısından iki sıfır silinip elde edilen sonuç 2 ile çarpılırsa
B) 45 sayısı 5'e bölünüp elde edilen sonucun sağına bir sıfır eklenirse
C) 4500 sayısı 10'a bölünüp elde edilen sonuç 5'e bölünürse
D) 450 sayısı 5'e bölünüp elde edilen sonucun sağına iki sıfır eklenirse

8. **Doğal sayılarla yapılan bir bölme işleminde bölen 6 olduğuna göre kalanın alabileceği değerler toplamı kaçtır?**

- A) 15 B) 10 C) 6 D) 3

9. $26 + 18 + 34 = 20 + 10 + 30 + 6 + 8 + 4$
 $= 60 + 18$
 $= 78$

Verilen işlem aşağıdaki yöntemlerden hangisi kullanılarak yapılmıştır?

- A) Kolay toplanan sayılardan başlama
B) Onlukları ve birlikleri ayırarak toplama
C) Üzerine sayarak toplama
D) Sayıları 10'u referans alarak parçalama

10.

$$\begin{array}{r} B \mid 16 \\ - \quad \mid 25 \\ \hline K \end{array}$$

Yukarıdaki doğal sayılarla yapılan bölme işlemine göre B'nin alabileceği en büyük değer kaçtır?

- A) 415 B) 405 C) 401 D) 400

11. I. 54×20
II. 58×30
III. 27×50
IV. 41×60

Yukarıdaki çarpma işlemlerinde çarpanlar en yakın onluğa yuvarlanarak işlemlerin sonuçları tahmin ediliyor.

Hangilerinin tahmini sonucu gerçek sonuçtan büyüktür?

- A) I ve II. B) II ve III.
C) II ve IV. D) III ve IV.

12.

$$\begin{array}{r} 4 \blacksquare 6 \\ \times 5 \blacktriangle \\ \hline 9 \bullet 2 \\ + 2480 \\ \hline 25792 \end{array}$$

Yukarıdaki çarpma işlemine göre $\blacksquare + \blacktriangle + \bullet$ kaçtır?

- A) 20 B) 17 C) 15 D) 13



Birey ve Toplum - 2

1. Elif okula başlayacağı için erkenden kalktı. Kahvaltısını yaptı ve annesi ile okulun yolunu tuttu. Okuldaki ilk gününde okulunu ve arkadaşlarını çok sevdi.

Elif'in okuldaki rolü aşağıdakilerden hangisidir?

- A) Öğrenci
B) Oyuncu
C) Çocuk
D) Öğretmen

2. Sorumluluklarını yerine getiren bir bireyin;

- I. daha az sorunla karşılaşması,
II. sık sık beklenmedik durumlar yaşaması,
III. başarılı ve mutlu olması

durumlarından hangileri ile karşılaşması beklenir?

- A) Yalnız II.
B) I ve II.
C) I ve III.
D) II ve III.

- 3.



Mehmet

Bir bölgede büyük bir fabrikanın açılması, farklı iş kollarının gelişmesini sağlar, bölgedeki eğitimi ve aynı zamanda insanların yaşamını etkiler.

Mehmet'in bu sözleri aşağıdakilerden hangisi ile daha çok bağlantılıdır?

- A) Olaylar toplum içinde hazır bulunur.
B) Bazı olaylar, aynı olaydan etkilenir.
C) Olaylar bir arada yaşamının sonucudur.
D) Bir olayın, birden çok sonucu olabilir.

4. Aşağıdaki öğrencilerden hangisi sosyal bilgiler dersinin kendi gelişimlerine katkısı ile ilgili yanlış bir örnek vermiştir?



Farklılıklara saygı gösteriyorum.



Yaşadığım çevreyi tanıyorum.



Yazım kurallarını biliyorum.



Kültürel mirası tanıyorum.

5. Aşağıdakilerden hangisi 6.sınıftaki Ömer'in okuldaki sorumluluklarından biri olamaz?

- A) Derse zamanında girmek
B) Kırılan tahtayı onarmak
C) Çantasını hazırlamak
D) Boşa akan musluğu kapatmak

6. I. Oy kullanmak,
II. Vergi vermek,
III. Odamızı düzenli tutmak,
IV. Askere gitmek

Yukarıda verilenlerden hangileri ülkemize karşı sorumluluklarımız arasında gösterilebilir?

- A) I ve II.
B) II ve III.
C) I, II ve IV.
D) II, III ve IV.

Birey ve Toplum - 2

7. Suriye’de yaşanan olaylardan dolayı Meryem’in mahallesine bu bölgeden göç hareketi olmuştur.

Meryem’in mahallesinde bu göçlerden sonra;

- I. konut ihtiyacının artması,
- II. nüfusun artması,
- III. işsizlik oranının düşmesi

gelişmelerinden hangilerinin yaşanması beklenir?

- A) Yalnız II.
- B) I ve II.
- C) I ve III.
- D) II ve III.

8. Sosyal bilgiler dersi insana saygılı olmanın toplumsal ilişkilerdeki önemini fark ettirir. İnsan hakları, ulusal egemenlik ve demokrasi gibi kavramlarla tanıştırır. Yaşamımızı demokratik kurallar çerçevesinde düzenlemeyi öğretir.

Buna göre aşağıdakilerden hangisi sosyal bilgiler dersi ile kazandırılmak istenen bir davranış değildir?

- A) Yasalara uyma
- B) Çıkarıcı olma
- C) Haklarını bilme
- D) Hoşgörülü olma

9. Aşağıdakilerden hangisi olayların çok boyutluluğu ile ilgili yanlış bir bilgidir?

- A) Bir olayın bir tek nedeni ve bir tek sonucu vardır.
- B) Bir olayın sonucu başka bir olayın sebebi olabilir.
- C) Bir olaydan birden çok kişi etkilenebilir.
- D) Aynı olay birçok insanı farklı biçimde etkileyebilir.

10. Aşağıdakilerden hangisi sosyal bilgiler dersinin kişinin gelişimine sağladığı faydalardan biri değildir?

- A) Dünyadaki farklı kültürleri tanımak
- B) Sorumluluk almaktan kaçınmak
- C) Çevremize karşı daha duyarlı olmak
- D) Hak ve sorumluluklarımızı bilmek

11.



Geçen hafta hasta olduğum için okula gidemedim. Babam beni hastaneye götürdü. Doktor benimle ilgilendi ve ilaç verdi. İlaçlarımı almak için eczaneye gittik. Doktorun tavsiyelerine uyduğum için kısa sürede iyileştim.

Buna göre Zeynep hangi hakkını kullanmıştır?

- A) Eğitime erişim hakkı
- B) Yeterli beslenme hakkı
- C) İfade özgürlüğü hakkı
- D) Sağlık hizmetlerine erişim hakkı

12. Aşağıdaki sorumluluklardan hangisi çocuklara verilirse Birleşmiş Milletler Çocuk Hakları Sözleşmesi ihlal edilmiş olmaz?

- A) Satranç kulübüne katılması
- B) İşçi olarak çalıştırılması
- C) Sokakta mendil satması
- D) Askere götürülmesi



Sözcükte Anlam - 2 (Sözcükler Arası Anlam İlişkisi - Söz Sanatları)

1. • I ve II. sözcük arasında zıt anlamlılık ilişkisi vardır.
• I ve III. sözcük arasında eş anlamlılık ilişkisi vardır.

Bu açıklamaya göre aşağıdakilerden hangisinde sözcükler yanlış sıralanmıştır?

I. Sözcük	II. Sözcük	III. Sözcük
A) Yarar	Zarar	Fayda
B) Uzak	Yakın	Irak
C) Yaş	Kuru	Islak
D) Doğal	Tabii	Yapay

2. **Aşağıdakilerin hangisinde altı çizili sözcükler eş sesli değildir?**

- A) Kırım hanları ile yapılan görüşme iyi geçmiş. Akşam karanlığında hana ulaştık.
B) Bizim kır evinde büyük bir kütüphane var. Ara sıra kır kokuları getiren bir rüzgâr esiyor.
C) Yarışmada iki kişiyi birden mat ettim. Çocuk odasındaki duvarın rengi çok mat olmuş.
D) Gurbet elde başına bir hâl gelmesin. Eline bir kitap alıp koltuğa yavaşça oturdu.

3. Gece konaklamalı bir kamp, dinginliği ve huzuru bulmak adına mükemmel bir etkinliktir. Anadolu toprakları, bu etkinlik için son derece elverişlidir. Dört mevsim kamp yapmaya müsait dağlarımız, yaylalarımız, göl kenarlarımız ve sahillerimiz var. Her türlü deneyim seviyesine uygun kamp rotalarımız sizleri bekliyor.

Bu parçada numaralanmış sözcüklerden hangisi anlamca diğerlerinden farklıdır?

- A) I. B) II. C) III. D) IV.

4. **Aşağıdaki atasözlerinin hangisinde zıt anlamlı sözcükler kullanılmıştır?**

- A) Dost için ölmeli, düşman için dirilmeli.
B) Akıllı, söylemeden düşünür; akılsız, düşünmeden söyler.
C) Kötülük her kişinin kârı, iyilik er kişinin kârı.
D) Alçak yerde yatma, sel alır; yüksek yerde yatma, yel alır.

5. • Onun kabiliyetli bir genç olduğunu hemen anlamış.
• Doğum günü için güzel bir hediye aldım.
• Trafikte uyarı levhalarına dikkat etmeliyiz.
• Bu sabah hastaneye çok erken gittik.

Aşağıdakilerden hangisi, bu cümlelerdeki altı çizili sözcüklerden herhangi birinin eş anlamlısı değildir?

- A) İkaz B) Armağan
C) Çabuk D) Yetenekli

6. • Soba borusundaki kurumu temizlerken elleri kapkara olmuştu.
• En son, dedesi ve babaannesi sağ iken köye gelmişlerdi.
• Çocuklar denize girip yüzmek için can atıyorlar.
• Gözlerinden, kırları artan sakalına bir iki damla yaş düştü.

Aşağıdakilerden hangisi, bu cümlelerdeki altı çizili sözcüklerden herhangi birinin eş seslisinin anlamı değildir?

- A) Derisini çıkarmak, derisini soyamak
B) Vücutta kalbin bulunduğu tarafın karşısında olan, sol karşıtı
C) Doğuştan beri geçen ve yıl birimi ile ölçülen zaman
D) Ocak bacalarında biriken veya çevrede savrulan kalın is

Sözcükte Anlam - 2 (Sözcükler Arası Anlam İlişkisi - Söz Sanatları)

7. Kalbim al renkli bir çiçek
Ruhum üstündeki böcek
Size sevgim büyük gerçek
Renk renk kokulu çiçekler

Bu dörtlükte geçen "ruh" sözcüğü aşağıdakilerden hangisine benzetilmiştir?

- A) Böcek
B) Sevgi
C) Çiçek
D) Kalp

8. Güneş ufuklara saptırken mızrak,
Şehirlerden uzak, köylerden uzak
Geçmiş günlerimi hep unutarak
Süslü rüyalara dalasım gelir.

Bu dörtlükte kişileştirilen unsur aşağıdakilerden hangisidir?

- A) Güneş
B) Ufuk
C) Şehir
D) Köy

9. Aşağıdaki dizelerden hangisinde kişileştirme vardır?

- A) Ah bu türküler, köy türküleri
Mis gibi insan kokar, mis gibi toprak
B) Bahçende çiçekler açsın hep böyle,
Gül eksik olmasın vazondan.
C) Akşam rüzgârları der ki Ali'ye
"Gözler ileriye, gönül ileriye!.."
D) Ateşin yeni bulunduğu çağlarda
Yine böyle yanardı bu lambalar

10. Gideceksin buralardan gün gelecek,
Yavaş yavaş kaybolacak bindiğin tren,
Eriyen karlar gibi içinden
Bütün sıkıntıların akıp gidecek.

Bu dörtlükte yer alan benzetmenin benzeyen ve benzetilen unsurları aşağıdakilerden hangisinde doğru verilmiştir?

	Benzeyen	Benzetilen
A)	Tren	Gün
B)	Gün	Tren
C)	Kar	Sıkıntı
D)	Sıkıntı	Kar

11. Uçsuz bucaksız köylerimizde kuşlar gibi
Her sabah çocuklar size uçar
Ama küçük, ama büyüyen, ama güleç
Alın benim gönlümden de o kadar.

Bu dörtlükle ilgili aşağıdakilerden hangisi söylenmez?

- A) İkileme kullanılmıştır.
B) "Güleç" sözcüğü mecaz anlamda kullanılmıştır.
C) Benzetme sanatından yararlanılmıştır.
D) Eş sesli sözcüğe yer verilmiştir.

12. Ahsen, yabancı dillerden alınmış, dilimize henüz yerleşmemiş sözcüklerin Türkçe karşılıklarını kullanmak istemektedir.

- I. Bu metodu gözden geçirmemiz gerekiyor.
II. Blender alırsak işimiz çok kolaylaşacak.
III. Şov yapmaya devam ederse uyaralım.
IV. Virajı geçince sağda bir konak var.

Buna göre aşağıdakilerden hangisini numaralanmış cümlelerdeki altı çizili sözcüklerden herhangi birinin yerine kullanamaz?

- A) Karıştırıcı
B) Gösteri
C) Kural
D) Dönemeç

