

Adı:
Soyadı:

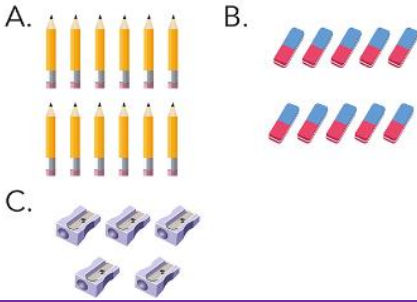


MATEMATİK Çalışma Kağıdı



Tarih
...../...../2018

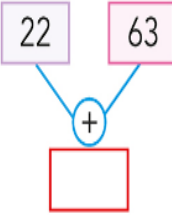
1-----
Aşağıdaki nesnelere hangisi bi
destedir?



2-----
3 ve 8 rakamları kullanarak oluştur
labilecek çift sayı aşağıdakilerden
hangisidir?

A. 33 B. 83 C. 38

3-----
Şemada verilen iş
lem yapıldığında boş
kutucuğa hangi sayı
yazılır?



A. 81 B. 83 C. 85

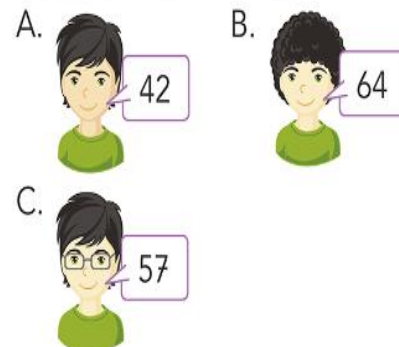
4-----

46 ile sayısını toplar
sam sonuç 64 olur.

Serpil'in ifadesindeki noktalı yere
hangi sayı yazılmalıdır?

A. 18 B. 22 C. 46

5-----
Aşağıdaki öğrencilerden hangisinin
söylediği sayı tek sayıdır?



6-----
Aşağıdaki toplama işlemlerinden
hangisinde elde 1'dir?

A. $49 + 17 + 28$
B. $37 + 25 + 18$
C. $18 + 22 + 13$

7-----
Aşağıda verilen sıralamalardan han
gisi doğrudur?

A. $25 < 22 < 38$
B. $42 < 52 < 62$
C. $63 < 78 < 54$

8-----

Yukarıdaki işlemde "▲" yerine han
gi rakam yazılmalıdır?

A. 1 B. 2 C. 4

9-----

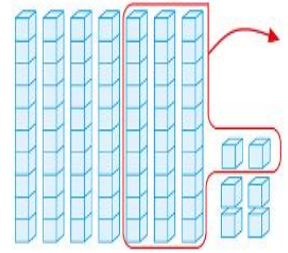
Yukarıda verilen çıkarma işlemlerinin
kaç tanesi doğru yapılmıştır?

A. 1 B. 2 C. 3

10-----
9 onluk ve 7 birlikten oluşan sayıdan
5 onluk ve 3 birlikten oluşan sayıyı
çıkartıyor. Asuman'ın bulduğu sonuç
aşağıdakilerden hangisidir?

A. 34 B. 42 C. 44

11-----

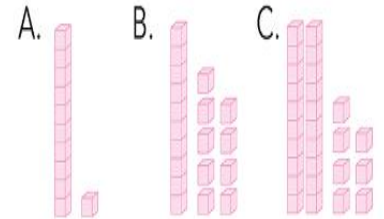


Onluk ve birlik bloklarla gösterilen
işlem aşağıdakilerden hangisidir?

A. $76 - 32$ B. $70 - 44$
C. $76 - 34$

12-----
Yandaki işlem sonucunun
modellenmiş hâli hangi se
çenekte verilmiştir?

$$\begin{array}{r} 43 \\ - 24 \\ \hline \end{array}$$

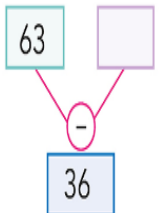


13-----

Yukarıda modellenen işlemde 62
sayısından hangi sayı çıkarılmıştır?

A. 22 B. 40 C. 62

14-----
Şemada belirtilen iş
lem yapıldığında boş
kutucuğa hangi sayı
yazılır?



A. 27 B. 33 C. 36

15-----
Aşağıdaki sayılardan hangisi 53 - 14 işleminin sonucu için en yakın tahmindir?

- A. 40 B. 45 C. 50

16-----

20 + 10
Sefa

Berk 40 + 10

30 + 10
Eda

Kimin zihinden yaptığı işlemin sonucu 30'dur?

- A. Sefa B. Eda C. Elif

17-----

25 kr. 70 kr.

Emrah kırtasiyeden yukarıdaki silgiden 2 tane, kaleminden 1 tane aldı.

Buna göre, toplam kaç kr. ödemiştir?

- A. 95 B. 120 C. 195

18-----

Birinci gün hikâye kitabımın 37 sayfasını, ikinci gün 19 sayfasını okudum.

Ekin, iki günde kaç sayfa kitap okumuştur?

- A. 56 B. 66 C. 76

TÜRKÇE ALTIN YUMURTLAYAN TAVUK




Bir varmış bir yokmuş. Bir zamanlar sevimli küçük bir köyde yaşayan yoksul bir köylü varmış. Bu köylünün bir de tavuğu varmış. Köylü bu tavuğu çok sevmiş. Tavuk da ona her gün bir yumurta yaparmış. Ama bu yumurtaların ilginç bir özelliği varmış. Yumurtalar altındanmış. Köylü her gün kümeden aldığı altın yumurtayı şehre götürür ve kuyumcuya satarmış.

1-----
Aşağıdakilerden hangisi metinde sözü edilen köylünün özelliklerinden biri **değildir**?

- A. Yoksul olması
B. Çalışkan olması
C. Köyde yaşaması

2-----
Köylünün çok sevdiği hayvan hangisiymiş?



3-----
Aşağıdakilerden hangisi bu metinde geçen karşıt anlamlı sözcüklerdir?

- A. Köy - köylü
B. İlginç - özellik
C. Var - yok

4-----
1. başarılı 2. oldum
3. için 4. çalıştığım
Yukarıdaki sözcüklerle anlamlı ve kurallı bir cümle oluşturulursa sıralama nasıl olur?

- A. 4 - 3 - 1 - 2
B. 2 - 3 - 4 - 1
C. 1 - 3 - 4 - 2

5-----
Hangi cümle bir duyguyu anlatmaktadır?

- A. Fatih içeri girdi.
B. Eda'yı görünce çok seviyorum.
C. Derslerine çok çalışıyor.

6-----
Aşağıdaki cümlelerin hangisinde olumsuz bir yargı kullanılmıştır?

- A. Bu sınav zordu.
B. Ablam eve gelmedi.
C. Bütün soruları yaptım.

7-----
"Uyuma çünkü" cümlesinde boş bırakılan yere aşağıdakilerden hangisi gelmelidir?

- A. canım istedi.
B. gideceğiz.
C. uykun gelmiş.

8-----
"Bilgili olmamın nedeni" cümlesindeki boş bırakılan yere aşağıdakilerden hangisi gelmelidir?

- A. hep oyun oynamamdır.
B. fazla müzik dinlememdir.
C. çok araştırma yapmamdır.

9-----
Aşağıdakilerden hangisinde verilen sözcüklerin tamamı doğru yazılmıştır?

- A. • kelebek • fülüt • mektup
B. • kelebek • flüt • mektup
C. • kelebek • filüt • mektup