

Adı:
Soyadı:



TÜRKÇE
Çalışma Kağıdı



Tarih
...../...../2017

1-----Mini Test-----

Aşağıdaki olayları oluş sırasına göre sıralarsak **ilk cümle** hangisi olur?

- A. Üzerinde 10 ₺ yazıyordu.
- B. Bununla elma şekeri ve balon alabilirdi.
- C. Küçük kız, dedesinin verdiği paraya baktı.

2-----

"Top" deyince aklımıza hangi oyun gelmez?

- A) futbol
- B) saklambaç
- C) basketbol

3-----

Aşağıdaki kelimelerden hangisinin eş anlamısı yanlış yazılmıştır?

Kelime	Eş Anlamısı
A) fayda	yarar
B) tür	çeşit
C) kirlî	dağınık

4-----

Aşağıdaki cümlelerin hangisinde eş anlamı kelimeler birlikte kullanılmıştır?

- A) Kıyafetlerimi giysi dolabına yerleştirdim.
- B) Kıyıda irili ufaklı taşlar topladım.
- C) Bugün gelmezse yarın mutlaka gelir.

2/F Sınıf Öğretmeni ENES SERT

-----Olayların-----Oluş Sırası-----

Sonra kozanın içinde değişim geçirir.
En sonunda kanatları kuruyan kelebek uçar.
Tırtıl önce kendine bir koza örür.
Daha sonra tırtıl kazadan ıslak kanatlarıyla çıkar.

2-----Ne-----Çağrıştırıyor-----

Aşağıdaki sözcüklerden aklınıza gelen iki kelime yazınız.

çiçek		elma	
kalem		dağ	

3-----Eş-----Anlamlı-----Kelimeler-----

KELİME	EŞ ANLAMI
hızlı	süratli
siyah	
küçük	
isim	
yarar	
fert	birey
vazife	
cevap	
cümle	
vatan	

-----Zeka-----Sorusu-----

10 tilki, 8 kedi, 20 tavuk ne yapar?

Adı:
Soyadı:



Matematik
Çalışma kağıdı



Bir Atasözü
Aç ayı oynamaz ne demektir?

-----Çıkarma---İşlemleri-----


$$\begin{array}{r} 54 \\ - 14 \\ \hline \end{array} \quad \begin{array}{r} 46 \\ - 29 \\ \hline \end{array} \quad \begin{array}{r} 76 \\ - 28 \\ \hline \end{array}$$

$$\begin{array}{r} 90 \\ - 47 \\ \hline \end{array} \quad \begin{array}{r} 81 \\ - 36 \\ \hline \end{array} \quad \begin{array}{r} 62 \\ - 43 \\ \hline \end{array}$$

-----Yan---Yana---Çıkarma---İşlemi-----



$81 - 25 = \dots\dots$



$67 - 38 = \dots\dots$

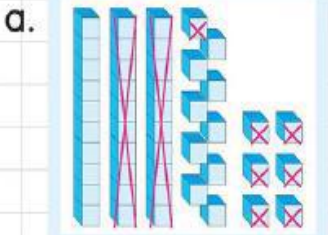


$84 - 68 = \dots\dots$

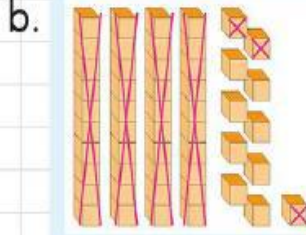


$56 - 37 = \dots\dots$

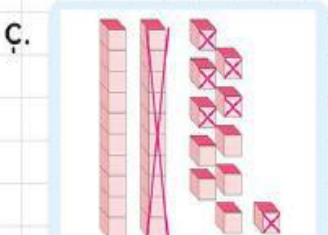
-----Modellerle---Çıkarma---Yapalım-----



$46 - 27 = \dots\dots$



$51 - \dots\dots = \dots\dots$



$31 - 16 = \dots\dots$



$53 - \dots\dots = \dots\dots$

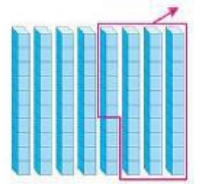
5-----Problem-----

Cemal'in babası Cemal'e 15 lira verdi. Önceden 19 lirası vardı. Daha sonra parasının 18 lirasını harcadı. Cemal'in cebinde kaç parası kaldı?

ÇÖZÜM:(iki işlemli)

6-----

Yanda onluk taban bloklarıyla modellenen işlem aşağıdakilerden hangisidir?



- A) 80-36 B) 70-35 C) 90-48

7-----

Bir ağaçta 32 tane kuş vardı. Bu kuşlardan 15 tanesi uçtu.

Ağaçta kaç kuş kaldı?

- A) 17 B) 20 C) 23

8-----

Cebinde 90 lirası olan Yavuz Bey, bir mağazada gördüğü kazağı satın alıyor.

Kazağı aldıktan sonra Yavuz Bey'in kaç lirası kalmıştır?



- A) 33 B) 42 C) 43