

Aşağıdaki zaman ölçülerini istenilen ölçü birimi cinsinden örnekteki gibi yapalım.

3 saat  $\Rightarrow 3 \times 60 = 180$  dk  
7 saat  $\Rightarrow \dots = \dots$  dk  
8 saat  $\Rightarrow \dots = \dots$  dk  
2 saat  $\Rightarrow \dots = \dots$  dk  
10 saat  $\Rightarrow \dots = \dots$  dk  
9 saat  $\Rightarrow \dots = \dots$  dk

120 dk  $\Rightarrow 120 \div 6 = 2$  sa  
240 dk  $\Rightarrow \dots = \dots$  sa  
180 dk  $\Rightarrow \dots = \dots$  sa  
360 dk  $\Rightarrow \dots = \dots$  sa  
480 dk  $\Rightarrow \dots = \dots$  sa  
720 dk  $\Rightarrow \dots = \dots$  sa

180 sn  $\Rightarrow 180 - 60 = 3$  dk  
300 sn  $\Rightarrow \dots = \dots$  dk  
420 sn  $\Rightarrow \dots = \dots$  dk  
540 sn  $\Rightarrow \dots = \dots$  dk  
660 sn  $\Rightarrow \dots = \dots$  dk  
780 sn  $\Rightarrow \dots = \dots$  dk  
840 sn  $\Rightarrow \dots = \dots$  dk  
600 sn  $\Rightarrow \dots = \dots$  dk

Aşağıdaki etkinlikte doğru olanların başına "D", yanlış olanların başına "Y" yazalım.

- Hz. Muhammed Allah'ın insanlara doğruyu öğretmek için gönderdiği ilk peygamberdir.
- Hz. Muhammed'in doğduğu şehir Mekke'dir.
- Medine, Kabe'nin bulunduğu şehirdir.
- Arabistan'da, İslamiyet'ten önce insanlar putlara tapardı.
- Hz. Muhammed 751 yılında Mekke'de doğdu.
- Hz. Muhammed'in annesinin adı Amine'dir.
- Hz. Muhammed'in babasının adı Ebubekir'dir.
- Hz. Hatice peygamberimizin eşi olur.
- Peygamberimiz beş yaşına kadar annesi ve babasıyla Mekke'de yaşadı.
- Annesinin ölümünden sonra peygamberimize dedesi Ebutalip bakmıştır.

Aşağıdaki cümlelerde eksik bırakılan yerleri uygun sözcüklerle dolduralım.

Hira Mağarası kutlu doğum

Medine Mekke'den Medine'ye

Cebrail Medine'den Mekke'ye

ticaret Muhammed'ül Emin

Hz. Ebubekir Halime 632

- Peygamberimizin süt annesinin adı .....'dir.
- Hz. Muhammed amcası ile birlikte ..... yaparak geçimini sağlıyordu.
- Hz. Muhammed'e güvenilir olduğu için ..... deniyordu.
- Peygamberimizin Allah'a dua etmek için gittiği ve ilk vahyin geldiği yer .....'dir.
- Hz. Muhammed 622 yılında ..... hicret etmiştir.
- Hicret sırasında peygamberimizin yanında ..... vardı.
- Hz. Muhammed ..... yılında ..... 'de vefat etmiştir.
- Hz. Muhammed'e vahiyler ..... aracılığıyla geliyordu.
- Peygamberimizin doğumu olan günleri ..... haftası olarak kutluyoruz.

## Look and match.

1 Ruler

2 Pencilcase

3 Eraser


4 Scissors

5 Desk

6 School bag

7 Black board

8 Book



"a" or "an"

..... student

..... book

..... eraser

..... pencil

..... apple

..... teacher

● Aşağıdakilerden ihtiyaç olanların başında kutuyu **maviye**, istek olanları **pembeye** boyayınız.

Tatile çıkmak

Su içmek

Kitap okumak

Bot almak

Parkta oynamak

Çorap almak

İlacımı almak

Doktora gitmek

Simit almak

### BİR SORU


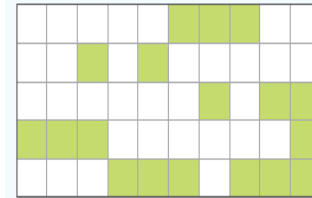

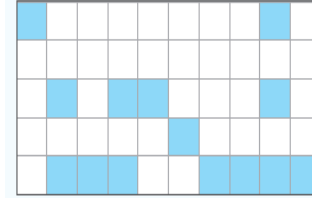
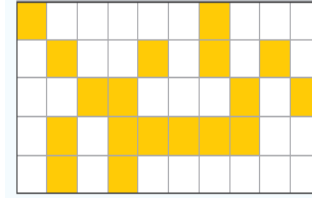
- ( ) Teknolojik gelişmeler sonucu birçok meslek günümüzde önemini yitirmiştir.  
( ) Günümüzde nalbantlık, hattatlık gibi meslekleri yapanlar çok azdır.  
( ) Hasta bakıcılık günümüzde önemini yitiren mesleklerden biridir.

**Yukarıdaki ifadeleri "Doğru, Yanlış" olarak değerlendireceğiz. Hatasız bir değerlendirme hangi seçenekteki gibi olmalıdır?**

- A) (D) (Y) (D)  
B) (Y) (Y) (D)  
C) (D) (D) (Y)  
D) (Y) (D) (Y)

### AYNISI OLSUN

Kareli zeminde verilen şekillerin aynısını yan tarafta oluşturunuz.



### EN SON SAYI KAÇ?

Baştaki sayıdan başlayarak işlemleri sırası ile yapınız.

Başla	20	÷ 2		× 4	
					÷ 2
× 6		+ 18			
			÷ 4		- 4
÷ 5			?		
					+ 24
- 2					
	+ 1		× 7		÷ 5