

1. Aşağıdaki cümlelerin hangisinde yazım yanlışı vardır?

- A) 29 nisan benim doğum günüm.  
B) Anıtkabir gezimiz güzel geçti.  
C) Antalya'ya gidecekler.  
D) Babam İzmir'den döndü.

2. "pazardan bir yığın yiyecek aldı." cümlesinde kaçınıcı kelime yanlış yazılmıştır?

- A) 1 B) 2 C) 3 D) 4

3. Yaz tatiline fransaya uçakla gittiler.  
1 2 3 4 5

Cümlesinde hangi kelimenin ilk harfi büyük yazılmalıdır?

- A) 1 B) 2 C) 3 D) 4

4. "hekim-doktor" kelimeleri arasında nasıl bir anlam ilişkisi vardır?

- A) Eş sesli kelime.  
B) Eş anlamlı kelime.  
C) Zıt anlamlı kelime.  
D) Yakın anlamı kelime.

5. Aşağıdaki kelimelerden hangisinin eş anlamlısı yoktur?

- A) kırmızı B) beyaz  
C) siyah D) mor

6. Aşağıdakilerden hangisi cümle sonunda bulunmaz?

- A) (.) B) (!) C) (,) D) (?)

7. Aşağıda verilen noktalama işaretlerinin hangisinden sonra yazılan kelime daima büyük harfle başlar?

- A) (.) B) (;) C) (...) D) (-)

8. Binler basamağındaki rakamın basamak değeri "8000" olan doğal sayı aşağıdakilerden hangisidir?

- A) 16 845 B) 874 128  
C) 28 446 D) 282 413

9.

Birler bölümü : 204

Binler bölümü : 29

Yukarıda bölükleri verilen doğal sayı aşağıdakilerden hangisidir?

- A) 20 429 B) 29 204  
C) 290 204 D) 204 290

10. 73 625 doğal sayısının onlar ve binler basamağındaki rakamların yerleri değiştirildiğinde oluşan yeni sayı aşağıdakilerden hangisidir?
- A) 72 635                      B) 37 625  
C) 75 623                      D) 76 325

60 534

11. Yukarıda verilen sayının çözümlenmiş hali aşağıdakilerden hangisidir?
- A)  $(6 \times 10\ 000) + (5 \times 1000) + (1 \times 100) + (3 \times 10) + (4 \times 1)$   
B)  $(6 \times 10\ 000) + (5 \times 1000) + (3 \times 10) + (4 \times 1)$   
C)  $(6 \times 10\ 000) + (5 \times 1000) + (3 \times 10) + (4 \times 1)$   
D)  $(6 \times 10\ 000) + (5 \times 100) + (3 \times 10) + (4 \times 1)$

12. 3 yüz binlik + 5 on binlik + 7 binlik + 4 birlik

- Yukarıda çözümlenmesi verilen sayı aşağıdakilerden hangisidir?
- A) 357 400                      B) 357 040  
C) 357 004                      D) 35 704

13. I. Geçmişteki yeryüzü şekillerini anlamamızı sağlar.  
II. Nesli tükenmiş canlıları tanımamızı sağlar.  
III. Fosil yakıtlar oluşur.  
IV. Bitki örtüsü hakkında bilgi verir.

Yukarıdakilerden hangileri fosillerin sağladığı yararlardandır?

- A) I, IV                              B) I, II, III ve IV  
C) II, III ve IV                      D) Yalnız II

14. 1. Fosiller yüzeyde açığa çıkar.  
2. Tortuların altta kalan katmanları taşlaşır ve kalıntılar sertleşerek fosili oluşturur.  
3. Ölmüş hayvanların kalıntıları yavaş yavaş tortul tabakası ile örtülür.  
4. Kayalar kıvrımlanır ve aşınmaya uğrar.

Fosilleşmenin aşamaları karışık olarak verilmiştir. Fosilleşmenin doğru sıralaması aşağıdakilerden hangisidir?

- A) 3 - 2 - 4 - 1  
B) 2 - 3 - 1 - 4  
C) 1 - 2 - 3 - 4  
D) 3 - 4 - 2 - 1

15. Fosiller ile ilgili çalışma yapan bilim insanı

fosil

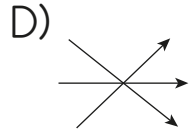
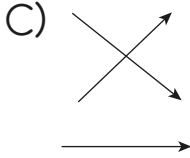
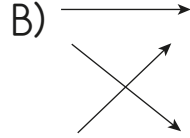
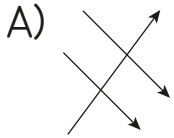
Fosilleri inceleyen bilim dalı.

paleontoloji

Taşlaşmış canlı kalıntıları.

paleontolog

Yukarıdaki kavramlar ve tanımlar eşleştirildiğinde hangi şekil oluşur?



16. Aşağıda verilen tarihi olaylardan hangisi ilk önce gerçekleşmiştir?
- A) Atatürk'ün Samsun'a çıkışı - 1919  
B) Cumhuriyet'in ilanı - 1923  
C) TBMM'nin açılması - 1920  
D) Kurtuluş Savaşı'nın kazanılması - 1922

17. 1. 2019'da 4. sınıfa başladım.  
2. 2016'da 1. sınıfa başladım.  
3. 2009 yılında doğdum.  
4. 2014'te anaokuluna başladım.  
5. 2010 yılında yürümeye başladım.

Yukarıdaki olayların kronolojik sıralaması hangisidir?

- A) 1 - 2 - 3 - 4 - 5  
B) 3 - 5 - 4 - 2 - 1  
C) 3 - 4 - 5 - 1 - 2  
D) 5 - 4 - 3 - 1 - 2

18.

Olayların oluş sırasına göre sıraya konulmasına ..... denir.

Yukarıdaki tanımda boş bırakılan yere aşağıdakilerden hangisi gelmelidir?

- A) Açıklama  
B) Sıralama  
C) Kronoloji  
D) Gruplandırma