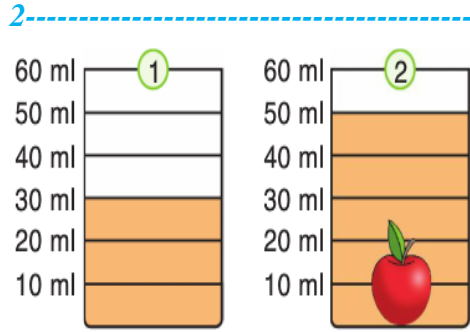
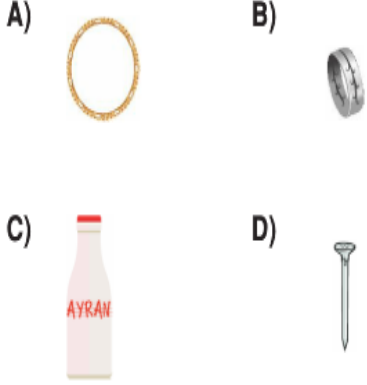


Adı:
Soyadı:

FEN-SOSYAL
Tema Değerlendirme

Tarih
...../...../2020

1-----
Aşağıdaki maddelerden hangisi karışım-
dır?



Silindirik kabın içine atılan elmanın hacmi ne kadardır?

- A) 10 B) 20 C) 30 D) 40

3-----
“Dondurma, sıcak bir ortama bırakıldığında erimeye başlar ve sıvı hâle geçer.”

Yukarıda ifade edilen durum aşağıdaki-
lerden hangisidir?

- A) Çözelti B) Çözünme
C) Saf madde D) Hâl değişimi

4-----
Kütle, hacim ve sıcaklık ölçümünde kul-
lanılan araçlarla ilgili hangisi doğrudur?

- | Hacim | Sıcaklık | Kütle |
|-----------------|--------------|------------|
| A) termometre | dereceli kap | terazi |
| B) terazi | dereceli kap | termometre |
| C) dereceli kap | terazi | termometre |
| D) dereceli kap | termometre | terazi |

5-----
I. Miknatısla ayırma
II. Yüzdürme
Yukarıda verilen ayırma yöntemlerinin
her ikisi de kullanılarak ayrılan karışım,
aşağıdakilerden hangisi olabilir?

- A) Demir tozu – Kum – Talaş
B) Demir tozu – Kum
C) Kum – Tuz
D) Tuzlu su

6-----
Aşağıdakilerden hangisi ışık kaynağı
değildir?


- A) Güneş B) Yıldızlar
C) Şimşek D) Ay

7-----
Aşağıdakilerden hangisi doğal ses kay-
nağıdır?

- A) Gök gürültüsü B) Radyo sesi
C) Telefon sesi D) Araba kornası

8-----
Işık kaynakları ile ilgili verilen eşleştir-
melerden hangisi doğrudur?

- | Doğal | Yapay |
|-------------------|--------|
| A) Mum | Güneş |
| B) Meşale | Ayna |
| C) Ateş böceği | Meşale |
| D) Floresan lamba | Şimşek |



Aydınlatma teknolojilerinin geçmişten
günümüze doğru sıralandığı yukarıdaki
görselde hangi numaralarda hata yapılmıştır?

- A) 1 ve 2 B) 2 ve 3
C) 3 ve 5 D) 4 ve 5

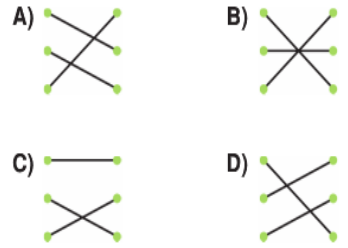
10-----
 Kamyon ve otomobil aynı ulaşım grubundadır.
 Teknoloji hayatımızı zorlaştırır.
 Stetoskop sağlık alanındaki bir üründür.
İfadelere doğru ise “D”, yanlış ise “Y” yazılırsa hangi seçenek doğru olur?

- A) D Y D Y
B) D D D Y
C) Y D D Y
D) D D D Y

11-----

Metro	Eğitim
Projeksiyon	Sağlık
Ultrason	Ulaşım

Teknolojik ürünler ve alanları eşleştir-
mesi hangi seçenekte doğru verilmiştir?



12-----
Aşağıdakilerden hangisinin kullanım alanı farklıdır?

- A) cep telefonu B) telefon
C) gözlük D) televizyon

13-----
Leonardo Da Vinci
Orville ve Wilbur Kardeşler

Yukarıdaki isimler hangisi üzerinde çalışmalar yapmıştır?

- A) ampul B) otomobil
C) uçak D) telgraf

14-----
İlk kez yeni bir araç, aygıt yaratma işine denir.

Yukarıdaki tanım aşağıdakilerden hangisine aittir?

- A) mucit B) icat
C) malzeme D) sorun

15

beslenme	şık giyinme
nefes alma	barınma
gezme	soğuktan korunma

Yukarıdakilerden kaç tanesi ihtiyaçtır?

A) 6 B) 5 C) 4 D) 3

16

Tarım	Turizm
Ormancılık	Madencilik
Hayvancılık	Ulaşım

Yukarıdakilerin bütünü aşağıdakilerden hangisini oluşturur?

- A) Eğitsel faaliyetler
B) Kültürel faaliyetler
C) Ekonomik faaliyetler
D) Sosyal faaliyetler

17

Aşağıdakilerden hangisi insanların sosyal ve kültürel ihtiyaçlarından?

- A) yemek yemek B) tiyatroya gitmek
C) uyumak D) çalışmak

18

- I. İhtiyaçlarımız isteklerden önemlidir.
II. İsteklerimiz karşılanmadığında yaşayamayız.
III. İstekler kişiden kişiye değişebilir.

Yukarıdaki ifadelerden hangisi veya hangileri doğrudur?

- A) Yalnız I B) Yalnız II
C) I ve II D) I ve III

19

Buğday yetiştirmek, kumaş dokumak, otomobil parçası yapmak vb. gibi örnekleri olan kavram aşağıdakilerden hangisidir?

- A) tüketim B) dağıtım
C) depolama D) üretim

20

Aşağıdaki barkod sayılarının baş kısmı verilen ürünlerden hangilerinin Türkiye'de üretildiğini anlarız?

- A) 9001-9002 B) 1001-1002
C) 768-769 D) 868-869

21

Ziraat mühendisliği hangi alanla ilgili çalışmalar yapar?

- A) inşaat B) tarım
C) maden D) ulaşım

22

- TSE, ürünün standartlara uygun olduğunu gösterir.
 Ürünleri alırken reklamına ve ambalajına dikkat ederek almalıyız.
 Ürünleri ihtiyaç listemize göre almalıyız.

Yukarıdaki ifadelerle doğru ise "D", yanlış ise "Y" yazılırsa hangi seçenek doğru olur?

- A) D B C D
 D Y Y D
 D D Y Y

23

Aşağıdakilerden hangisi aile bütçesi oluştururken dikkat etmemiz gereken bir durumdur?

- A) Sadece çocukların istekleri yapılmalıdır.
B) Gelir ve giderler hesaplanıp yapılmalıdır.
C) Mutlaka isteklerimizi yazmalıyız.
D) Giderlerin fazla olmasının bir önemi yoktur.

24

Mert on yaşında bir öğrencidir.

Aşağıdakilerden hangisi Mert'in gideri olamaz?

- A) taksitler B) okul harçlığı
C) beslenme D) kitaplar

25

Aşağıdakilerden hangisi zaman israfını önlemeye yöneliktir?

- A) Oyuna, televizyona, uykuya, bilgisayara gereğinden fazla vakit ayırmamalıyız.
B) Gereksiz ışıkları söndürmeliyiz.
C) Muslukları açık bırakmamalıyız.
D) Kâğıtları geri dönüşüm kutularına atmamız.

25

Tanımlar	Kavramlar		
	▲	●	★
Bir kimsenin belirli bir sürede kazandığı ücret.			
Bir iş için harcanan paranın bütünü.			
Tasarlanan gelir giderlerin tümü.			

Gelir: ★ Gider: ▲ Bütçe: ●

Yukarıdaki tablo, tanımlara uygun kavramlara ✓ atarak doldurulduğunda hangi seçenek doğru olur?

- A)

✓		
	✓	
		✓

 B)

	✓	
✓		
		✓
- C)

		✓
✓		
	✓	

 D)

✓		
		✓
	✓	

26




Aşağıdakilerden hangisi "Tüketebileceğin Kadar Al!" sloganına uygun bir üründür?

- A) su B) zaman
C) ekmek D) emek

27

Giyecelerimiz tek tek değil, biriktirip topluca ütölemek.	• • Elektrik israfı
Gereğinden fazlasını almamak ve kalanını uygun koşullarda saklamak.	• • Ekmek israfı
Bilgilerimizi bilgisayar ortamında korumalı ve iletmeliyiz.	• • Kâğıt israfı

Yukarıdaki ifadeler ve kavramlar eşleştirmesi hangi seçenekte doğru verilmiştir?

- A)  B) 
- C)  D) 