

Adı:  
Soyadı:

**TÜRKÇE-MATEMATİK**  
**Tema Değerlendirme**

**Tarih**  
...../...../2020

1-----


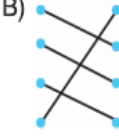

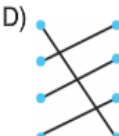
"Düş" kelimesi hangi cümlede peşinden gitmek anlamında kullanılmıştır?

- A) Kötü bir düş gördüm.  
B) Sen de onun ardına düş.  
C) Sen git merdivenlere takıl düş!  
D) Düşlerimle yaşıyorum.

2-----

1. • uzak  
2. • balık  
3. • bulut  
4. • soru

Yukarıdaki kelimelerin alfabetik olarak numaraları ile eşleştirilmesi hangi seçenekte verilmiştir?

- A)  B)   
C)  D) 

3-----

Aşağıdaki ifadelerden hangisi nokta ile ilgili **değildir**?

- A) Tarih ve saat aralarına yazılır.  
B) Tamamlanmamış her cümlenin sonuna yazılır.  
C) Kısaltmalardan sonra yazılır.  
D) Tamamlanmış cümlelerin sonuna yazılır.

4-----

Sonunda istediği kitabı alan Derin, büyük bir mutlulukla kitapçıdan çıktı. Bir an önce eve gidip, kitabı okumak için heyecanlanıyordu. Az değil tam bir haftadır bu kitabın kitapçıya gelmesini beklemişti.

Yukarıdaki paragraf metnin hangi bölümüne örnek olarak verilebilir?

- A) giriş B) gelişme  
C) sonuç D) ara bölüm

5-----

- I. Gerçek bir tehlike düşüncesinin uyandırdığı kaygı duygusu.  
II. Bir isteğin veya özlemin yerine geldiğinde duyulan sevinç.  
III. Bir şeye karşı aşırı ve sonu gelmez istek tutku.

Yukarıda tanımları verilen kelimeler hangi seçenekte doğru verilmiştir?

- |    | I     | II       | III    |
|----|-------|----------|--------|
| A) | hırs  | sevinç   | üzüntü |
| B) | sevgi | saygı    | inat   |
| C) | korku | mutluluk | hırs   |
| D) | korku | üzüntü   | amaç   |

6-----

Dünya edebiyatının en önemli eserleri arasında gösterilen Küçük Prens kitabının birçok dünya diline çevirisi yapılmıştır. Kitabın yazarı Fransız pilot Antonie de Saint- Exupéry'dir. Yazar Küçük Prens'i asteroid B612 gezegeninden alıp, Dünya'mızla tanıştırır. Bu tanıştirma çok sevilmiştir ki 2017 yılında 300 Dünya diline çevrilmiştir.

Yukarıdaki metnin türü nedir?

- A) Tarihi B) Bilimsel  
C) Fantastik D) Bilgilendirici

7-----

Aşağıdakilerden hangisi yansıma kelimelerine örnektir?

- A) gürül gürül B) önce sonra  
C) sapsarı D) adım adım

8-----

Aşağıdaki kelimelerden hangisi cümleye göre anlam kazanır?

- A) üç B) beş C) yüz D) doksan

9-----

Buyruk - Emir

Yukarıdaki kelimeler arasındaki ilişkinin aynısı hangi seçenekte vardır?

- A) soru- cevap B) kol - kanat  
C) eğri - büğrü D) çehre - yüz

10-----

Herhangi bir amaca erişmek, bir kuvvete karşı koyabilmek için bir kişi veya topluluğun gücü, sürekli çabası, savaşı.

Yukarıda açıklaması verilen kelime hangisidir?

- A) müracat B) mükemmellik  
C) mücadele D) mühür

11-----

Sokakta karşılaştığımızda beni lafa boğdu.

Yukarıdaki deyimın açıklaması hangi seçenekte verilmiştir?

- A) Güzel ve akıcı konuşmak.  
B) Karşısındaki söz söylemesine fırsat vermemek.  
C) Yorgun ve düzensiz söze başlamak.  
D) Bir anda lafı bitirmek.

12-----

Yaşlı Kadın:

Yavaşça yerinden kalkar.  Neden bu eve geldik? Anlatın bileyim.

Yukarıdaki kutucuklar içine gelmesi gereken işaret hangi seçenekte verilmiştir?

- A) (, ) B) -, C) ?,? D) ..

13-----

"Bir yerimiz acıdığında bütün vücudumuz rahatsız olur, ağrılarımız artar."

Yukarıda açıklaması verilen atasözü aşağıdakilerden hangisidir?

- A) Acı patlıcanı kırağı çalmaz.  
B) İnsanın canı acıyan yerindedir.  
C) Acıyan uyumuş, acıkan uyumamış.  
D) Sabır acıdır, meyvesi tatlıdır.

14-----

"İnsanların söyledikleri ..... yaptıkları da önemli."

Yukarıda ifadede boşluk kısmına hangisini yazarsak karşılaştırma yapmış oluruz?

- A) için B) kadar  
C) gibi D) ile

15

Yusuf, her gün 1 saat 35 dakika ders çalışmaktadır.

Yusuf bir haftada kaç dakika ders çalışmış olur?



- A) 665 B) 670  
C) 705 D) 790

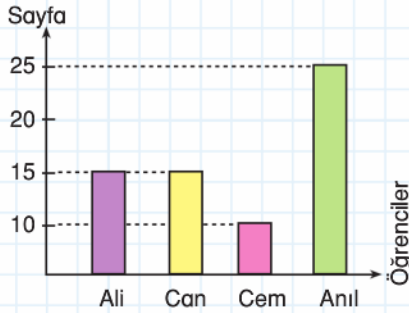
16

10.09.1989 yılında doğan Nazım, 10.09.2020 de kaç yaşında olur?

- A) 28 B) 29 C) 30 D) 31

17

Grafik: Öğrencilerin Okuduğu Sayfa Sayısı



Grafiğin türü nedir?

- A) pasta B) sütun  
C) nesne D) mum

18

Okunan toplam sayfa sayısı kaçtır?

- A) 50 B) 60 C) 65 D) 70

19

Ali ile Anıl'ın okuduğu sayfalar toplamı ile Can ve Cem'in okuduğu sayfalar toplamı farkı kaçtır?


- A) 30 B) 25 C) 15 D) 10

20

Grafiğe göre hangi ifadeye ulaşamayız?

- A) Okunan sayfa sayısı toplamına  
B) Okunan kitap türlerine  
C) En fazla ve en az sayfa okuyan kişilere  
D) Kaç öğrencinin kitap okuduğuna

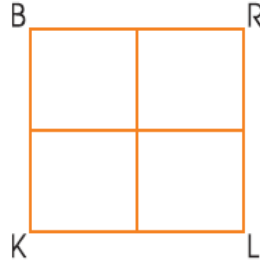
21



Aşağıda verilen kenarlardan hangisi yukarıdaki dikdörtgene ait **değildir**?

- A) SL B) CM  
C) MS D) ML

22



$|BR| = 8$  cm  $|BK| = 4$  cm  
Yukarıdaki BRLK dikdörtgeninin bütün kenarları iki eş parçaya ayrılacak şekilde bölünmüştür.

Buna göre şekilde kaç tane kare vardır?

- A) 2 B) 3 C) 4 D) 5

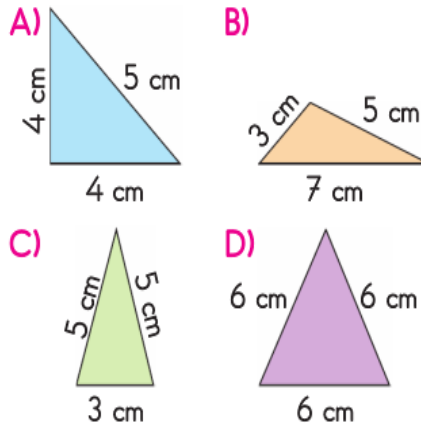
23

Hangisi dikdörtgenin özelliklerinden biri **değildir**?

- A) 4 köşesi vardır.  
B) Karşılıklı kenarlarının uzunlukları eşittir.  
C) Bütün kenarları eşittir.  
D) 4 kenarı, vardır.

24

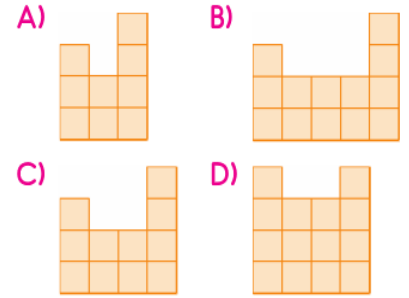
Aşağıdaki üçgenlerden hangisi çeşitkenar üçgendir?



25

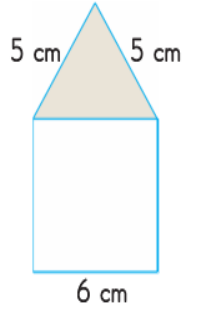


İzometrik kağıtta birim küplerle çizilen modelin önden görünümü aşağıdakilerden hangisidir?



26

Kare ve üçgen- den oluşan yandaki şekilde karenin bir kenarı 6 cm'dir.



Buna göre, iki kenar uzunluğu

verilen boyalı üçgen ile ilgili hangisi doğrudur?

- A) Çeşitkenar üçgendir.  
B) Eşkenar üçgendir.  
C) 4 köşesi, 4 kenarı vardır.  
D) İkizkenar üçgendir.

27



Aşağıdakilerden hangisi verilen bu dikdörtgenin kenarlarından biri **değildir**?

- A) BA Kenarı  
B) AC Kenarı  
C) DA Kenarı  
D) CD Kenarı